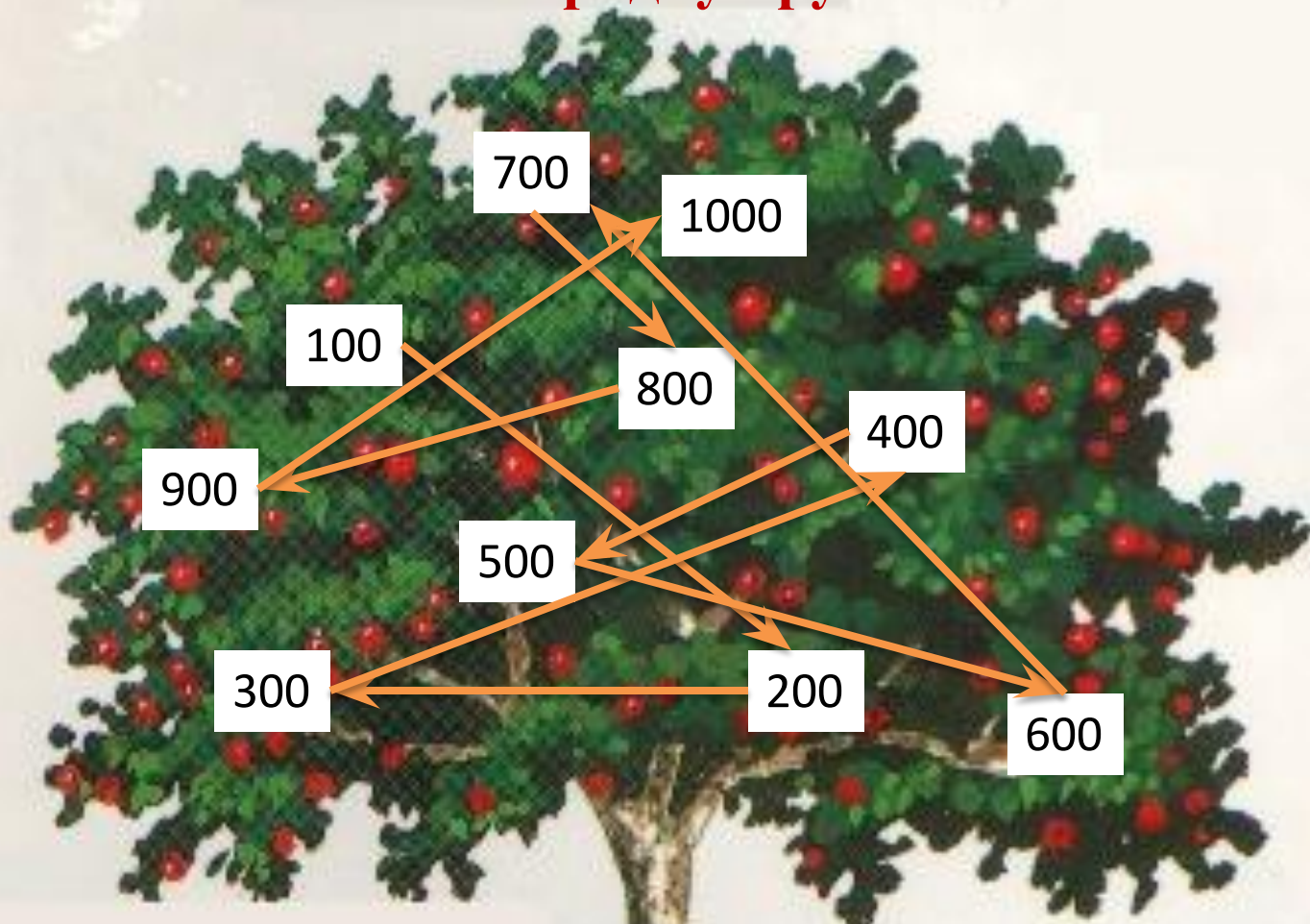


**УМНОЖЕНИЕ И ДЕЛЕНИЕ
НА 10, 100, УМНОЖЕНИЕ
И ДЕЛЕНИЕ КРУГЛЫХ
ЧИСЕЛ**

Чары колдуньи можно рассеять, если найти волшебное письмо-заклинание и расшифровать его. А написано оно древними рунами. Поможет вам во всем ваш любимый Буратино. Желаем удачи!



Назови по порядку круглые числа



1
X M T A S

Ребята, помогите
Буратино разгрызть
волшебный орех
Кракатук . Для этого
объясните правило
умножения на 10, 100 и
решите примеры.



$5 \cdot 10 =$

$23 \cdot 10 =$

$9 \cdot 100 =$

14 30 50

230 300 320

70 710 900



Ура-а-а!!!



Молодцы!!!



Умницы!!!



РЕШИТЕ ПРИМЕРЫ:

$9 \cdot 10 =$

$24 \cdot 10 =$

$7 \cdot 100 =$

$10 \cdot 5 =$


$10 \cdot 32 =$

$100 \cdot 9 =$

$3 \cdot 10 =$

$55 \cdot 10 =$

$2 \cdot 100 =$



РЕШИТЕ ПРИМЕРЫ:

$60 \cdot 9$

540

$600 : 6$

100

$100 : 50$

2

$6 \cdot 70$

420

$490 : 7$

70

$800 : 80$

10

$20 \cdot 30$

600

$350 : 50$

7

$700 : 700$

1

КОМПЬЮТЕР





Пришли они в лес и увидели избушку Бабы-Яги.




2. Кот Фунтик в течение двух дней рыбачил на речке. В первый день он поймал 100 рыб, а во второй день в 2 раза больше. Сколько он рыб поймал за второй день?

3. Царь Горох начал войну с грибами. Боровик стал собирать войско, в которое вступило 70 подосиновиков, а груздей в 7 раз меньше. Сколько груздей вступило в войско к Боровику?

4. Шапокляк натворила за день 60 пакостей, а Кикимора – 10. Кто из них натворил больше пакостей и во сколько раз?

5. Мачеха велела Золушке посадить 50 кустов роз. Золушка посадила по 10 кустов в каждом ряду. Сколько получилось рядов?





РЕБЯТА, СПАСИБО!