

Умножение и деление на 4.

Четвёртая часть числа.
Закрепление.

Урок-путешествие
2 класс

Автор: Асмала Светлана Михайловна
учитель начальных классов
МОУ «Бехтеевская СОШ»

Чтобы войти в
здоровый мир,
вместе с вами
мы отправимся в
Меня зовут Сова –
волшебница лес.
умная голова.
задание



16

В каком числе сумма цифр
равна 12 ?

48

68

5

97

24

10

33

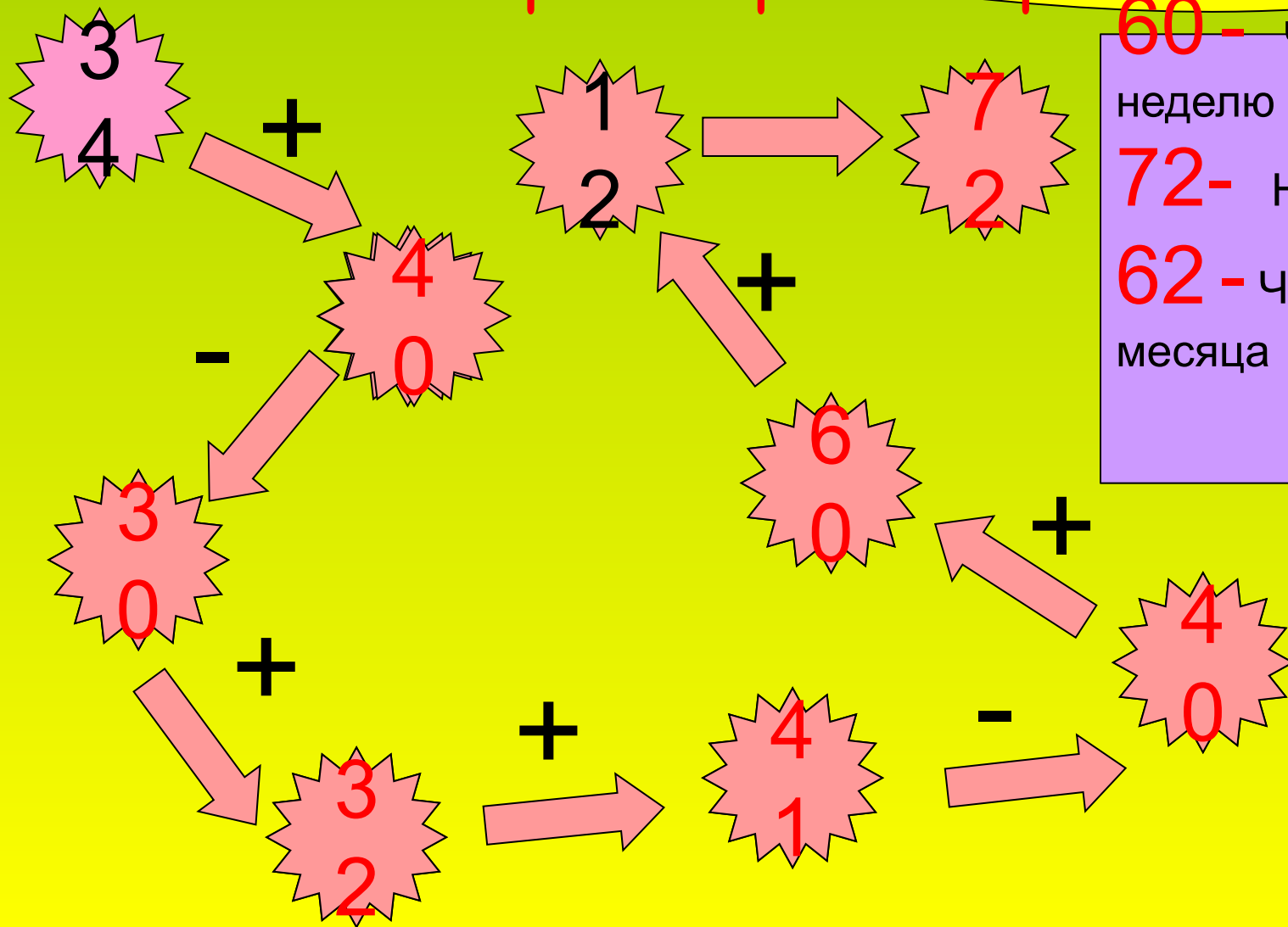
46







Вычислите и узнаете, когда бельчата начинают впервые грызть орехи и шишки



60 - Через неделю

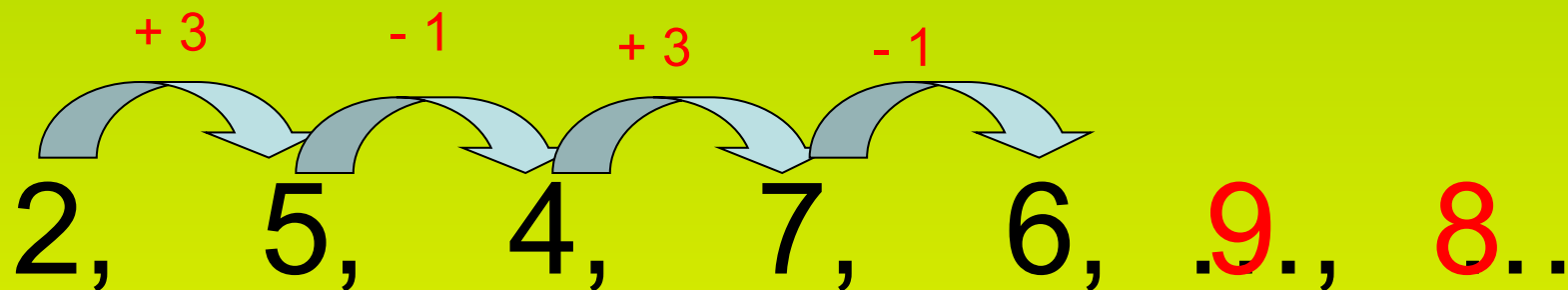
72 - На 40-й день

62 - Через 3 месяца






Продолжи ряд чисел и ты узнаешь,
когда у совы появятся совята.



Летом, в июне.





Решите задачи и узнаете, в какое время суток бобры строят свои жилища.

~~80~~

~~6~~

~~8~~

~~4~~

~~24~~



28

6

32

5

8

8

16

9

24

7

5

8

1

36

20

4

10

28


0

12

Игра «Считалка»



Придумай по рисунку задачу, которая
решается делением

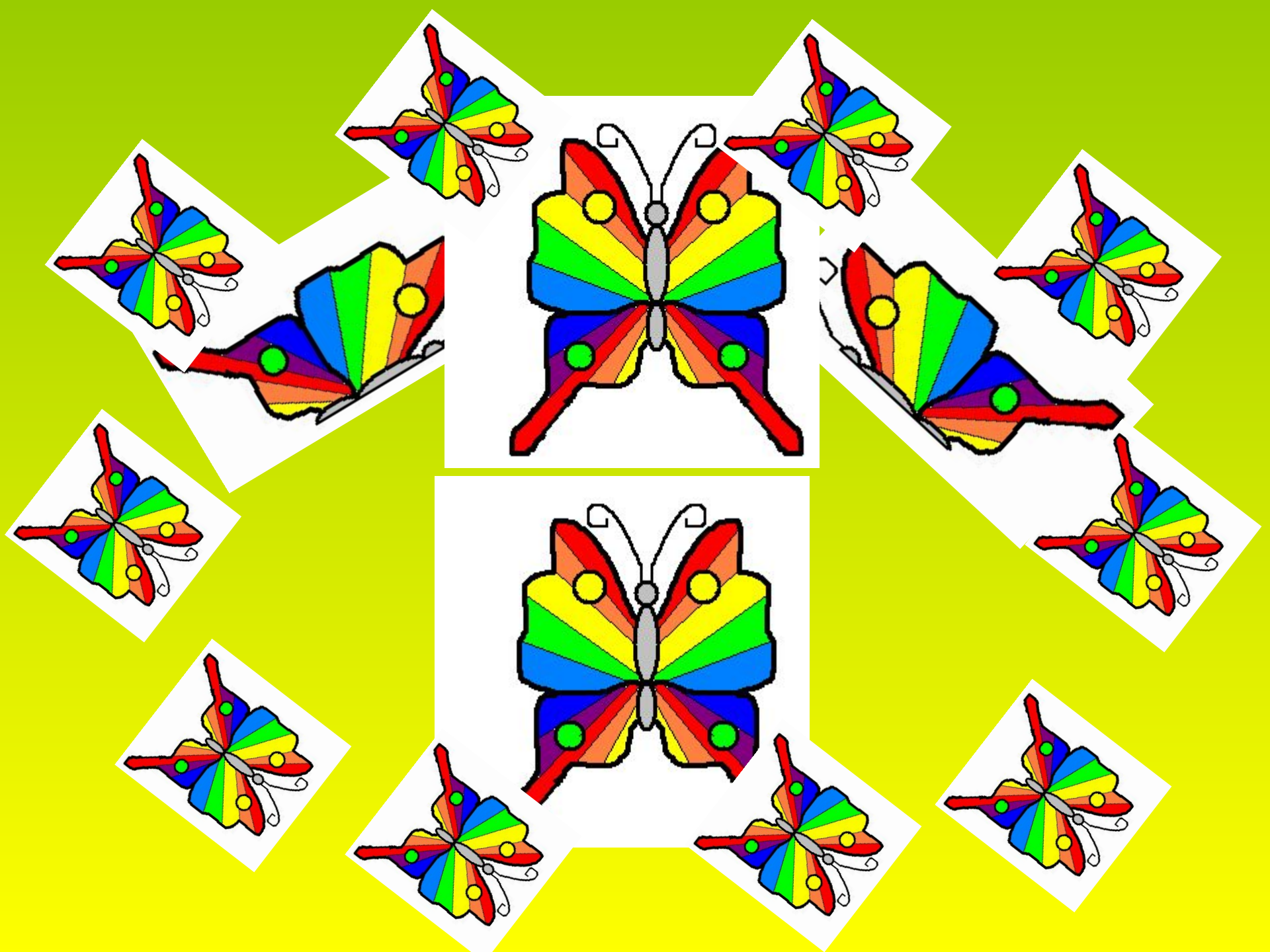


$$12 : 3 = 4 \text{ (к.)}$$

$$12 : 4 = 3 \text{ (шт)}$$

Ответ: 4 кучки, 3 морковки.





$$(18 - 6) : 4 = 3$$


$$(2 + 5) \cdot 3 = 21$$

$$(18 : 2) \cdot 4 = 36$$

$$(15 + 3) : 2 = 9$$

$$(3 \cdot 3) \cdot 3 = 27$$

$$(2 \cdot 9) : 3 = 6$$

A woman in a white, flowing dress stands in a field at night. The sky is filled with stars and a colorful aurora borealis. The scene is illuminated by a soft, ethereal light.

Выполните задания в
тетради

1 вариант – с. 46 № 151

2 вариант – с. 46 № 150




ИТОГ урока

Самым интересным на уроке было ...

Мне было трудно ...

Теперь я знаю

Мне понравилось ...

A woman in a white dress stands in a field at night, looking towards the sky. The background is a vibrant night sky with stars and a nebula. The scene is framed by a yellow border.

Домашнее задание
Учебник с.66 № 192

МОЛОДЦЫ!

