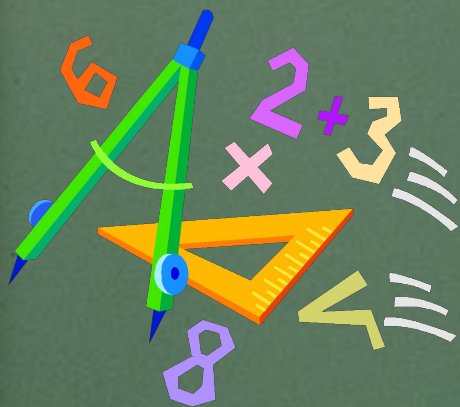


АНАЛИЗ КОНТРОЛЬНОЙ РАБОТЫ



№ 4



5 класс
математика



5 класс

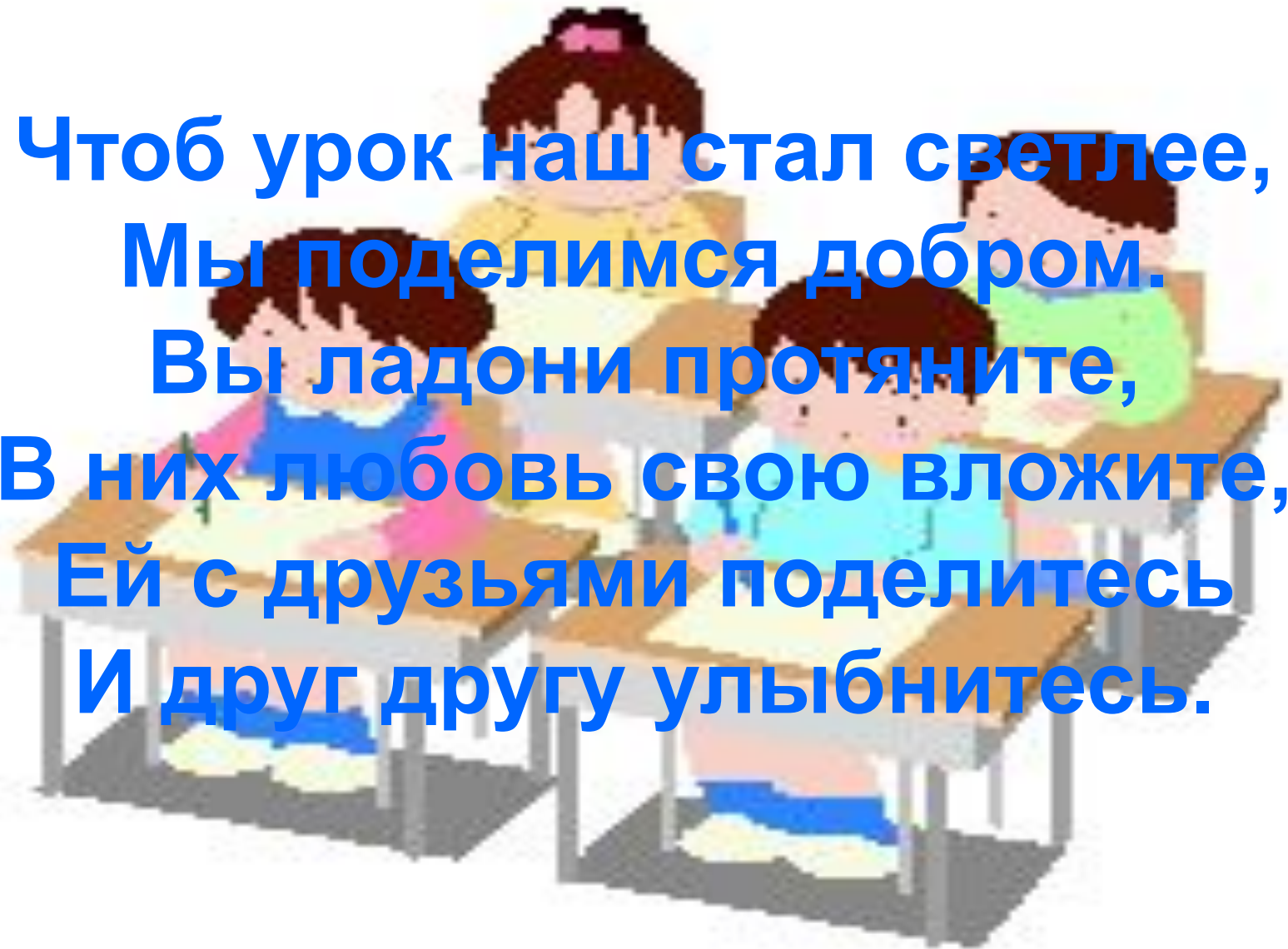
Умножение и деление натуральных чисел

№ 4




Мы поделимся добром.

**Чтоб урок наш стал светлее,
Мы поделимся добром.
Вы ладони протяните,
В них любовь свою вложите,
Ей с друзьями поделитесь
И друг другу улыбнитесь.**



Задание № 1, 3

- Задание 1.
- Найдите значение выражения
- $58 \cdot 105 - 105 : 7$.
- 1) 51; 2) 6075; 3) 0; 4) 405.
- Задание 3.
- Установите соответствие между выражением и его значением:
- 1) $2\ 870 : 205$; А. 140
- 2) $3\ 500 : 25$; Б. 104
- 3) $2\ 600 : 25$; В. 14



Задание № 1 и 3



- Как вы думаете, кто выполнил это задание правильно?
- Кто уверен, что допустил ошибку при выполнении данного задания?
- Какие ошибки могли быть допущены при выполнении этого задания?
- Что необходимо знать, для того чтобы не допускать ошибок при выполнении аналогичных заданий?



Задание № 2

В магазин привезли 54 коробки с пакетами сока по 18 пакетов в каждой коробке. Сколько пакетов сока привезли?



- 1) 872; 2) 3; 3) 36; 4) 972



Задание № 2



- *Как вы думаете, кто выполнил задание правильно?*
- *Кто уверен, что допустил ошибку при выполнении данного задания?*
- *Какие ошибки могли быть допущены при выполнении этого задания?*

Задание № 4

- *Выберите уравнение, корнем которого является число 8:*
- 1) $x \cdot 13 = 108$;
- 2) $y \cdot 12 = 96$;
- 3) $y : 12 = 96$;
- 4) $96 : k = 8$.



Задание № 4



Как вы думаете, кто выполнил задание правильно?

- Кто уверен, что допустил ошибку при выполнении данного задания?*
- Какие ошибки могли быть допущены при выполнении этого задания?*
- Что необходимо делать, для того чтобы не допускать ошибок при выполнении аналогичных заданий?*

Задание № 5

В 5 бидонов вмещается 115 литров молока. Сколько литров молока можно налить в 7 таких бидонов?



Задание № 5



- Как вы думаете, кто выполнит задание правильно?
- Кто уверен, что допустил ошибку при выполнении данного задания?
- Какие ошибки могли быть допущены при выполнении этого задания?
- Что необходимо делать, для того чтобы не допускать ошибок при выполнении аналогичных заданий?



Задание № 6

За 5 ч. велосипедист проехал 75 км, а автомобилист за 4 часа проехал 360 км. Во сколько раз скорость велосипедиста меньше скорости автомобилиста?



Задание № 6



- Как вы думаете, кто выполнил задание правильно?
- Кто уверен, что допустил ошибку при выполнении данного задания?
- Какие ошибки могли быть допущены при выполнении этого задания?
- Что необходимо делать, для того чтобы не допускать ошибок при выполнении аналогичных заданий?



Задание № 7

Назовите наибольшее двузначное число, при делении которого на 13 получается остаток 4.



Задание № 7

- Как вы думаете, кто выполнил задание правильно?
- Кто уверен, что допустил ошибку при выполнении данного задания?
- Какие ошибки могли быть допущены при выполнении этого задания?
- Что необходимо делать, для того чтобы не допускать ошибок при выполнении аналогичных заданий?



Задание № 8



Сколькими нулями заканчивается
произведение всех натуральных
чисел от 20 до 65?



Задание № 8



- Кто уверен, что допустил ошибку при выполнении данного задания?
- Какие ошибки могли быть допущены при выполнении этого задания?
- Что необходимо делать, для того чтобы не допускать ошибок при выполнении аналогичных заданий?

рефлексия




- Урок был полезен для меня, я понимал все, о чем говорилось и что делалось на уроке.
- Урок был интересен, в определенной степени полезен для меня, мне было на уроке достаточно комфортно.
- Я понял о чем шла речь на уроке, но мне следует получить консультацию у учителя.

Пункты учебника 11-13- устно ответить

на вопросы.

Домашнее задание



**Пункты учебника 11-13- устно
ответить на вопросы,**

№ 516, 545, 548 (1,2).

Улыбнись!



Спасибо за урок!