


# Умножение пяти, на 5 и соответствующие случаи деления.

□ Математика 3 класс.

Учителя начальных классов Лаишевской  
специальной школы – интерната III – IV  
вида Соловьевой С. А.



## 2. УСТНЫЙ СЧЕТ.

- Три подружки – три сестрицы  
Заплели по две косицы  
Задаю я вам вопрос  
:  
Сколько получилось кос?



- Кошка вышила ковер.  
Посмотри, какой узор  
Три большие клеточки,  
В каждой по три веточки.  
Села кошка на кровать,  
Стала веточки считать,  
Но никак не может  
Кто же ей поможет?



□ В поле бабочки летали,  
Лепестки цветов считали  
На одном цветке их три.  
Сможете вы сосчитать,  
Сколько будет лепестков,  
Если шесть всего цветков?



□ Мышка зёрна собирала  
По два зернышка таскала.  
Принесла в девятый раз  
Каков мышкин стал запас?



□ Любит рыбу кот Василий  
Может съесть он в день 4  
Сколько съест он за 5 дней  
Посчитайте поскорей!



□ К трём зайчатам в час обеда  
Прискакали 3 соседа  
В огороде зайцы сели  
И по 3 морковки съели  
Сколько съедено морковок?



# Посчитай-ка !

$3 \times 4 =$

$27 : 3 =$

$5 \times 3 =$

$36 : 4 =$

$20 : 4 =$

$8 : 2 =$

$27 : 3 =$

$16 : 4 =$



Молодцы!



# Царство Математики.





Назовите компоненты умножения?

$$5 \times 4 = 20$$

# Таблица умножения на 5.

$$5 \times 5 = 25$$

$$5 \times 6 = 30$$

$$5 \times 7 = 35$$

$$5 \times 8 = 40$$

$$5 \times 9 = 45$$

Великий ученый Пифагор родился  
около 570 г. до н.э. на острове  
Самосе.





# Физминутка





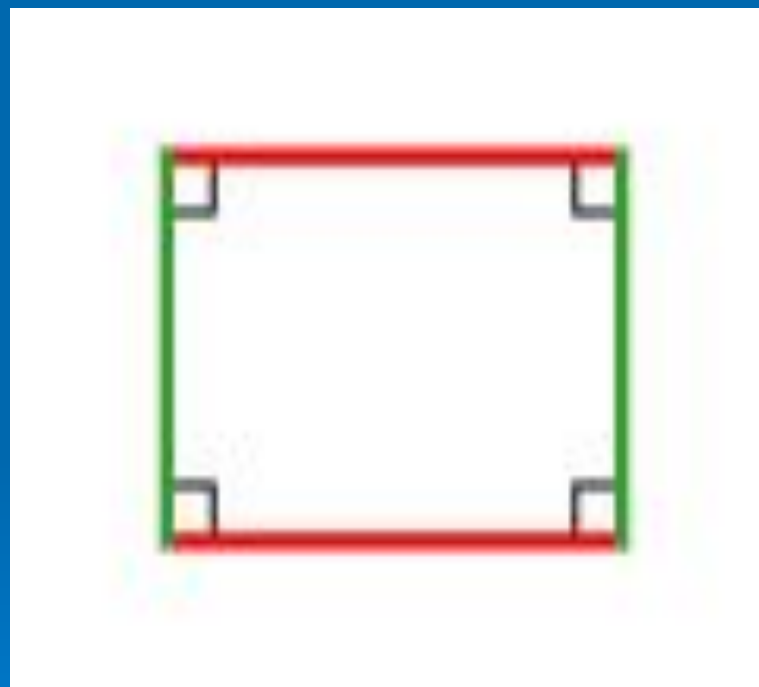
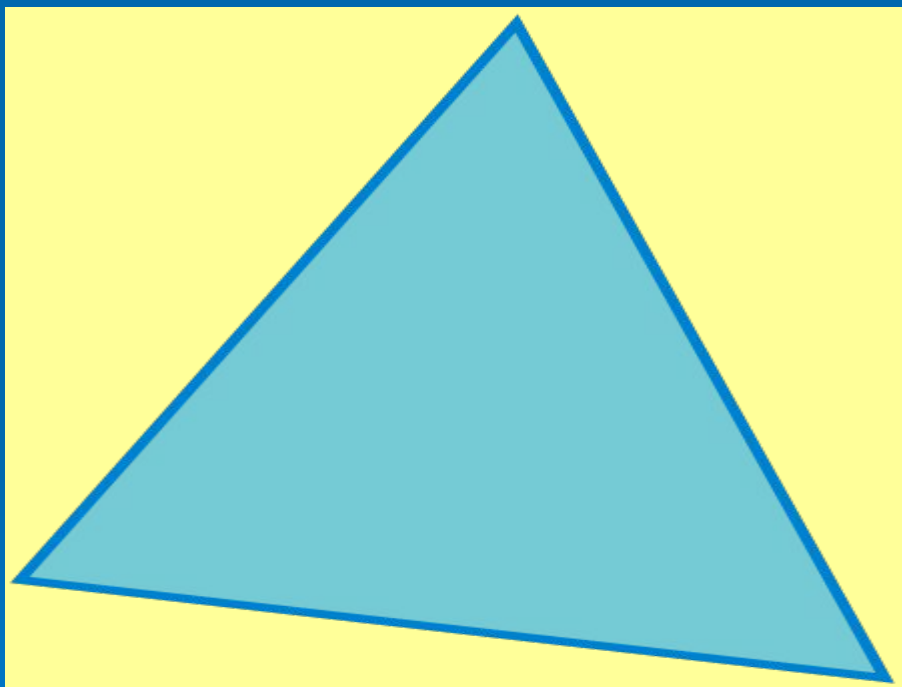
# Кот ТОМ и мышонок ДЖЕРРИ





SHIREK

# Работа с геометрическим материалом.



Стороны треугольника равны 4 см, 5 см, 8 см. Найдите периметр треугольника.

Найдите периметр прямоугольника со сторонами 3 см и 5 см.







*Olga Unger*

# КОТ ЛЕОПОЛЬД



Берегите друзей!

Не теряйте друзей!



Спасибо за внимание!  
Досвидание!

