

Устный счёт

50 уменьшите на 13. **37**

Уменьшаемое 30, вычитаемое 2, разность? **28**

74 увеличьте на 20. **94**

Найди сумму 74 и 2. **76**

Найди разность 48 и 45. **3**

На сколько $59 > 1$? **58**

Множитель 2, множитель 9, произведение? **18**

Найди произведение 2 и 7? **14**

По 2 взять 6 раз **12**

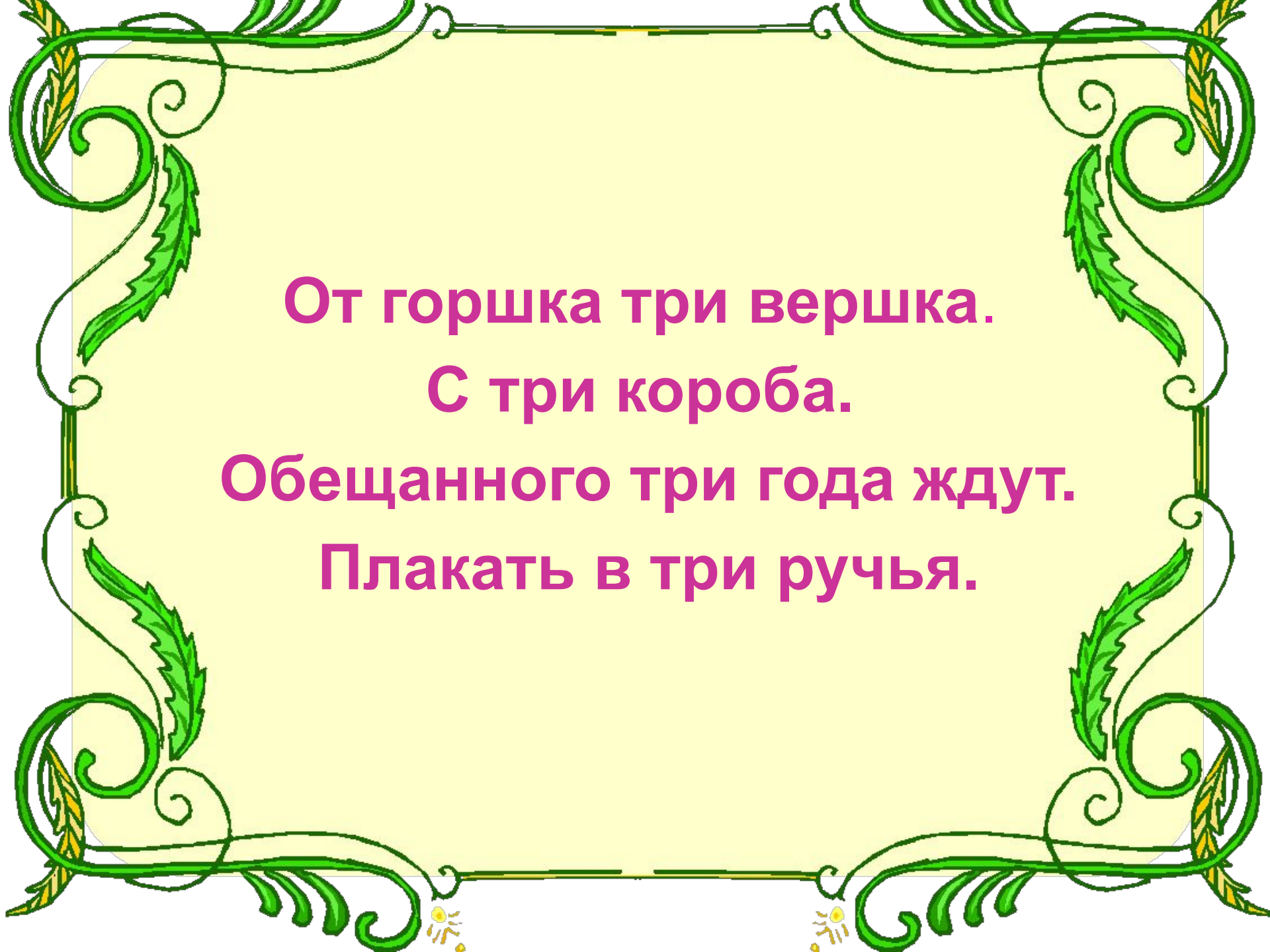


3



Ребусы





**От горшка три вершка.
С три короба.
Обещанного три года ждут.
Плакать в три ручья.**



Цель урока:


- *Составить таблицу деления и умножения с числом 3, научиться её применять.*
- *Учиться решать задачи с использованием действий умножения и деления.*



*Что такое Умножение?
Это Умное сложение.
Ведь умней — умножить раз,
Чем слагать всё целый час.*



*Умножения Таблица
Всем нам в жизни
пригодится.
И недаром названá
УМНОжением она!*





В гостях у сказки



Понедельник

Составьте
таблицу
умножения
с числом 3



Понедельник

$3 \cdot 1 = 3$

$3 \cdot 2 = 6$

$3 \cdot 3 = 9$

$3 \cdot 4 = 12$

$3 \cdot 5 = 15$

$3 \cdot 6 = 18$

$3 \cdot 7 = 21$

$3 \cdot 8 = 24$

$3 \cdot 9 = 27$

$3 : 3 = 1$

$6 : 3 = 2$

$9 : 3 = 3$

$12 : 3 = 4$

$15 : 3 = 5$

$18 : 3 = 6$

$21 : 3 = 7$

$24 : 3 = 8$

$27 : 3 = 9$



Вторник

Сравните:

$20+20+20$  $20*3$

$40+40$  $40*3$

$8+8+8$  $8*2$



Среда

Решите задачи
страница 21 № 4



Среда

Расход ткани на одно пальто	Количество пальто	Общий расход ткани
?	2 шт.	6 м.

$$6 : 2 = 3 \text{ (м)}$$



Среда




Расход ткани	Количество пальто	Общий расход ткани
? одинаковый	2 шт.	6 м.
	10 шт.	?



$$3 \cdot 10 = 30 \text{ (м)}$$

Среда

Составьте задачу по рисунку


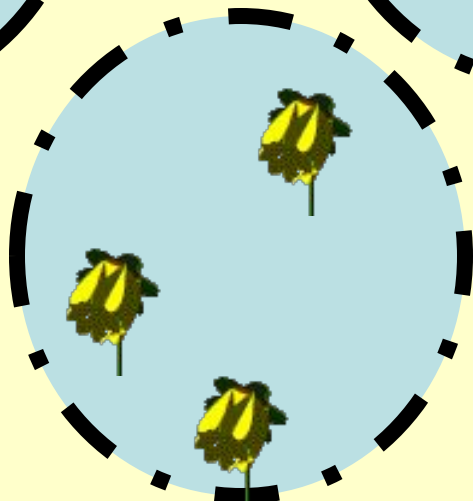
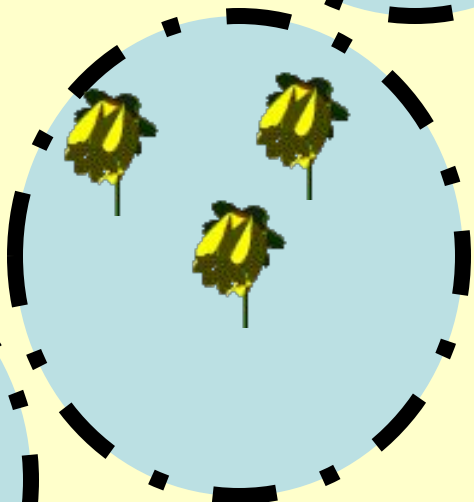
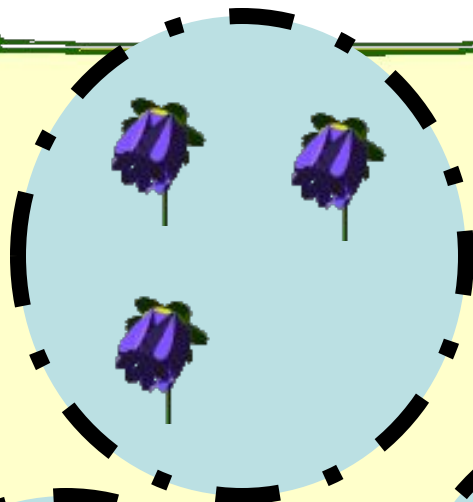


$4 \cdot 3 = 12$ (р) – в 3
аквариумах

Ответ:

12 рыбок





$$3 \cdot 5 = 15$$

Веселые задачи



Дарит бабушка лисица
Трём внучатам рукавицы.
«Это вам на зиму, внуки,
Рукавичек по 2 штуки.

Мышка зёрна собирала,
По три зёрнышка таскала.
Принесла уж 9 раз,
Каков мышкин стал запас?



3 бельчонка маму-белку
Ждали около дупла.
Им на завтрак мама-белка
9 шишек принесла.
Разделила на троих
Сколько каждому из них?



Кот с утра сидит у
речки.
У него большой улов:
Три щурёнка, три ерша,
три сома и три леща.
Сколько рыбок у кота?



Четверг

Решите уравнение

$$6 \cdot X = 18$$



Пятница



Подарок



Суббота

Подведение итогов.

Чем запомнился вам сегодняшний урок?

Какое задание понравилось больше всего?

Что оказалось трудным?

Достигнута ли цель урока?



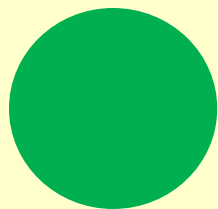


Суббота

Кому на уроке было интересно,
поднимите зелёный кружок.

Кому не очень понравился наш урок –
жёлтый кружок.

Кому урок показался скучным – красный
кружок.



Воскресенье

Домашнее задание:

- Выучить таблицу умножения и деления на 3.
- Стр. 21 №6, 8

