The background features a vintage-style map with various geographical labels and a grid. A thick, light-colored rope is coiled across the map. The entire scene is set against a rustic wooden surface. A white rectangular box with a thin orange border is centered over the map and rope, containing the text.

Математика приглашает в
свою страну тех, кто
настойчив, кто часто
говорит «почему?», кто не
боится вычислений.



40

2

16

13

17

20

28

14

10

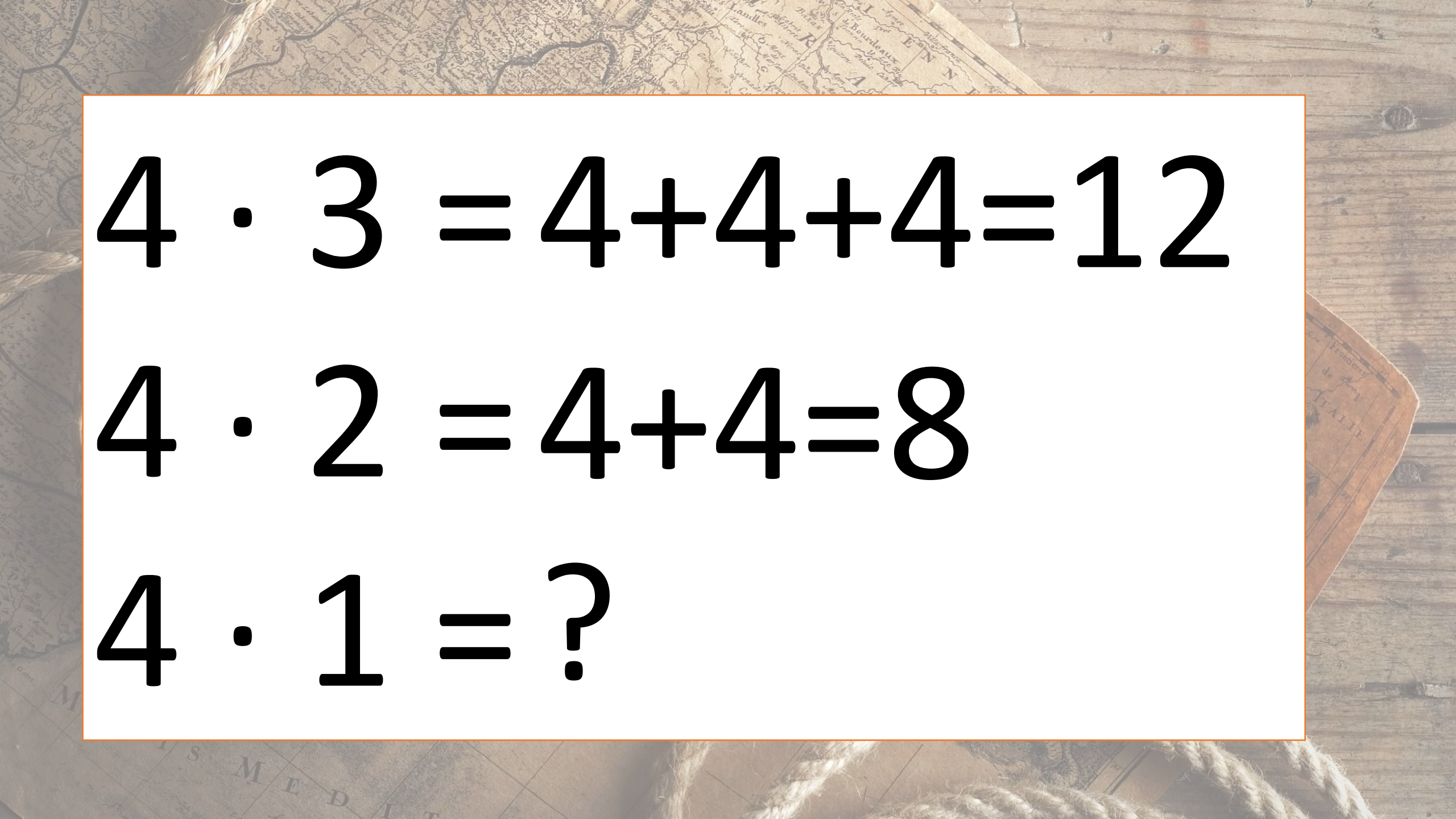
18

	2				8
		4			
1		9		6	

	2		5		8
10		4			
	3		5		
1		9		6	

30

23

The background features a vintage map with various geographical labels and a wooden surface. A thick rope is visible at the bottom of the frame. The text is presented in a large, bold, black font on a white rectangular background.
$$4 \cdot 3 = 4 + 4 + 4 = 12$$

$$4 \cdot 2 = 4 + 4 = 8$$

$$4 \cdot 1 = ?$$



Тема: умножение на 1.

**Задачи: научиться
умножать на 1.**

A vintage map of the Mediterranean region is the background. It features a grid of latitude and longitude lines, various geographical labels in Latin, and a compass rose in the lower-left quadrant. The map is partially covered by a thick, light-colored rope that forms a large loop on the left side and another loop at the bottom. Overlaid on the map are eight white rectangular boxes, each containing a black number. The numbers are arranged in two rows of four. The top row contains the numbers 7, 52, 83, and 7. The bottom row contains the numbers 12, 86, 27, and 24. The map shows labels like 'M. ARIS MEDITERRANEI', 'M. MINORCA', 'M. MALIOTA', 'M. DALLER', 'M. PORT', 'M. DAYPHINE', and 'M. ITALIE'.

7

52

83

7

12

86

27

24

Восемь сортов яблок



Гала
душистые
и сладкие



Ренет семиренко
пряные
с кислинкой




Джанагола
сочные, ароматные,
сладко-винный вкус



Ред делишес
сладкие
с легкой
горчинкой



Гренни Смит
кислые,
не сладкие,
низкокалорийные



Фузи
сладкие, но
вкус не выражен



Голден
сладкие без
кислинки, хороши
для пастилы,
мармелада



Антоновка
насыщенный
аромат

Chef-daw

© www.chefdaw.com



Нежность



Сапфира



Северянка



Светлячка



Любимица Яковлева



Декора

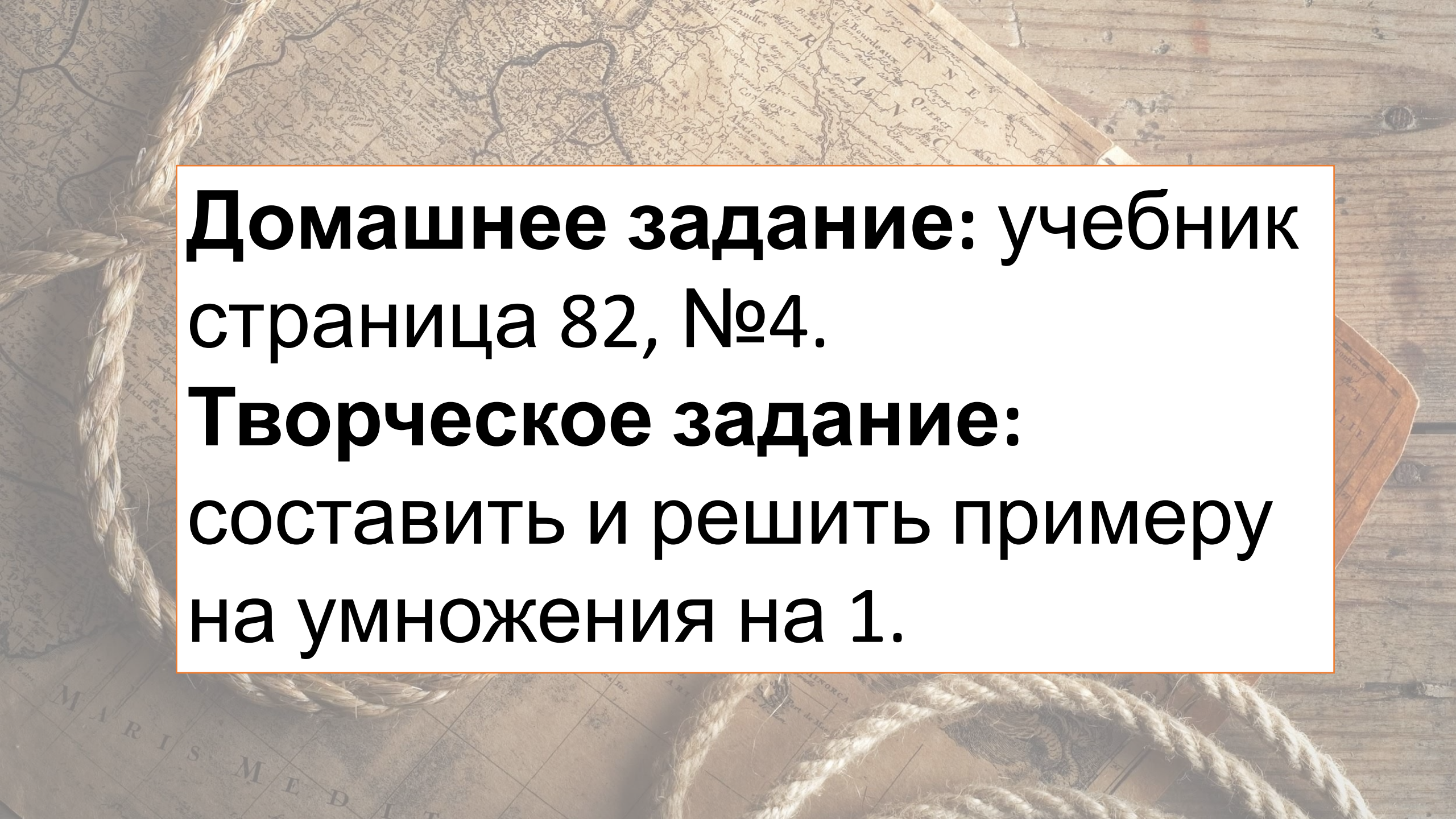
Одна сторона прямоугольника равна 7см,
а другая – 4 см

Найди периметр
прямоугольника

$$P = 2(a + b)$$

Найди площадь
прямоугольника

$$S = a \cdot b$$

The background features a vintage map with various geographical labels and a grid, resting on a wooden surface. A thick, light-colored rope is coiled across the scene, adding a rustic and historical feel.

**Домашнее задание: учебник
страница 82, №4.**

**Творческое задание:
составить и решить примеру
на умножения на 1.**