

Урок МЯТЫ



Подготовила Туманова Ирина
Вячеславовна,
учитель начальных классов ГБОУ лицей
№ 123

Найдите закономерность в ряду чисел.

14 21 28 ... 35 42 49 56

- ◆ Какое число пропущено?
- ◆ Как вы продолжите этот ряд?





35

Что можете рассказать о числе 35?

3 десятка 5 единиц

двузначное

нечетное

34, 35, 36.

Арифметический диктант

18 45 36 54 29 24 15 48

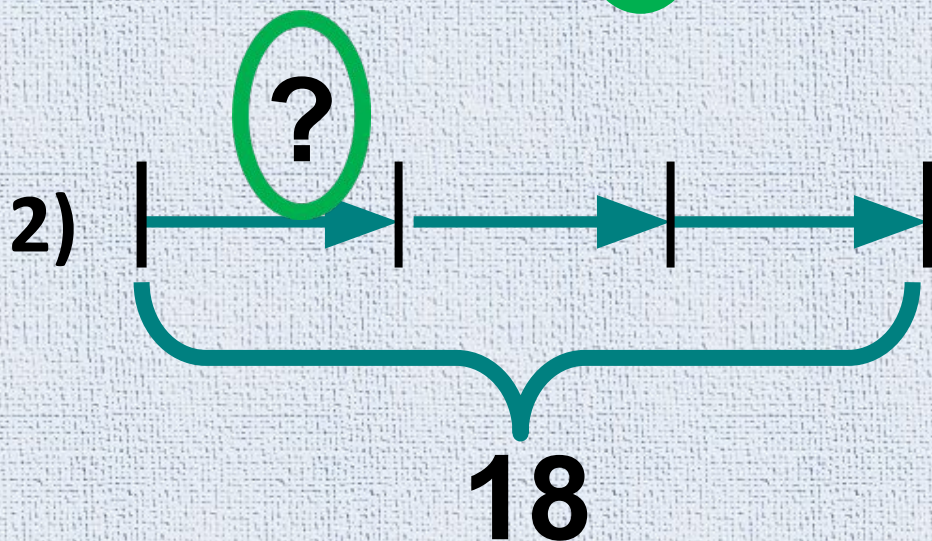
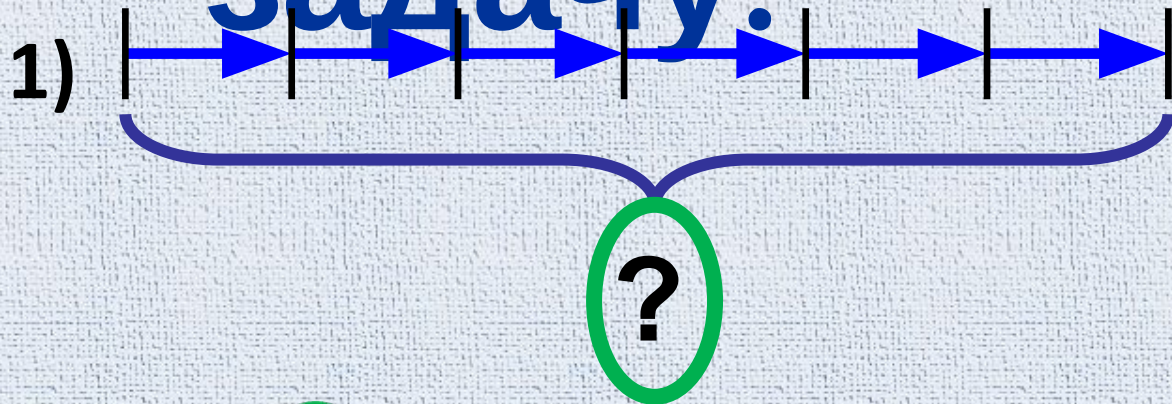
- Выбери числа, которые делятся на 6.

18 36 54 24 48



Составь

8
задачу.



УМНОЖЕНИЕ И ДЕЛЕНИЕ НА 9, ДЕВЯТАЯ ЧАСТЬ ЧИСЛА



Сколько ёлочек?



$$9 + 9 = 18$$

$$9 \cdot 2 = 18$$




Как разделить 63 на 9 с помощью таблицы

умножения? $\cdot 9$

$$7 \cdot 9 = 63$$

$$63 : 9 = 7$$



Что значит разделить число на **9**?

Как найти девятую часть числа?

Как умножить **9** на **0**? **9** на **1** ?

Как разделить **0** на **9**? **9** на **1** ?



The image features two cheerful snowmen standing on either side of a large, unrolled scroll. The snowman on the left is dressed in a blue scarf and a black top hat adorned with a sprig of holly and red berries. The snowman on the right wears a red scarf and a similar black top hat with holly. Both snowmen have carrot noses, blue eyes, and stick arms. The scroll they are holding is white and has the Russian word 'Молодцы!' (Well done!) written across it in a large, blue, 3D-style font. The background is a light blue textured surface with a darker blue border at the top and bottom.

Молодцы!