


Умножение пяти, на 5 и соответствующие случаи деления.

□ Математика 3 класс.

Учителя начальных классов Лаишевской
специальной школы – интерната III – IV
вида Соловьевой С. А.



2. УСТНЫЙ СЧЕТ.

- Три подружки – три сестрицы
Заплели по две косицы
Задаю я вам вопрос
:
Сколько получилось кос?



- Кошка вышила ковер.
Посмотри, какой узор
Три большие клеточки,
В каждой по три веточки.
Села кошка на кровать,
Стала веточки считать,
Но никак не может
Кто же ей поможет?



□ В поле бабочки летали,
Лепестки цветов считали
На одном цветке их три.
Сможете вы сосчитать,
Сколько будет лепестков,
Если шесть всего цветков?



□ Мышка зёрна собирала
По два зернышка таскала.
Принесла в девятый раз
Каков мышкин стал запас?



□ Любит рыбу кот Василий
Может съесть он в день 4
Сколько съест он за 5 дней
Посчитайте поскорей!



□ К трём зайчатам в час обеда
Прискакали 3 соседа
В огороде зайцы сели
И по 3 морковки съели
Сколько съедено морковок?



Посчитай-ка !

$3 \times 4 =$

$27 : 3 =$

$5 \times 3 =$

$36 : 4 =$

$20 : 4 =$

$8 : 2 =$

$27 : 3 =$

$16 : 4 =$

Молодцы!



Царство Матаматики.





Назовите компоненты умножения?

$$5 \times 4 = 20$$

Таблица умножения на 5.

$$5 \times 5 = 25$$

$$5 \times 6 = 30$$

$$5 \times 7 = 35$$

$$5 \times 8 = 40$$

$$5 \times 9 = 45$$

Великий ученый Пифагор родился
около 570 г. до н.э. на острове
Самосе.





Физминутка



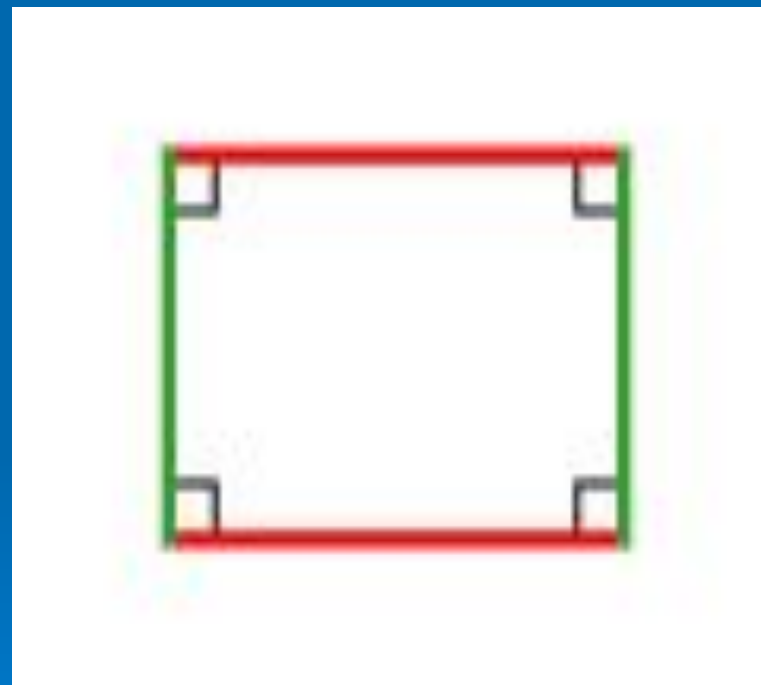

Кот ТОМ и мышонок ДЖЕРРИ





SHIREK

Работа с геометрическим материалом.



Стороны треугольника равны 4 см, 5 см, 8 см. Найдите периметр треугольника.

Найдите периметр прямоугольника со сторонами 3 см и 5 см.





Olga Unger

КОТ ЛЕОПОЛЬД



Берегите друзей!

Не теряйте друзей!

Спасибо за внимание!
Досвидание!

