
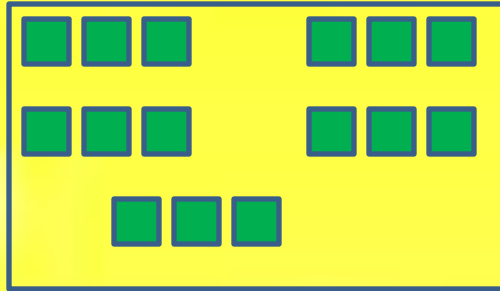
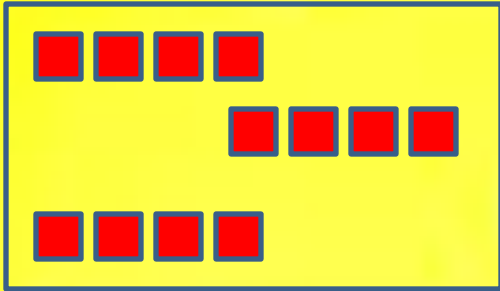
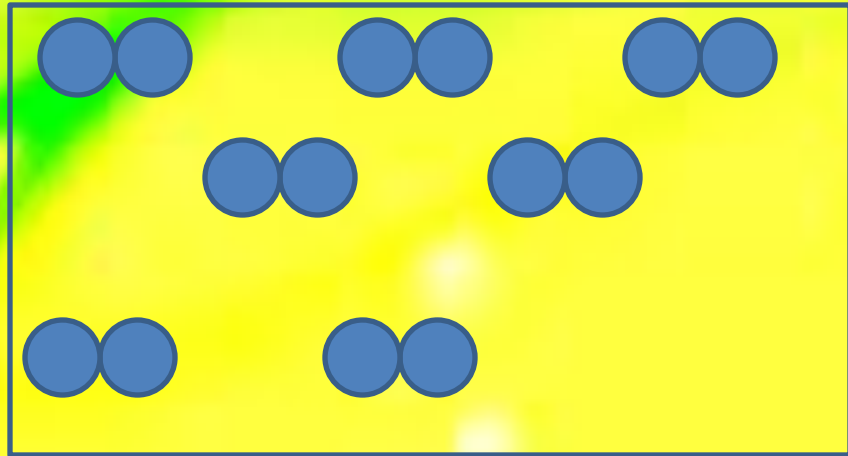
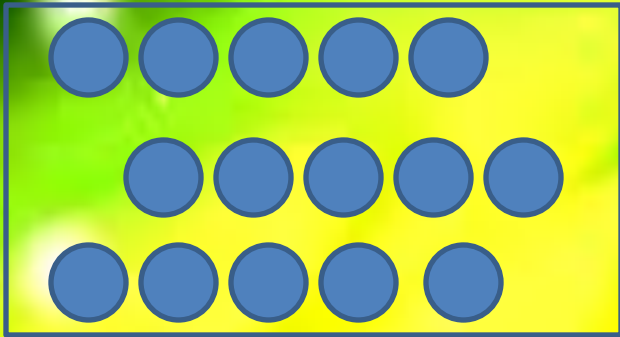


# Объявление!!!!



**Таблица умножения  
Достойна уважения.  
Она во всём всегда права:  
Чтоб ни случилось в мире,  
А всё же будет дважды два  
По-прежнему четыре.**





**5 X 3**

**4 X 3**

**7 X 7**

**3 X 5**

**2 X 7**

# Составляем задачу



**7 кг**



**7 кг**



**7 кг**

**Как можно вычислить массу яблок в трех ящиках?**



$$7 + 7 + 7 = 21$$

$$7 \times 3 = 21$$

# Выбераем правильное решение.

На пригорке возле ёлок  
Ёжик яблоки считал:  
Семь под ёлкой, семь за ёлкой,  
Семь в мешке за тем пригорком,  
Семь в избе на третьей полке,  
Семь под лавкою в саду.  
Сколько яблок, как понять?  
Ёж не может разобрать.



$5 \cdot 7$

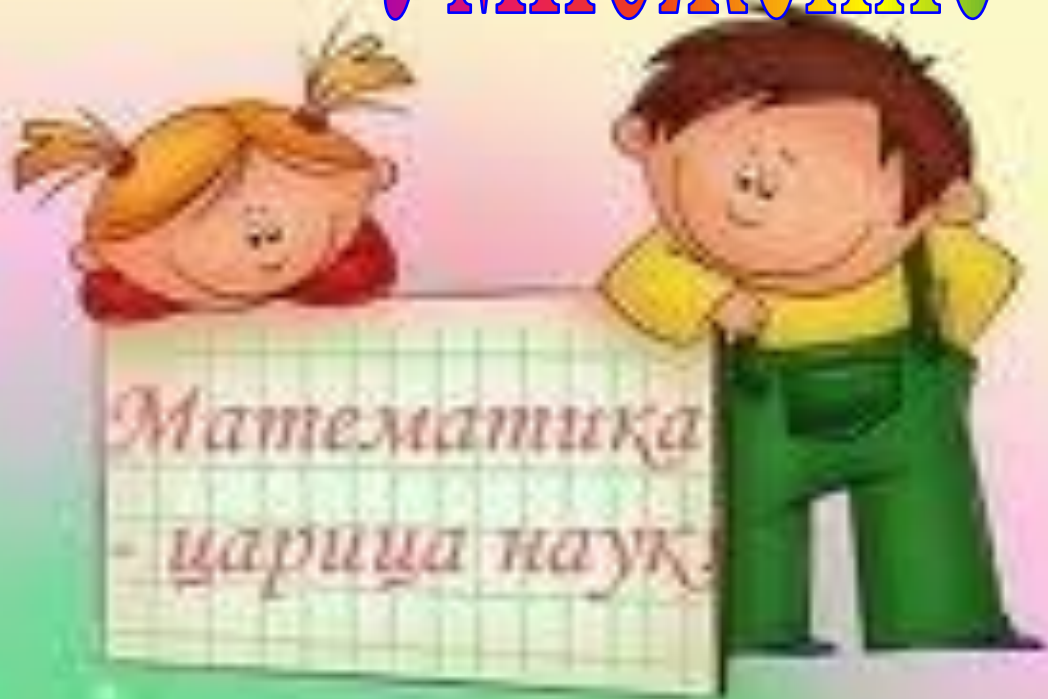
$7 \cdot 5$


$7 \cdot 4$



# Умножение семи и

на 7





$7 \cdot 1 = 7$   
 $7 \cdot 2 = 17$   
 $7 \cdot 3 = 21$   
 **$7 \cdot 4 = 28$**   
 $7 \cdot 5 = 35$   
 $7 \cdot 6 = 42$   
 $7 \cdot 7 = 49$   
 $7 \cdot 8 = 56$   
 $7 \cdot 9 = 63$

**$7 + 7 = 14$**   
 **$14 + 7 = 21$**   
 **$21 + 7 = 28$**

# Проверь себя!

$7 \times 1 = ?$

$7 \times 2 = ?$

$7 \times 3 = ?$

$7 \times 4 = ?$

$7 \times 5 = ?$

$7 \times 6 = ?$

$7 \times 7 = ?$

$7 \times 8 = ?$

$7 \times 9 = ?$

$7 \times 10 = ?$



# Решаем задачу



Количество бананов в 1 грозди	Количество гроздей	Всего бананов
7 шт.	4 гр.	? шт.
12 шт.	1 гр.	12 шт.

1)  $7 \cdot 4 = 28$  (шт.)

2)  $28 + 12 = 40$  (шт.)

$7 \cdot 4 + 12 = 40$  (шт.)





Количество фруктов в 1 подарке	Количество подарков	Всего фруктов
<b>7 шт.</b>	<b>6 п.</b>	<b>? шт. } ?</b>
<b>7 шт.</b>	<b>6 п.</b>	<b>? шт.</b>

$$7 \cdot 6 + 7 \cdot 6 = 84 \text{ (шт.)}$$

$$(7 \cdot 6) \cdot 2 = 84 \text{ (шт.)}$$

# Блиц-турнир



$$7 \cdot 2 = 14$$



$$5 \cdot 7 = 35$$



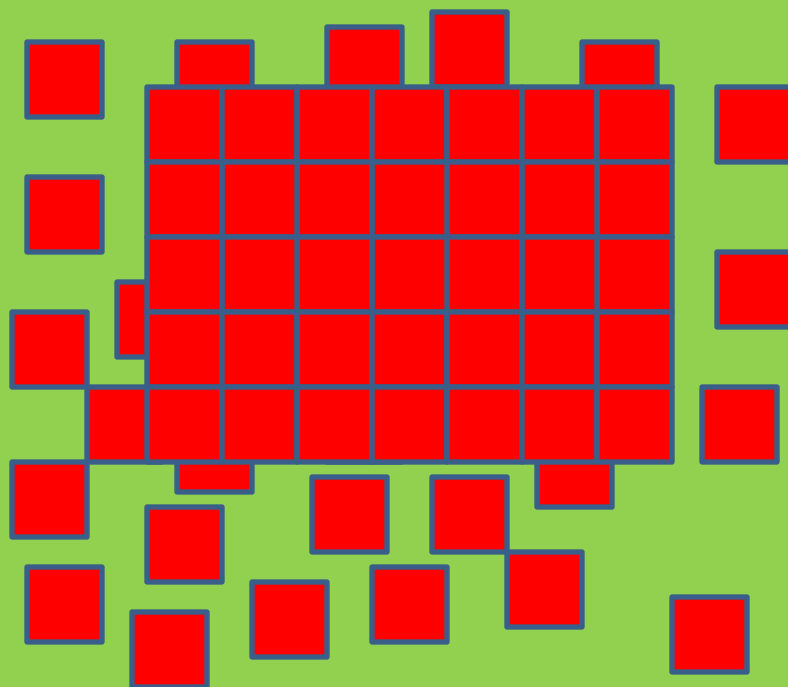
$$2 \cdot 7 = 14$$



7 купе

$$4 \cdot 7 = 28$$

# Какая фигура рассыпалась?




## Как найти площадь прямоугольника?

$$S = 7 \cdot 5$$

$$S = 35 \text{ см}^2$$


# Какая фигура рассыпалась?



## Как найти площадь квадрата?

$$S = 7 \cdot 7$$

$$S = 49 \text{ см}^2$$



*Гриб помножим на сосну,  
Лист помножим на весну,  
Тёплый ветер – на зерно,  
Землянику – на звено.  
Множим солнце на лучи,  
Всех мальчишек – на мячи,  
Всех девчонок – на «хи-хи»,  
Всех поэтов – на стихи.  
Множим крыши на людей,  
А метро – на лошадей,  
Голубей – на чердаки,  
Поваров – на черпаки,  
Выйдут тысячи чудес,  
Выйдет лес до небес,  
Города, моря, поля, -  
Выйдет целая земля!*



### Ресурсы:

- <http://images.google.ru/imghp?hl=ru&tab=wi> картинки;
- <http://images.yandex.ru/> картинки;
- [http://rebus.detsky-mir.com/2871/rebusy\\_po\\_matematike/](http://rebus.detsky-mir.com/2871/rebusy_po_matematike/);
- <http://znajka.net/>;
- <http://www.prozagadki.ru/>
- [http://images.yandex.ru/yandsearch?ed=1&text=детские\\_фоны](http://images.yandex.ru/yandsearch?ed=1&text=детские_фоны).
- [http://planetarium-kharkov.org/files/pictures/05\\_moon\\_meteorit\\_alh-81005.jpg](http://planetarium-kharkov.org/files/pictures/05_moon_meteorit_alh-81005.jpg)
- <http://www.gifpark.ru/COSM>.
- <http://karaoke.yarsk.info/>

*Автор презентации*

*Емелина Елена Владимировна,*

*учитель начальных классов*

*МБОУ «СОШ № 18» г. Нижневартовска,*

*Тюменской области, ХМАО-Югры*