

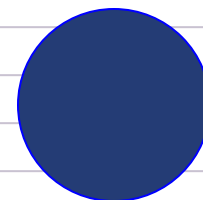
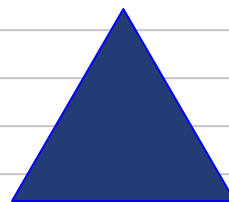



«ЗАКРЕПЛЕНИЕ: ТАБЛИЧНЫЕ СЛУЧАИ УМНОЖЕНИЯ ЧИСЛА 9»

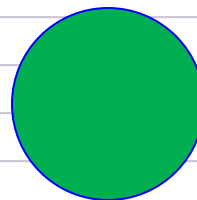
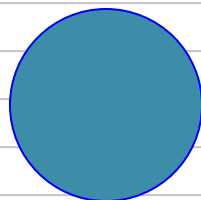
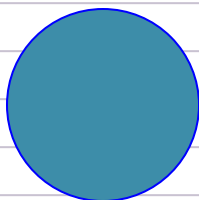
**ДИДАКТИЧЕСКАЯ
ПРЕЗЕНТАЦИЯ К УРОКУ
МАТЕМАТИКА
2 КЛАСС, 4 ЧЕТВЕРТЬ
ПРОГРАММА «ГАРМОНИЯ»**

УСТНЫЙ СЧЁТ.

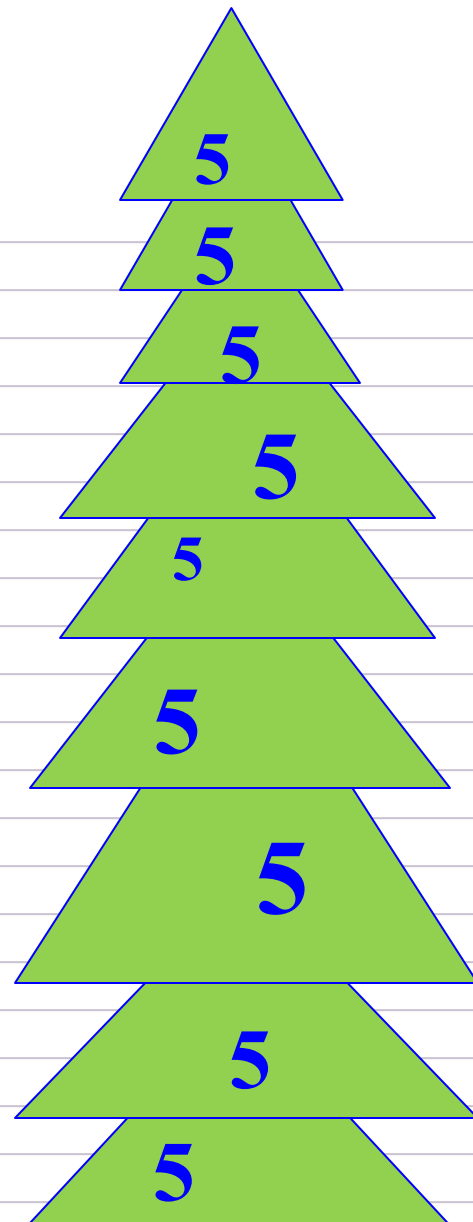
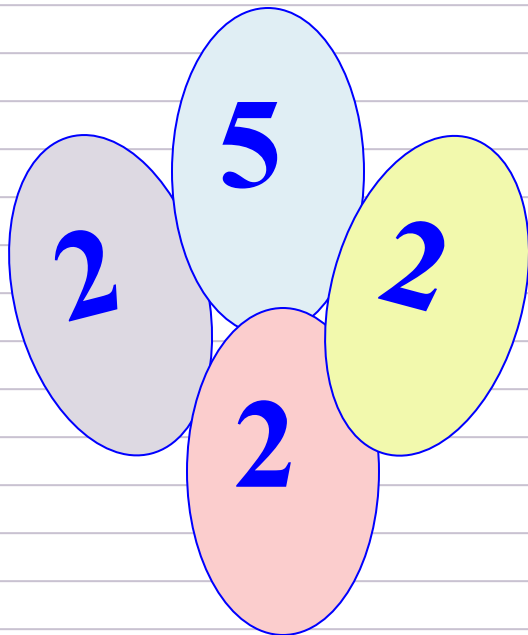
1. НАЙДИ ЛИШНЮЮ ФИГУРУ:



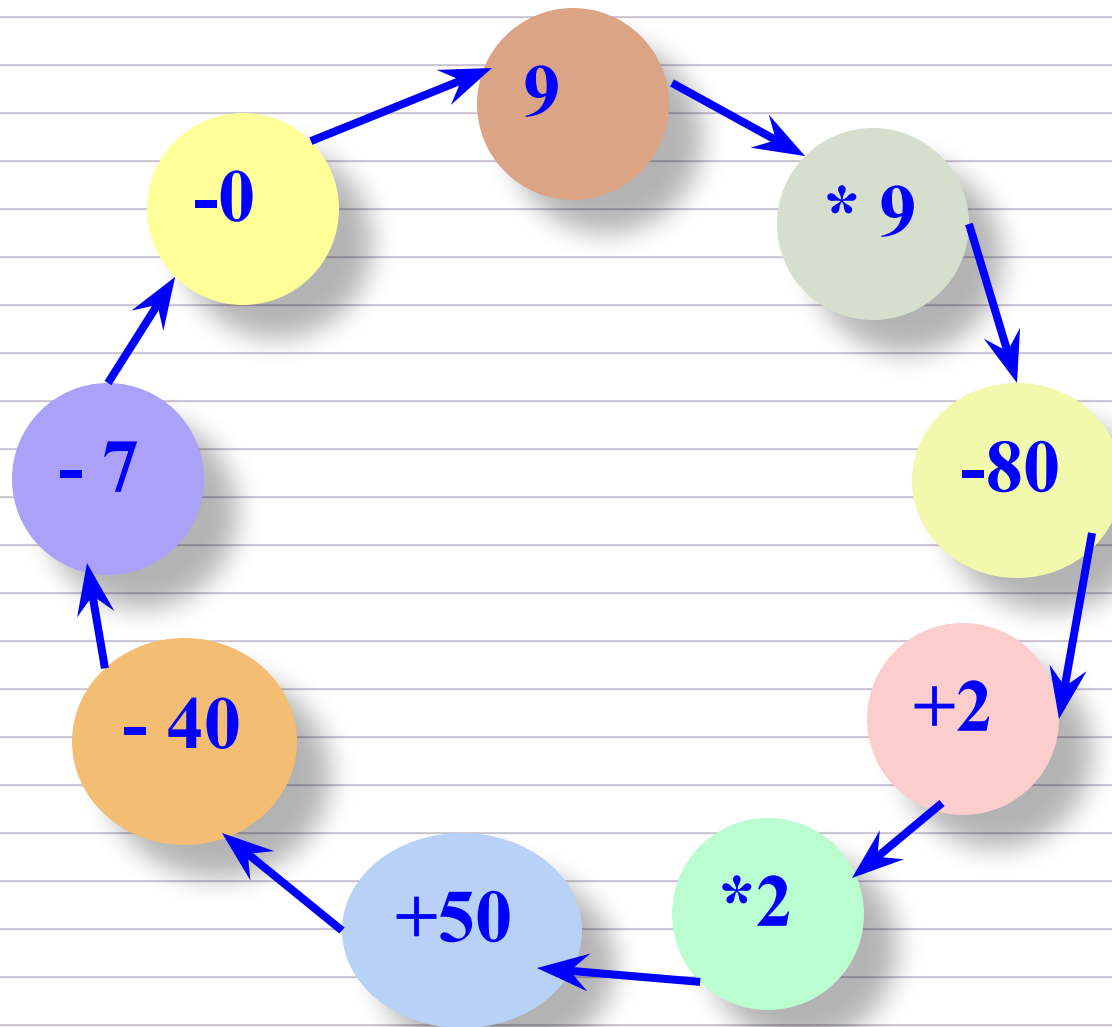
2. КАКУЮ ФИГУРУ НУЖНО УБРАТЬ:



3. СОСЧИТАЙ:



МАТЕМАТИЧЕСКИЕ БУСЫ



САМОСТОЯТЕЛЬНАЯ РАБОТА

1. ЗАПИШИ ВЫРАЖЕНИЯ И НАЙДИ ИХ ЗНАЧЕНИЕ:

- ПО ДЕВЯТЬ ВЗЯТЬ ШЕСТЬ РАЗ;

- ДЕВЯТЬ УМНОЖИТЬ НА ДВА;

- ДЕВЯТЬ ПОВТОРИТЬ ВОСЕМЬ РАЗ;

- НАЙДИ ПРОИЗВЕДЕНИЕ ЧИСЕЛ
ДЕВЯТЬ И ПЯТЬ;

-

- ПЕРВЫЙ МНОЖИТЕЛЬ ДЕВЯТЬ, ВТОРОЙ МНОЖИТЕЛЬ ТРИ. НАЙДИ ПРОИЗВЕДЕНИЕ;
- ПО ДЕВЯТЬ ВЗЯТЬ ЧЕТЫРЕ РАЗА;
- ДЕВЯТКУ ПОВТОРИ СЕМЬ РАЗ;
- ПЕРВЫЙ МНОЖИТЕЛЬ ДЕВЯТЬ. ВТОРОЙ МНОЖИТЕЛЬ РАВЕН ПЕРВОМУ. НАЙДИ ПРОИЗВЕДЕНИЕ.

2. ВЫПИШИ ОТВЕТЫ В ПОРЯДКЕ ВОЗРАСТАНИЯ.

3. НАЙДИ РАЗНОСТЬ САМОГО БОЛЬШОГО И САМОГО МАЛЕНЬКОГО ЧИСЛА В РЯДУ.

4. НАЙДИ СУММУ ВТОРОГО И СЕДЬМОГО ЧИСЛА В РЯДУ.