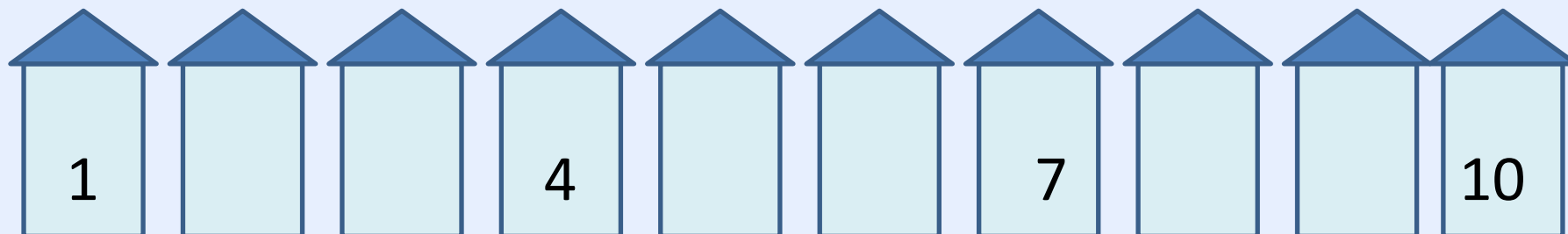


Число и цифра 1

Королёва Ирина
Николаевна
учитель начальных классов
МКОУ СОШ №2
г.Нефтекумск

Игра «Почтальон»



Кто вышел первый, если он стоит слева от собачки?



3.1

ЧИСЛО ОДИН. ЦИФРА 1

один
много



число
цифра



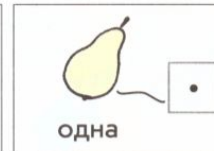
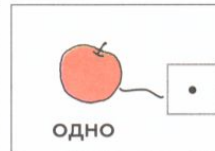
1 Сколько на рисунке зелёных вагонов?



2 Положите на стол столько же кругов, сколько вагонов на рисунке Пети.



3 Назовите число предметов на каждом рисунке.



?! С каким числом вы познакомились? Как его записать?

Число **один** записывают знаком – **цифрой 1**.




цифра один (единица)

Вот один, иль единица,
Очень тонкая, как спица.
С.Я. Маршак

4 Спишите.

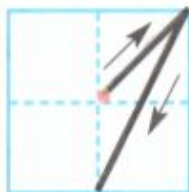




22

?! С каким числом вы познакомились? Как его записать?

Число один записывают знаком – цифрой 1.

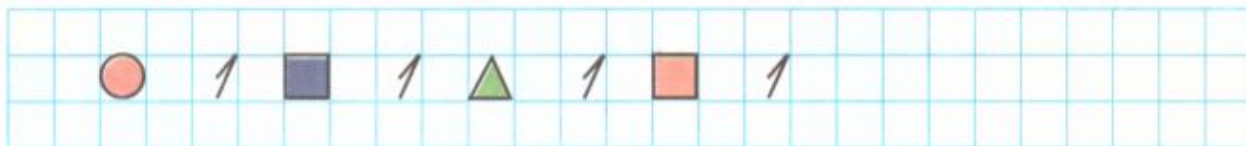


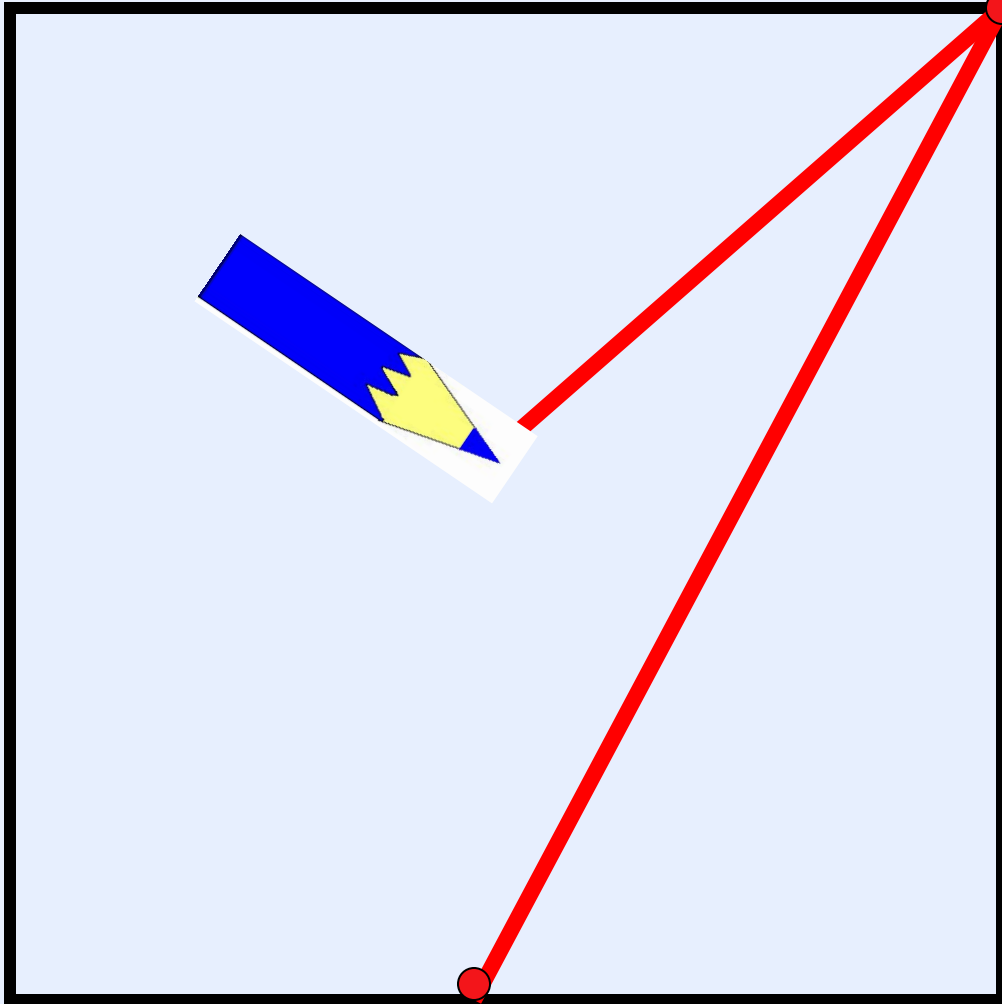
цифра один (единица)

Вот один, иль единица,
Очень тонкая, как спица.

С.Я. Маршак

4 Спишите.





Это - цифра единица.
Первой быть она
стремится!
Всех прямее и ровней,
Остальные все - за ней!

В правый верхний уголок
Карандаш веди, дружок,
А затем - левее, вниз:
Вот - одна из единиц!



одна

много

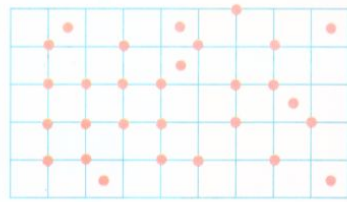
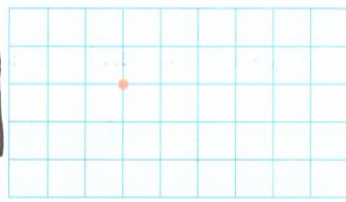


точки

линии





5 Сколько точек на рисунке справа? Сколько точек на рисунке слева?



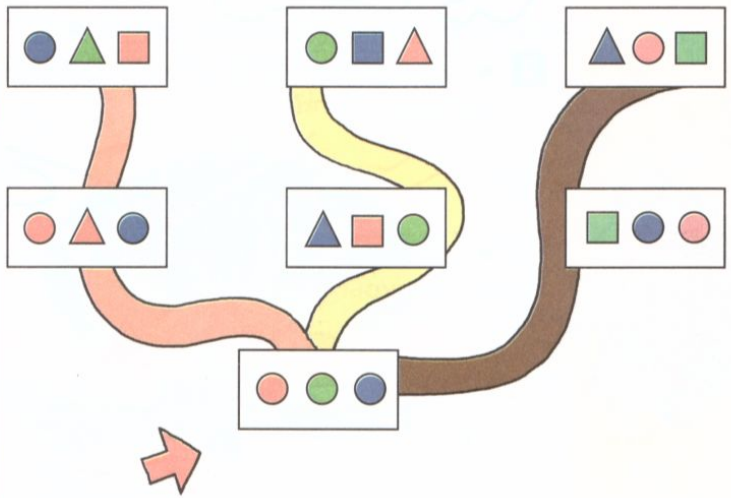
• Сравните число точек.

6 Сравните число фигур.



• Расскажите, каких фигур больше, каких – меньше.

7 По какой «тропинке» надо пройти, чтобы набрать наибольшее число красных кругов?

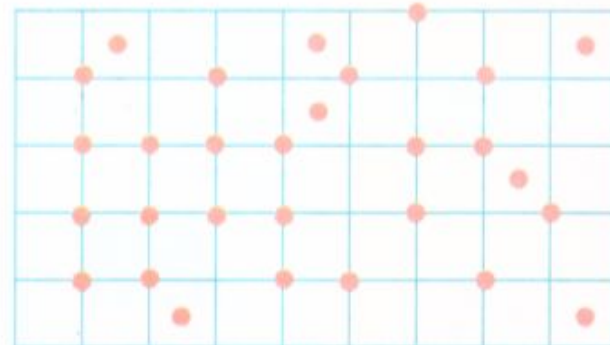
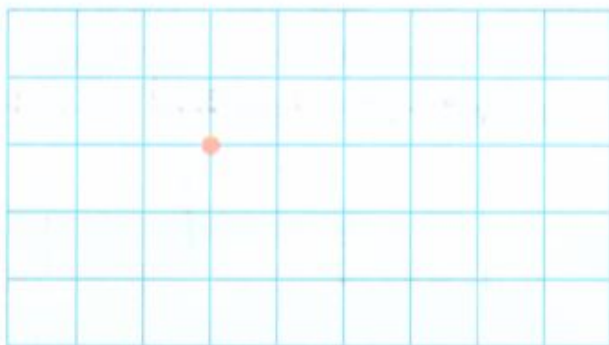


одна

много




5 Сколько точек на рисунке справа? Сколько точек на рисунке слева?



• Сравните число точек.

6 Сравните число фигур.

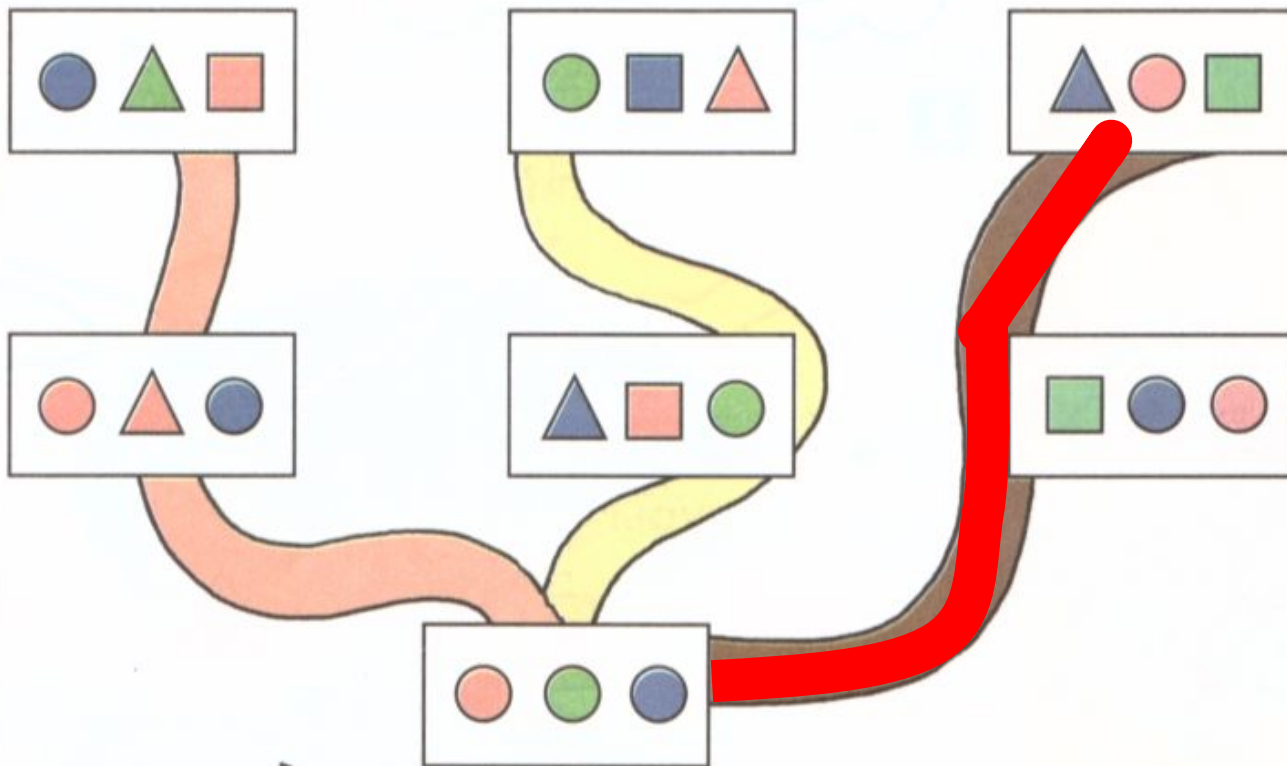



• Расскажите, каких фигур больше, каких — меньше.

точки


линии

7 По какой «тропинке» надо пройти, чтобы набрать наибольшее число красных кругов?

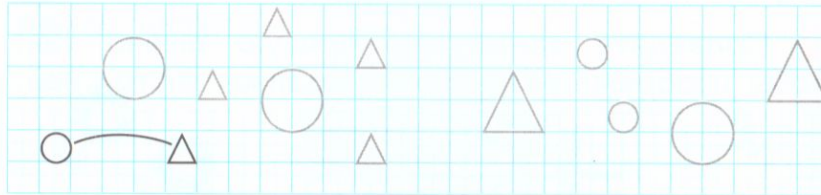


3.1


1 Выполните задание 4 на странице 22 учебника. Найдите закономерности и продолжите ряды.



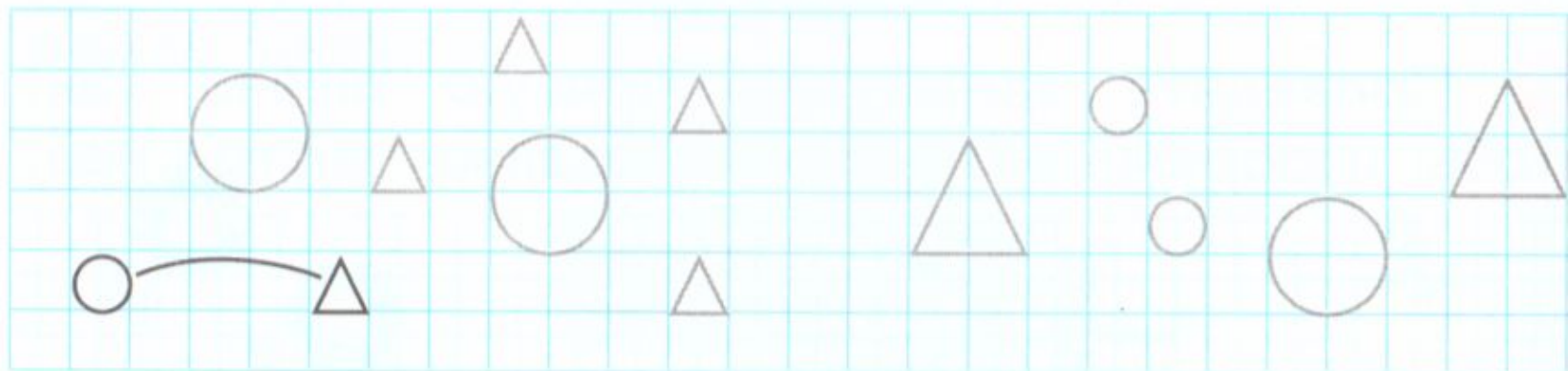
2 Обведите фигуры. Составьте пары: круг – треугольник так, как это показано на рисунке. Каких фигур больше: кругов или треугольников?



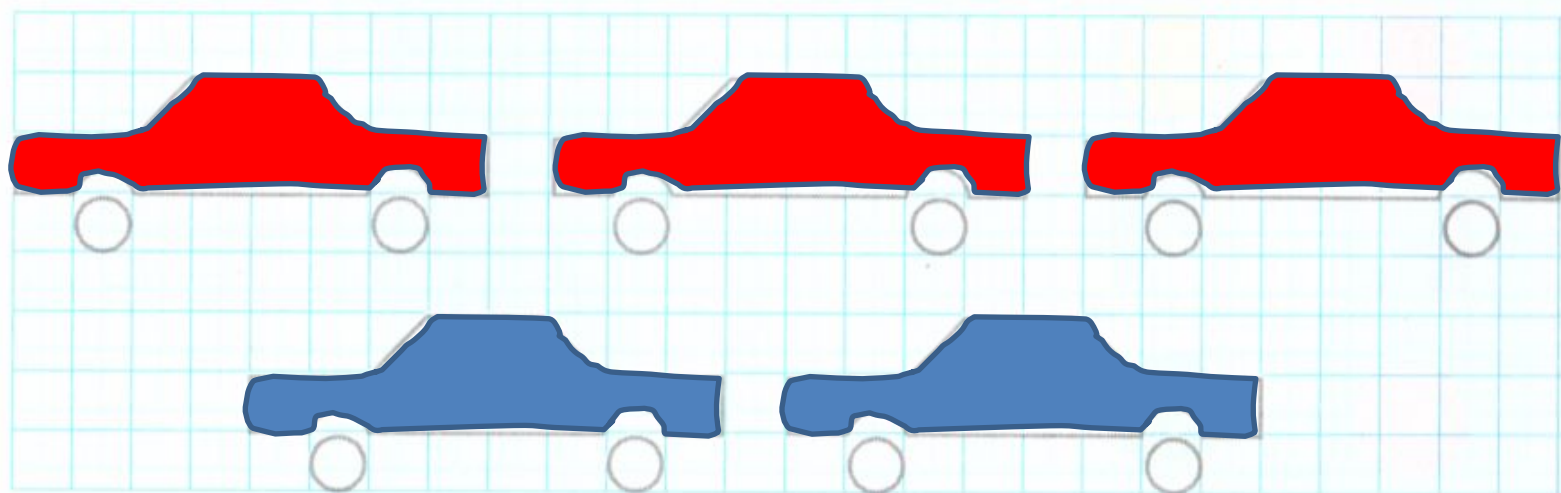
3 * Обведите и раскрасьте каждую машинку либо красным, либо синим цветом. При этом красных машинок должно быть больше, чем синих.



2 Обведите фигуры. Составьте пары: круг – треугольник так, как это показано на рисунке. Каких фигур больше: кругов или треугольников?



3 * Обведите и раскрасьте каждую машинку либо красным, либо синим цветом. При этом красных машинок должно быть больше, чем синих.



Использовала слайд Елены Берюховой из презентации про
число и цифру 1