



Закреплени е

Королёва Ирина Николаевна
учитель начальных классов
МКОУ СОШ №2
г.Нефтекумск

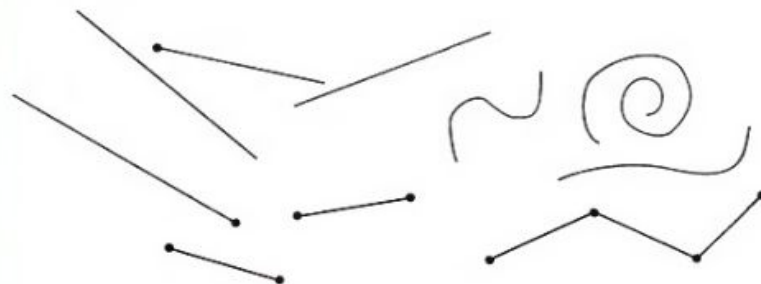
1 Из числового ряда 1, 2, 3, 4, 5, 6, 7, 8, 9
Пети выпиши пары чисел:

- сумма которых меньше 10;
- сумма которых больше 11.

• Сравни свою работу с работой других ребят.

название

2 На какие группы можно разбить фигуры на рисунке Лены?



• Что ты знаешь о фигурах каждой группы?

уменьшаемое

вычитаемое

разность

3 Какое выражение здесь «лишнее»?

$16 - 8$

$14 - 8$

$14 - 6$

$15 - 7$

4 Помоги Вове составить и решить уравнения.

а) К какому числу надо прибавить 7, чтобы получить 16?

б) Какое число надо отнять от 15, чтобы получилось 6?

в) От какого числа надо отнять 8, чтобы получилось 9?



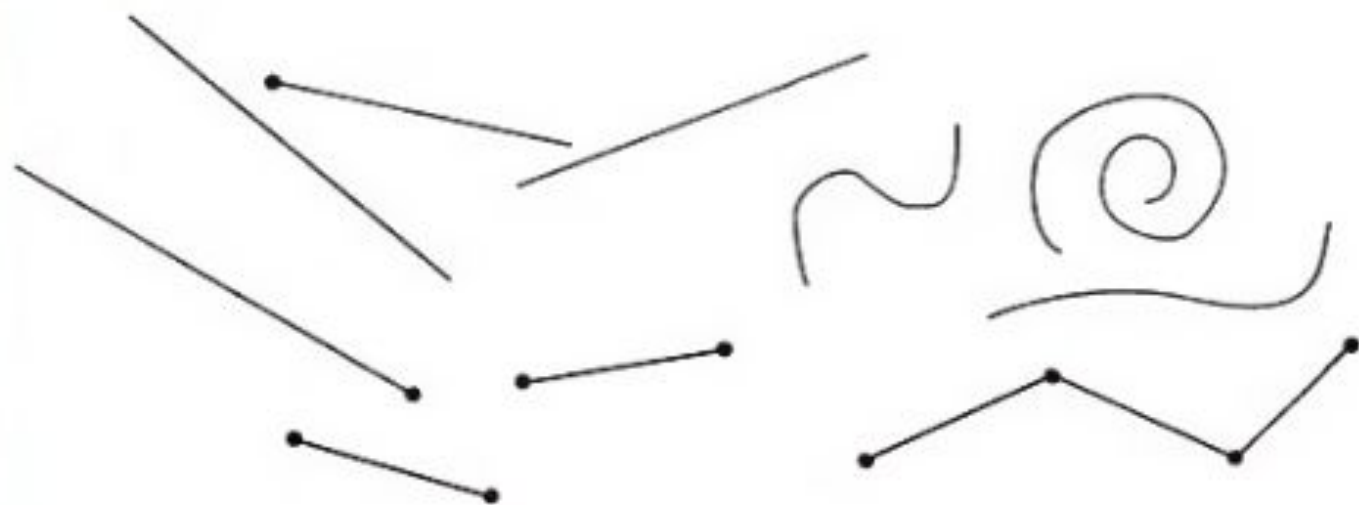
1 Из числового ряда 1, 2, 3, 4, 5, 6, 7, 8, 9
Пети выпиши пары чисел:

а) сумма которых меньше 10;

б) сумма которых больше 11.

- Сравни свою работу с работой других ребят.

2 На какие группы можно разбить фигуры на
рисунке Лены?



- Что ты знаешь о фигурах каждой группы?

Начерти отрезок 7 см, а второй на 3 см больше первого, третий на 6 см меньше второго.



уменьшаемое

вычитаемое

разность



48

3 Какое выражение здесь «лишнее»?

$16 - 8$

$14 - 8$

$14 - 6$

$15 - 7$

4 Помоги Вове составить и решить уравнения.

- а) К какому числу надо прибавить 7, чтобы получить 16?
- б) Какое число надо отнять от 15, чтобы получилось 6?
- в) От какого числа надо отнять 8, чтобы получилось 9?

Составь и реши уравнения

- 1) К какому числу нужно прибавить 2, чтобы получилось 11?

$$X + 2 = 11$$

- 2) От какого числа отнять 5, чтобы получилось 7?

$$Y - 5 = 7$$

- 3) Какое число нужно отнять от 16, чтобы получилось 8?

$$16 - a = 8$$

верное
равенство
выражение
значение
выражения
сумма
слагаемое



5 Преврати записи Лены в верные равенства.

$$5 + 4 = * + 1 \qquad 19 - 7 = 6 + *$$


$$15 - 6 = * + 8$$

6 а) В альбоме у Кати 11 открыток. Три из них чёрно-белые, а остальные цветные. Сколько в Катином альбоме цветных открыток?

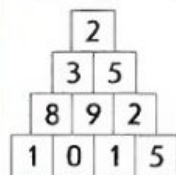
б) У Вовы 13 подруг. Это на 5 меньше, чем друзей. Сколько у Вовы друзей?

в) Летом на берегу моря Лена нашла 9 белых камешков. Это на 4 камешка больше, чем розовых. Сколько всего розовых и белых камешков нашла Лена?

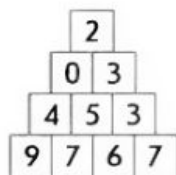
7* У Пети есть 3 открытки. На двух из них есть медвежонок и на двух – бельчонок. Что изображено на третьей открытке?



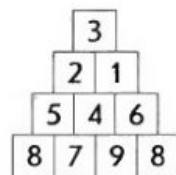
8 Как пройти по клеткам пирамиды и набрать заданную сумму?



15



17



18

• Сколько ты нашёл способов выполнить задание?

5 Преврати записи Лены в верные равенства.

$$5 + 4 = 8 + 1$$

$$19 - 7 = 6 + 6$$

$$15 - 6 = 1 + 8$$

6 а) В альбоме у Кати 11 открыток. Три из них чёрно-белые, а остальные цветные. Сколько в Катином альбоме цветных открыток?

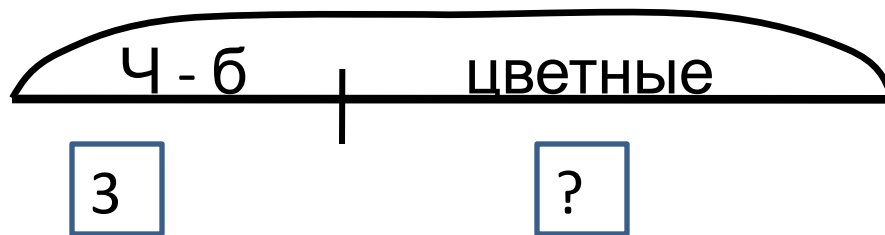
б) У Вовы 13 подруг. Это на 5 меньше, чем друзей. Сколько у Вовы друзей?

в) Летом на берегу моря Лена нашла 9 белых камешков. Это на 4 камешка больше, чем розовых. Сколько всего розовых и белых камешков нашла Лена?



В альбоме у Кати 11 открыток. Три из них чёрно-белые, а остальные цветные. Сколько в Катином альбоме цветных картинок?

11





7* У Пети есть 3 открытки. На двух из них есть медвежонок и на двух – бельчонок. Что изображено на третьей открытке?

