


Число и цифра 2

Королёва Ирина
Николаевна
учитель начальных
классов
МКОУ СОШ №2
г.Нефтекумск



Продолжи фразу

Если сосна выше берёзы, то берёза...



Если ствол дуба толще ствола
осины, то ствол осины...



Если куст ниже дерева, то дерево



Сравн и

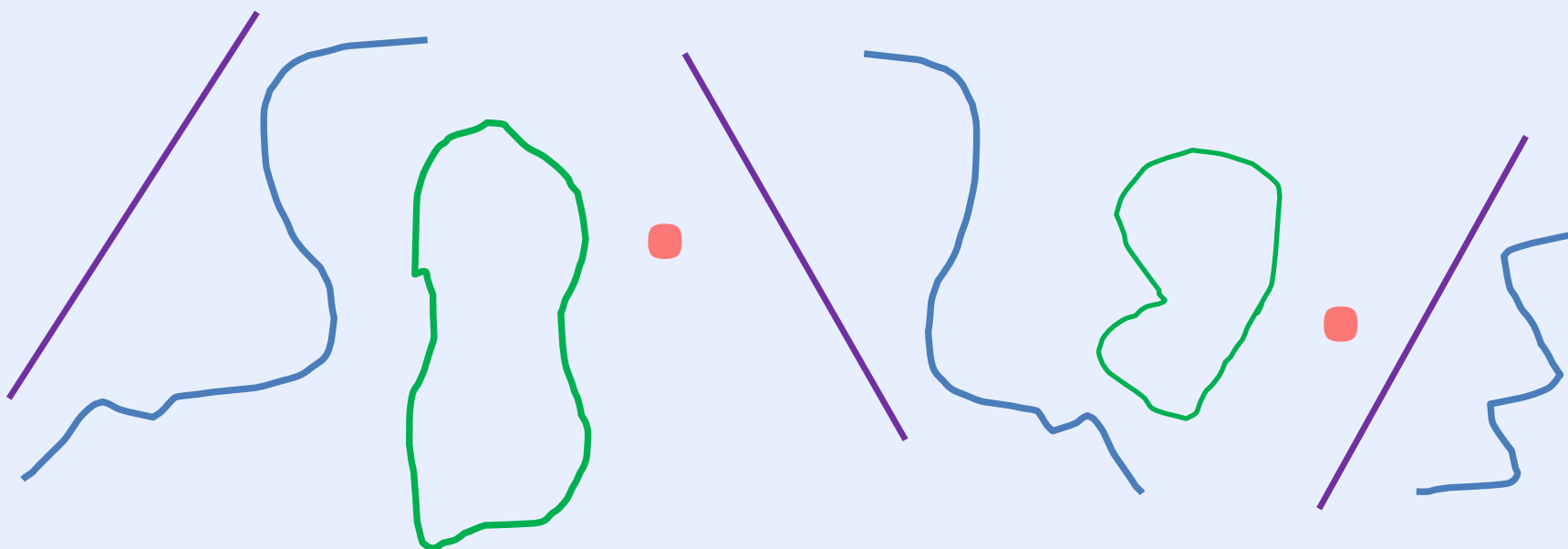


У Кати было 3 куклы. Стало на 2 больше.
Сколько стало?



5

Назови фигуры в ряду, продолжи
ряд



Сколько прямых можно провести ,
чтобы на них стояли обе точки?



два

следующее
число

число

цифра



1 • Сколько вагонов было? Сколько стало?



• Верно ли, что один и один будет два? Верно ли, что число два следует при счёте сразу же за числом один?

2 • Назовите число предметов на каждом рисунке.



две



два

Число **два** записывают знаком — **цифрой 2**.

цифра два

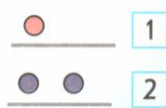
Два — похожа на гусёнка
С длинным клювом, шей тонкой.

С.Я. Маршак

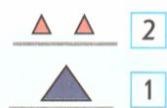
3 Спишите.



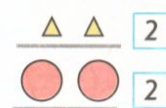
4 • Сравните число фигур на рисунке Кати, рисунке Пети и рисунке Вовы.



К.




П.



В.


5 • Сколько шаров было? Сколько стало?



Сколько вагонов
было?



Сколько вагонов
стало?



Число **два** записывают знаком — **цифрой 2**.




цифра два

Два — похожа на гусёнка
С длинным клювом, шеей тонкой.

С.Я. Маршак

3 Спишите.



4 ● Сравните число фигур на рисунке Кати, рисунке Пети и рисунке Вовы.



К.




П.



В.

5

● Сколько шаров было? Сколько стало?



$$1 + 1 = 2$$

$$2 - 1 = 1$$

один
предыдущее
число



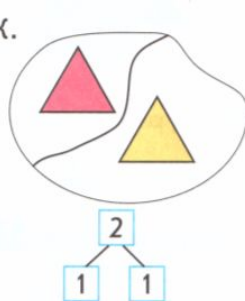
два
один и один



• Верно ли, что два без одного будет один?
Верно ли, что при счёте число один стоит непосредственно перед числом два?

6 Сколько фигур на каждом рисунке? • На какие группы их можно разбить?

К.



П.




В.



• Расскажите, сколько фигур в каждой группе.


7 Петя подобрал к своим рисункам числовые карточки. • Подберите числовую карточку к каждому рисунку Вовы.




П. 2



1

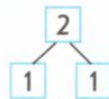


2 1



В.

• Расскажите о числе два:



один

предыдущее
число

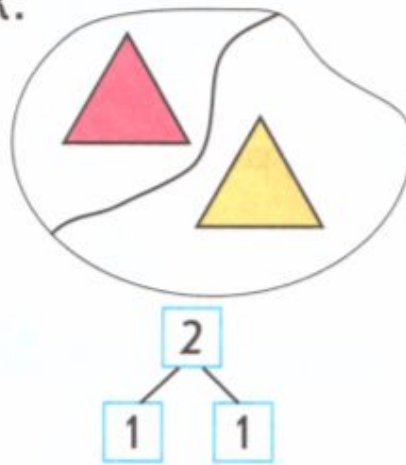


- Верно ли, что два без одного будет один? Верно ли, что при счёте число один стоит непосредственно перед числом два?

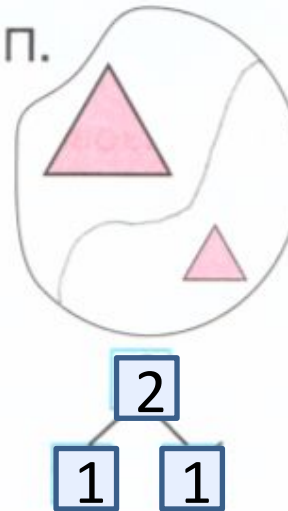
1 2 3 4 5 6 7 8 9

6. Сколько фигур на каждом рисунке? • На какие группы их можно разбить?

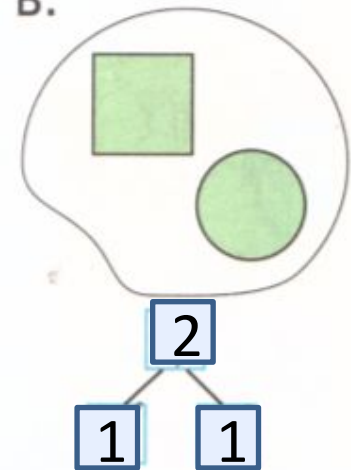
К.



П.



В.



- Расскажите, сколько фигур в каждой группе.

два


один и один



27

7 Петя подобрал к своим рисункам числовые карточки. ● Подберите числовую карточку к каждому рисунку Вовы.


1 и 1



П.

2

2 без 1



1

2 без 1



2

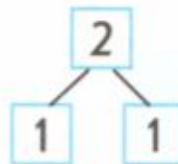
1 и 1



1

В.

● Расскажите о числе два:




1 Выполните задание 3 на странице 26 учебника. Найдите закономерности и продолжите ряды.

The grid contains the following content:

- Row 1: A large number 2 with red arrows indicating stroke direction (top to bottom, then curved to the right). To its right are two pairs of '12 ~ 2'.
- Row 2: Two pairs of circles 'OO 22', two pairs of triangles 'ΔΔ 22', and two pairs of squares '□□ 22'.
- Row 3: A pair of '2 22' followed by a single '2'.


2 Обозначьте число изображений в каждой рамке цифрой.



2



1



2



1

3 Проведите через точку прямые линии.

