

Отрезок

к

Королёва Ирина
Николаевна
учитель начальных
классов
МКОУ СОШ №2
г.Нефтекумск





У Юли была 1 матрёшка, мама
подарила ещё 1 матрёшку. Сколько
матрёшек стало?



$$1 + 1 = 2$$

У Миши было 2 кубика. Он 1 кубик
отдал Вите. Сколько кубиков у него
осталось?



$$2 - 1 = 1$$

2 Выполните задание 1 на странице 30 учебника.



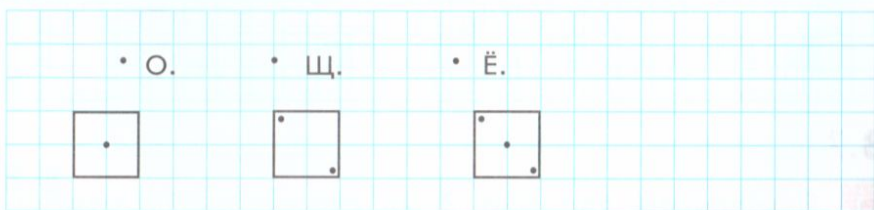
3 Выполните задание 4 на странице 30 учебника.



4 Выполните задание 5 на странице 31 учебника.



5 Выполните задание 7 на странице 31 учебника. Покажите стрелками, в каком порядке поймали рыб.



3.6

1 Найдите закономерности и продолжите ряды.

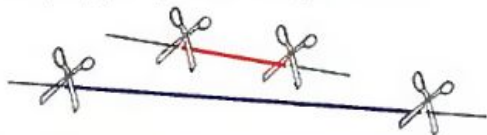


прямая



отрезок

1 Рассмотрите рисунок. Что мы сделали с прямой? Какие фигуры у нас получились?



2 Катя поставила две точки. Провела через них прямую. Часть прямой между точками она выделила красным цветом.



• Выполни такую же работу.

3 Как бы ты назвал фигуру, которая у тебя получилась?


4 Эта фигура — отрезок. Точки — концы отрезка. Их можно обозначить буквами.



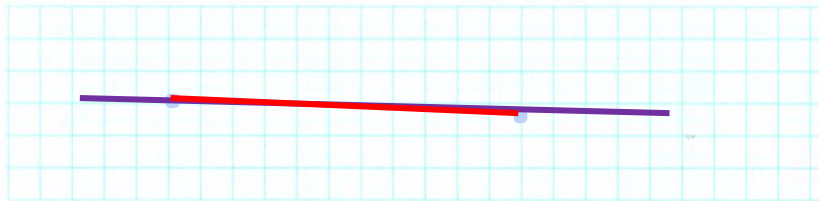
3 Катя начертила красный отрезок, Петя — синий, Вова — зелёный. Как они назвали свои отрезки?



4 Чей отрезок самый длинный? Самый короткий?



Выполните задание 1 на странице 32 учебника.



Соедините точки одного цвета по линейке.



Сколько отрезков у вас получилось? Назовите самый длинный отрезок.

Выполните задание 4 на странице 33 учебника.



7

Выполните задание 3 на странице 34 учебника. Найдите закономерности и продолжите ряды.

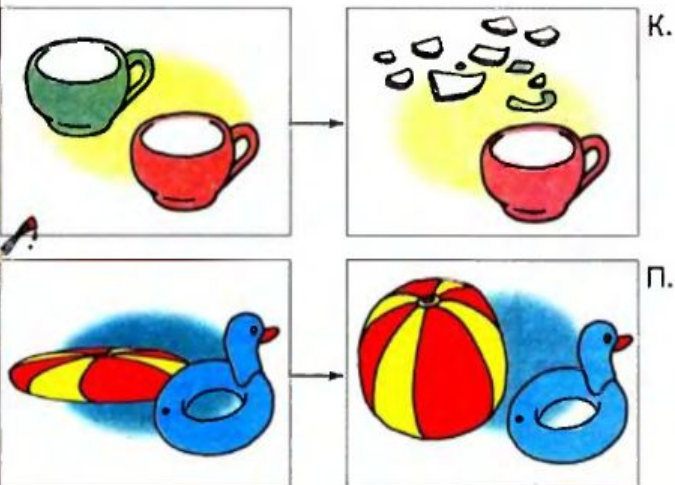
3

○○○	3	△▽△	3	△▽△	
123	321				
2 > 1	2 < 3	1	3	3	1


5 Прочитай записи Вовы. Найди неверные равенства и неравенства. Помоги ему изменить записи так, чтобы все они стали верными.

$1 = 1$ ~~$1 < 1$~~ $2 > 1$ $2 = 2$ ~~$1 = 2$~~

6 Расскажи, что изменилось на рисунках Кати и Пети.



7 Помоги Кате, Пете и Вове подобрать числовые карточки к своим рисункам.



8 Назови недостающую фигуру.

Выполните задание 1 на странице 32 учебника.

Соедините точки одного цвета по линейке.



Сколько отрезков у вас получилось?
Назовите самый длинный отрезок.

Выполните задание 4 на странице 33 учебника.

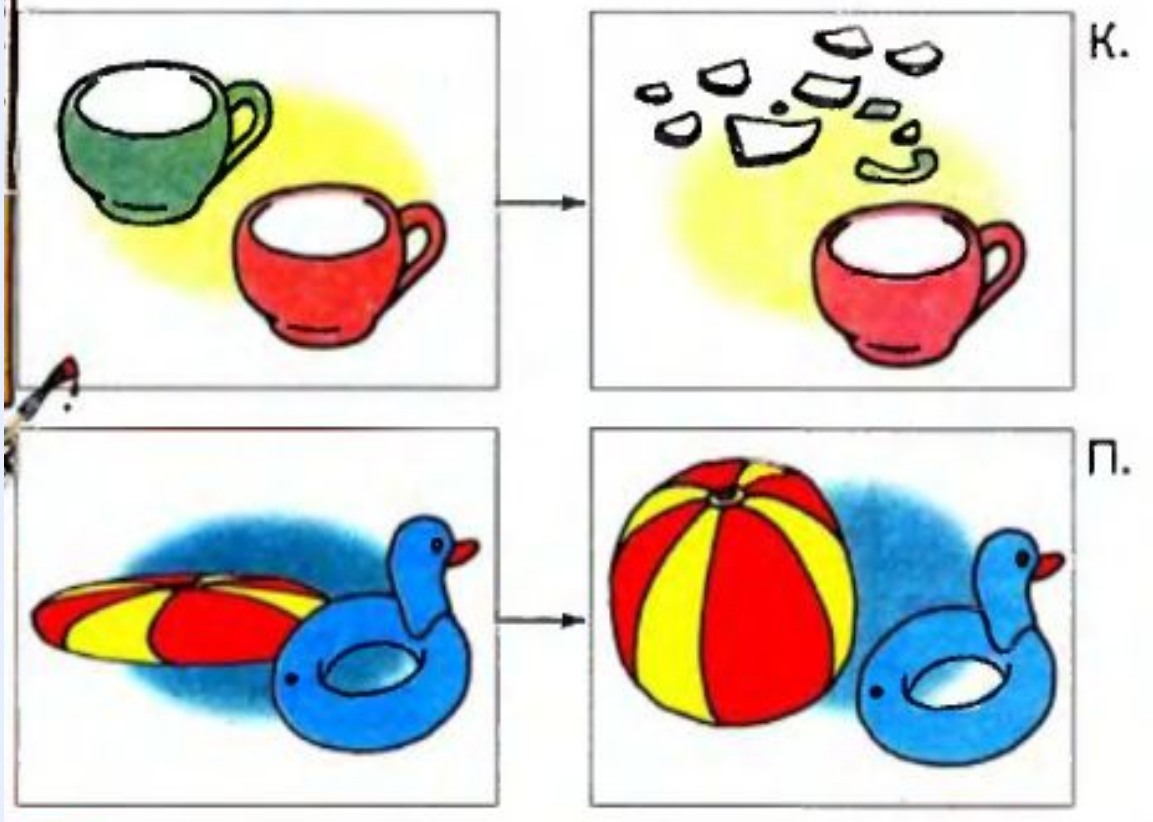
$1 = 1$ $2 > 1$ $2 = 2$

7

Выполните задание 3 на странице 34 учебника. Найдите закономерности и продолжите ряды.



6 Расскажи, что изменилось на рисунках Кати и Пети.

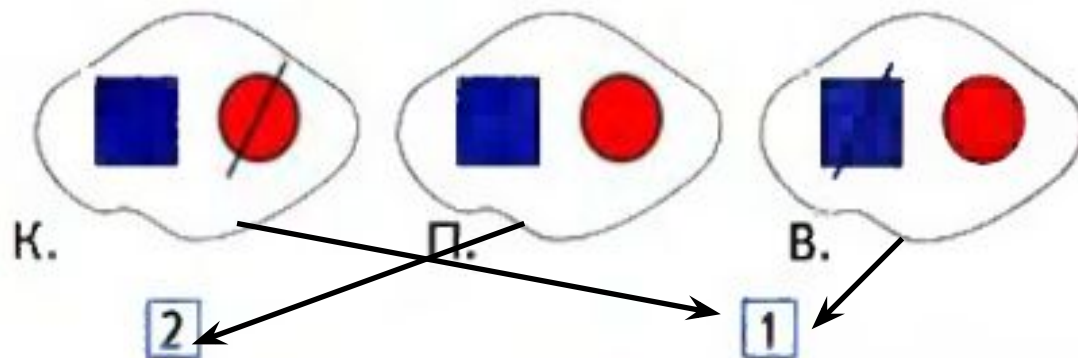


$$2 - 1 = 1$$

$$1 + 1 = 2$$



7 Помоги Кате, Пете и Вове подобрать числовые карточки к своим рисункам.



8 Назови недостающую фигуру.
