
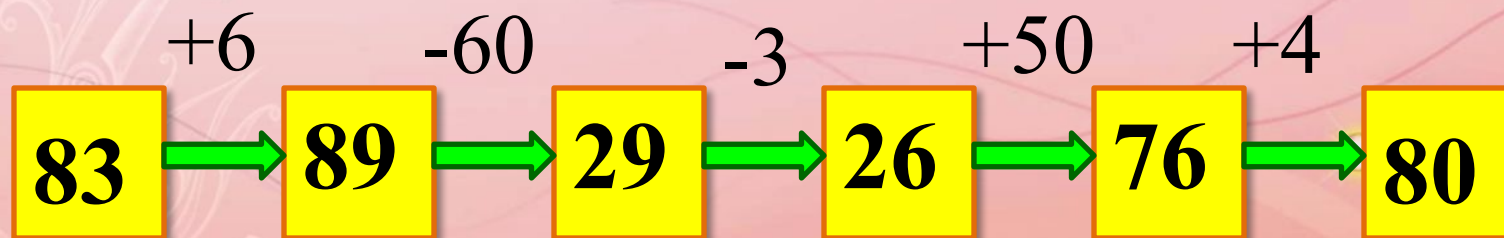
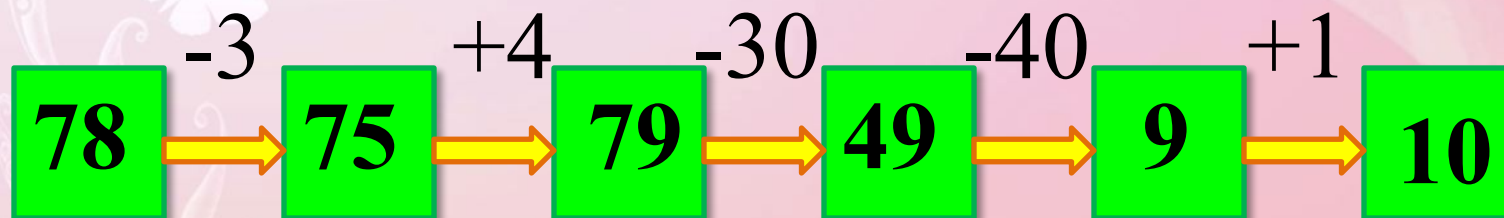


Математика · 2 класс · УМК «Гармония»

Урок №17
Подготовка к решению
задач. Выбор схемы.
Продуктивное повторение

Автор презентации
Коровина Ирина Николаевна
учитель начальных классов
МБОУ «СОШ №9»
г.Сафоново Смоленской области

Выполни действия



32.

В корзине 8 белых грибов, 3 лисички, остальные маслята.

1) Обведи кривой замкнутой линией столько кругов, сколько грибов в корзине, если маслят на 6 меньше, чем белых.

б б б б б б б б Л Л Л М М ○ ○ ○


2) Обведи кривой замкнутой линией столько кругов, сколько грибов в корзине, если маслят на 2 больше, чем лисичек.

б б б б б б б б Л Л Л М М М М М ○

33.

В баскетбольной команде 8 игроков,
из них 3 запасных.

Обведи кривой замкнутой линией столько кру-
гов, сколько в команде основных игроков.



8 игр.

3 запас.

?

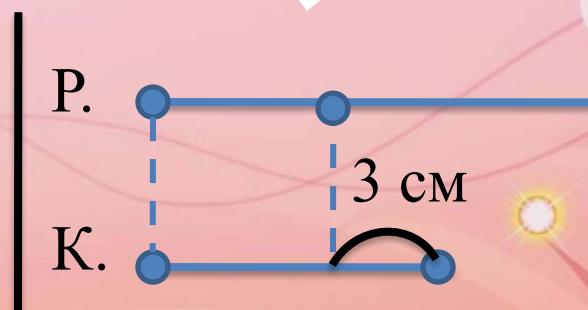
$$8 - 3 = 5 \text{ (игр.)}$$

Ответ: в команде 5 основных
игроков.

Длина кисточки больше длины ручки 3 см.



Обозначь отрезком длину ручки кисточки на рисунке
и отметь дугой 3 см.



Решите задачи, подберите к ним схемы

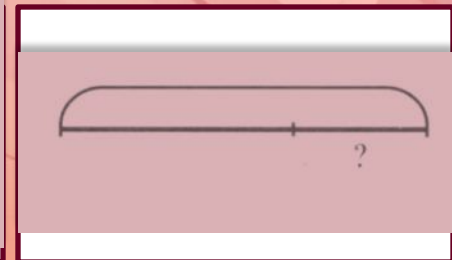
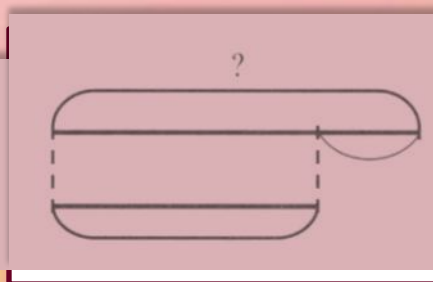
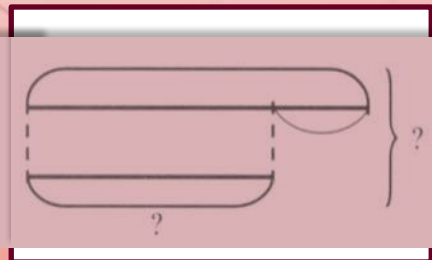
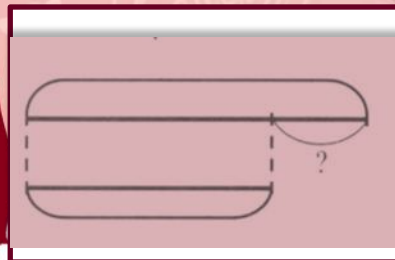
Масса ящика с гвоздями 12 кг, а гвоздей – 10 кг.
Какова масса пустого ящика?

$$12 - 10 = 2(\text{кг})$$

Ответ: пустой ящик весит 2 кг.

12 кг

10 кг



Решите задачи, подберите к ним схемы

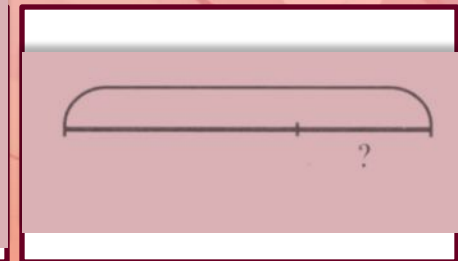
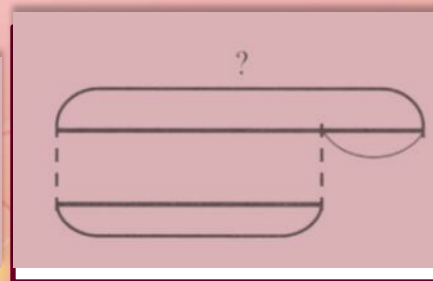
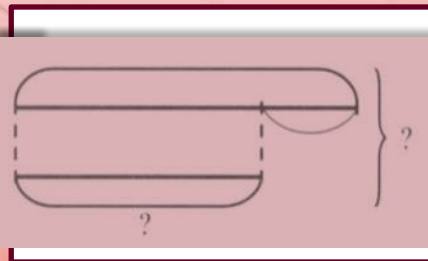
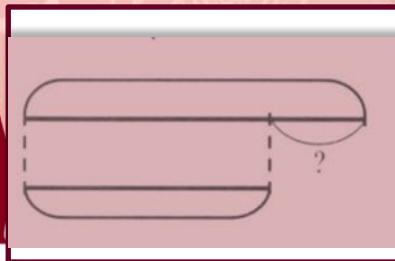
Юннаты пропололи 35 грядок красных тюльпанов, а жёлтых на 14 грядок больше. Сколько грядок жёлтых тюльпанов пропололи юннаты?

14 гр.

35 гр.

$$35 + 14 = 49(\text{гр.})$$

Ответ: пропололи 49 грядок жёлтых тюльпанов.



Решите задачи, подберите к ним схемы

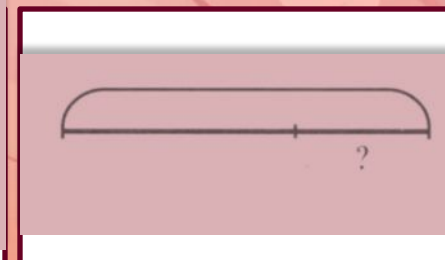
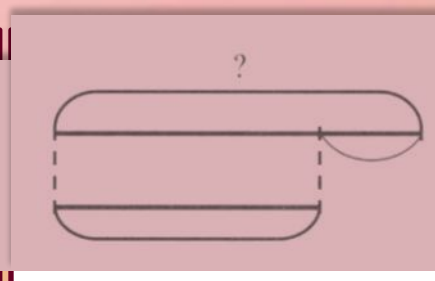
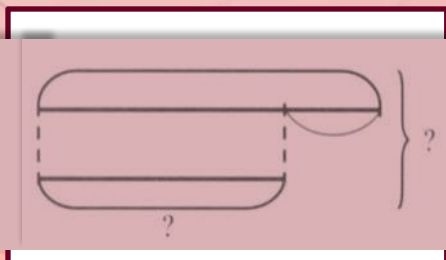
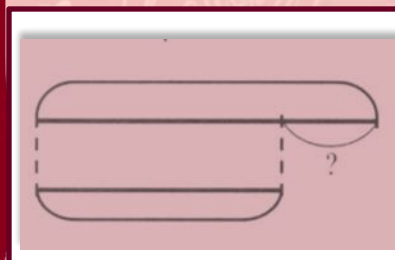
На пришкольном участке дети посадили 19 кустов шиповника и 10 кустов акации. На сколько меньше кустов акации, чем шиповника, посадили дети?

19 к.

$$19 - 10 = 9(\text{к.})$$

10 к.

Ответ: на 9 кустов меньше посадили акации, чем шиповника.



Решите задачи, подберите к ним схемы

Павлик прочитал в понедельник 10 страниц, а во вторник – на 4 страницы меньше.

Сколько страниц прочитал Павлик за два дня?

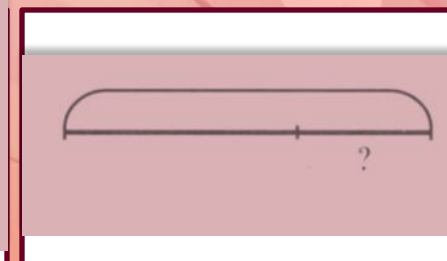
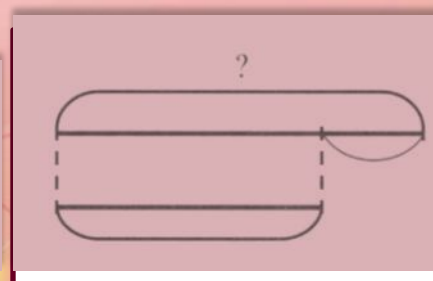
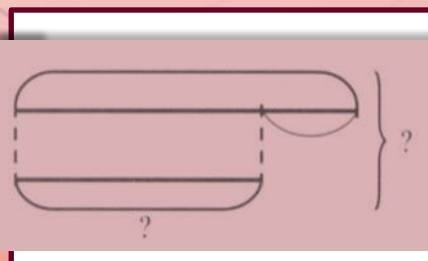
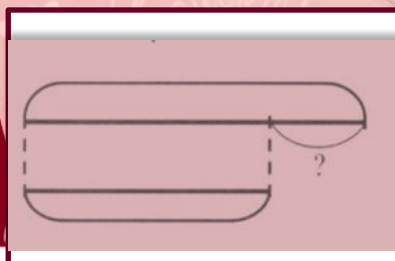
10 стр.

1) $10 - 4 = 6$ (стр.) - вторник

4 стр.

2) $10 + 6 = 16$ (стр.) – за 2 дня

Ответ: за 2 дня прочитал 16 страниц



Интернет – ресурсы:

- <http://s1.pic4you.ru/allimage/y2012/10-18/12216/2569513.png> бабочка
- http://www.accentart.ru/images/phocagallery/Trafaret/thumbs/phoca_thumb_1_B-091.jpg
- бордюр для создания рамочки
- http://img-fotki.yandex.ru/get/3514/inmira.33/0_39bb4_137d1ccc_XL.png
- белый декор (в просмотре белая картинка на белом фоне не видна)
- <http://www.widewallpapers.net/mod/abstract-light/1920x1080/light-abstract-wide-wallpaper-1920x1080-002.jpg> картинка для создания фона
- Автор шаблона Ранько Елена Алексеевна Сайт: <http://elenaranko.ucoz.ru/>
- Ручка <http://getpen.ru/platinum-brushpen-cf-5/i/844>
- Кисточка <http://konditermag.ru/po-kategoriyam/konditerskij-inventar/kistochka-17-sm-detail>
- Л.Г.Петерсон, И.Г.Липатникова. Устные упражнения на уроках математики. 2 класс. Методические рекомендации. Москва: «Школа 2000...» 2008г.
- Н.Б.Истомина, З.Б.Редько Тетрадь по математике 2 класс /ч.1/ Смоленск: Ассоциация XXI век, 2013г.