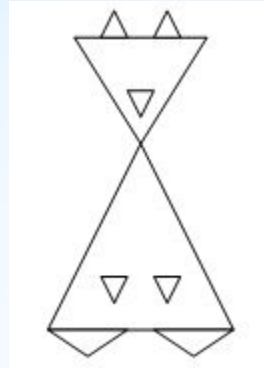


# \*Прямая и луч

2 класс. Урок18

\* Рассмотрите фигуры в каждом ряду и найдите «лишнюю»



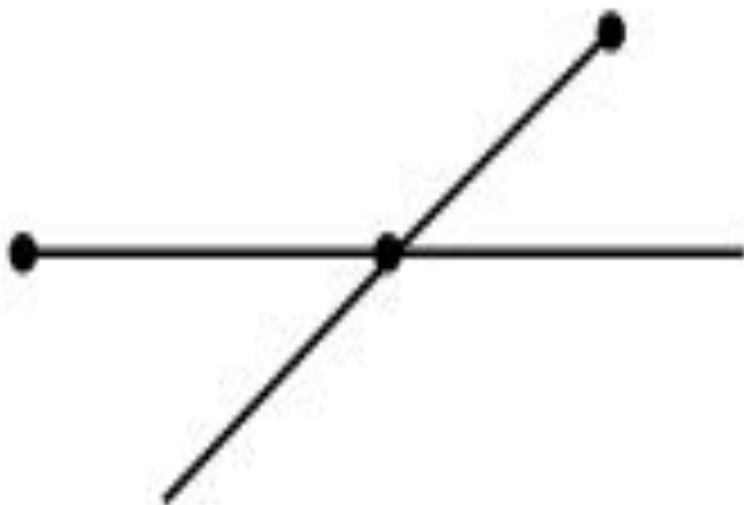


**\* Какие фигуры и  
СКОЛЬКО ВЫ насчитали?**



- \* Начертите прямую. Отметьте на ней точку.  
Начертите прямую. Отметьте на ней точку.

a)



б)

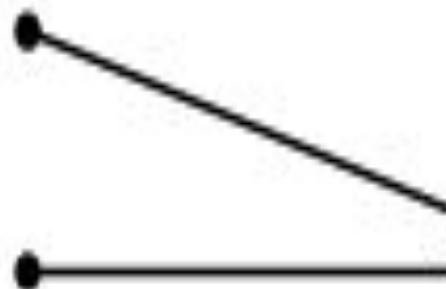


**ЭТОМ ЖЕ ЛИСТЕ.**

а)




б)



**которых находится за пределами  
этого листа.**

a)



b)





**не совпадает с его началом. Покажите  
на этом чертеже новый луч с помощью  
красного цвета.**