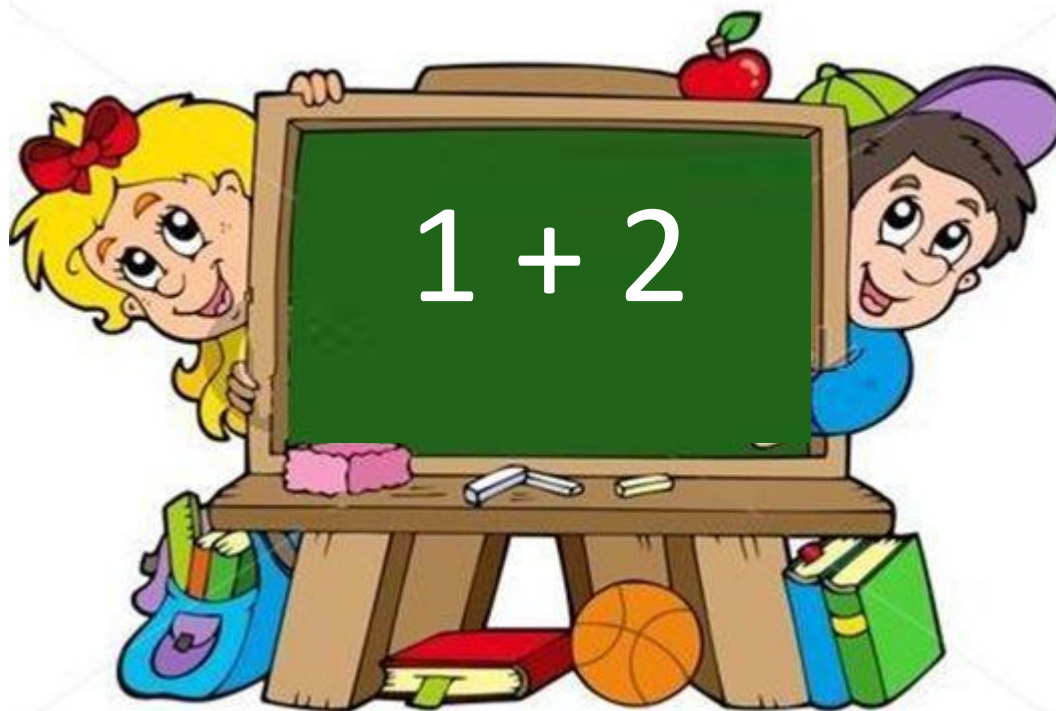


Числа 1 – 6. Состав чисел 3, 4, 5, 6

Королёва Ирина Николаевна
учитель начальных классов
МКОУ СОШ №2
г.Нефтекумск



УСТНЫЙ СЧЁТ



На тарелочке 6 слив,
Вид их очень уж красив.
Съел 4 сливы Павел.
Сколько мальчик слив
оставил?
 $6 - 4 = 2$



Красиво вышила Татьяна

2 лилии и 3 тюльпана.

Какие чудные цветы!

А сколько их нам скажешь ты!



$$2 + 3 = 5$$

Дарит бабушка – лисица
Двум внучатам рукавицы:
«Это вам на зиму, внуки,
Рукавичек по 2 штуки.
Берегите, не теряйте-
Сколько всех, пересчитайте!

$$2 + 2 = 4$$



Назови следующее
число

3

5

6

Назови предыдущее число

2

4

6

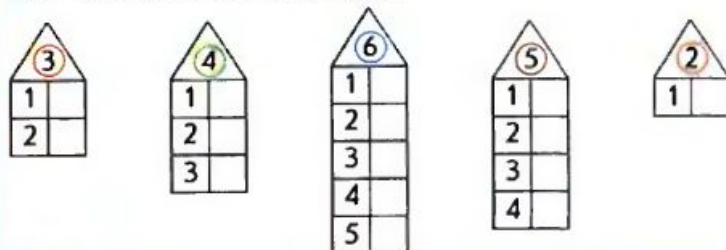
Вставь знаки +

или -

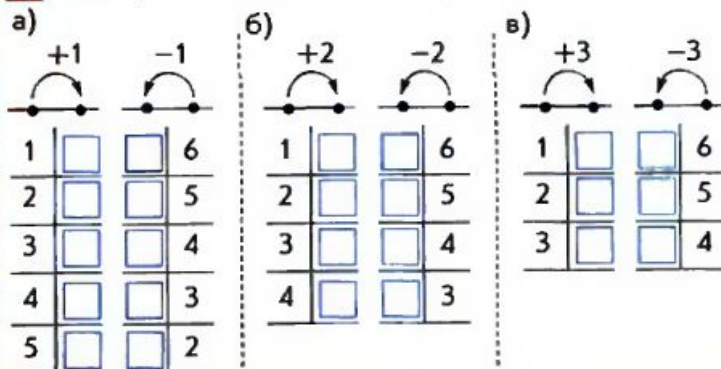
$$5 - 2 + 1 = 4$$

$$4 + 2 - 3 = 3$$

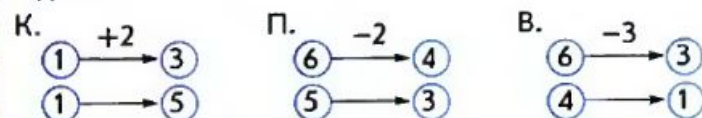
целое
часть



2 Постарайся вычислить быстро:



3 Катя, Петя и Вова записали над стрелками числа и знаки действий. Ты можешь выполнить такое же задание?



4 Какие четыре выражения можно записать к каждому рисунку? Найди их значения.



1 Рассмотрите рисунок Пети. Какие числа он забыл записать в «окошках»?



Вставьте числа

$$\square + \square = 6$$

$$\square + \square = 6$$

$$\square + \square = 6$$

$$\square + \square = 6$$

$$6 - \square = 5$$

$$6 - \square = 4$$

$$6 - \square = 3$$

$$6 - \square = 2$$

2 Постарайся вычислить быстро:

а) $+1$ -1

1	2	5	6
2	3	4	5
3	4	3	4
4	5	2	3
5	6	1	2

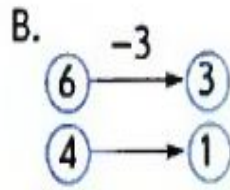
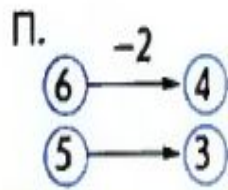
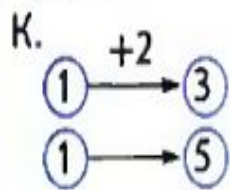
б) $+2$ -2

1	3	4	6
2	4	3	5
3	5	2	4
4	6	1	3


в) $+3$ -3

1	4	3	6
2	5	2	5
3	6	1	4

3 Катя, Петя и Вова записали над стрелками числа и знаки действий. Ты можешь выполнить такое же задание?



4 Какие четыре выражения можно записать к каждому рисунку? Найди их значения.

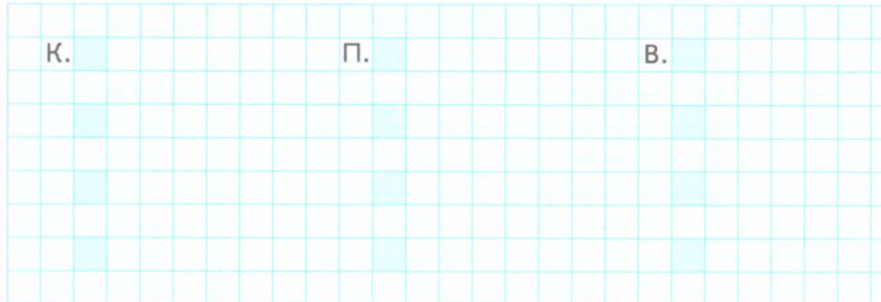


3.27

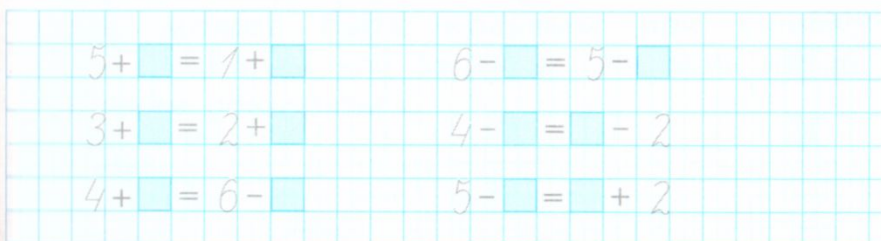
1 Выполните задание 3 на странице 74 учебника.



2 Выполните задание 4 на странице 75 учебника.



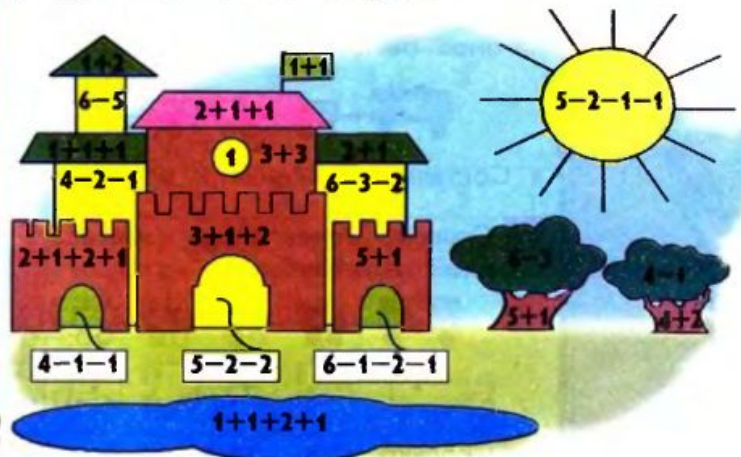
3 Запишите числа в «окошки» так, чтобы получились верные равенства.




- замкнутая кривая
- замкнутая ломаная
- треугольник
- четырёхугольник
- луч
- пятиугольник
- шестиугольник



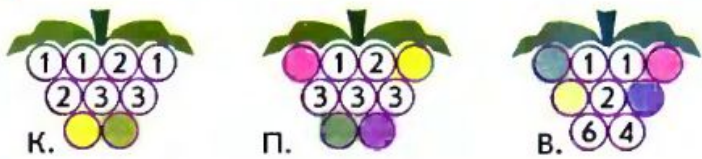
5 Вова нарисовал замок. Какие геометрические фигуры есть на его рисунке?




• Какие числа спрятались в «окошках»?



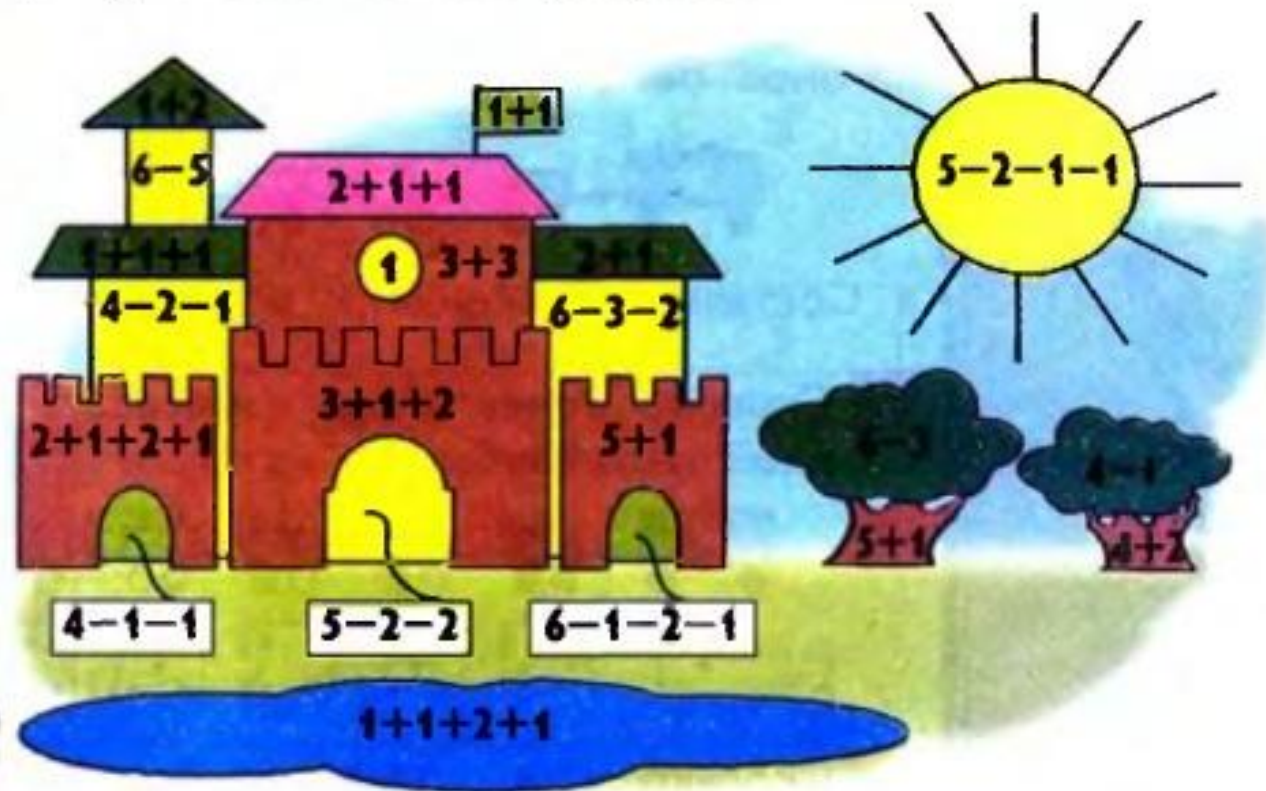
6 Какие числа не записали ребята?



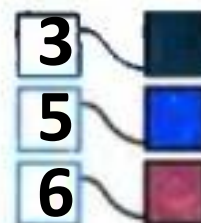
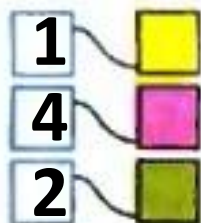
7 * Катя выше, чем Вова, Вова выше, чем Петя. Кто выше всех, кто ниже всех?



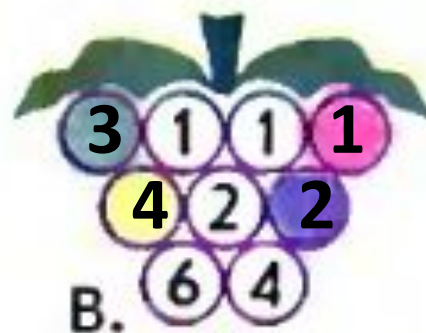


5 Вова нарисовал замок. Какие геометрические фигуры есть на его рисунке?



• Какие числа спрятались в «окошках»?



6 Какие числа не записали ребята?



7* Катя выше, чем Вова, Вова выше, чем Петя.
Кто выше всех, кто ниже всех?

