

ПЕРИМЕТР МНОГОУГОЛЬНИКА

**ПЕРИМЕТР – СУММА
ДЛИН ВСЕХ СТОРОН**

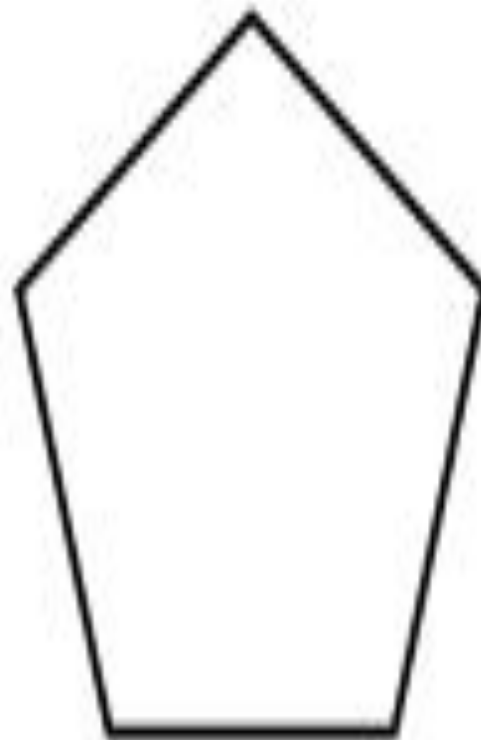
2 КЛАСС. УРОК 49.

СРАВНИТЕ ТЕКСТЫ ЗАДАЧ. ЧЕМ
ОНИ ПОХОЖИ? ЧЕМ
ОТЛИЧАЮТСЯ?

На верхней полке 10 книг. На нижней столько же. Сколько книг на нижней полке?

На верхней полке 10 книг. На нижней столько же. Сколько книг на двух полках?

КАК НАЗЫВАЮТСЯ ДАННЫЕ
ГЕОМЕТРИЧЕСКИЕ ФИГУРЫ?



КАК ВЫЧИСЛИТЬ ПЕРИМЕТР МНОГОУГОЛЬНИКА?

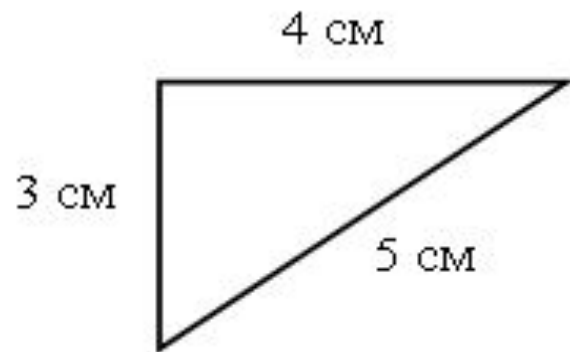
Задание 1.

- Измерьте стороны данного многоугольника.**
- Сложите полученные результаты, чтобы узнать периметр многоугольника.**

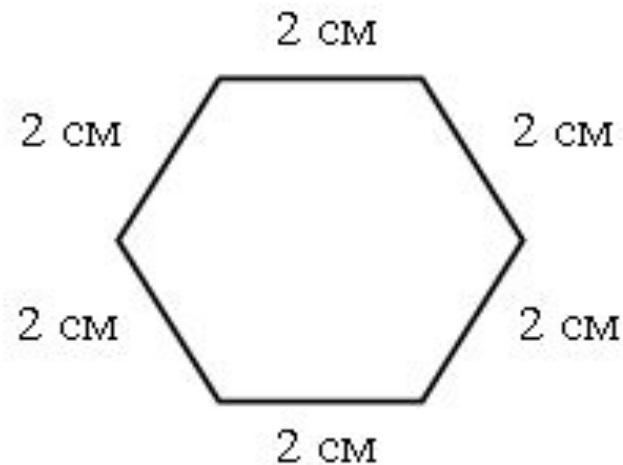
ПРОВЕРИМ!

$$11 \text{ см} + 5 \text{ см} + 6 \text{ см} + 5 \text{ см} = 27 \text{ см}$$

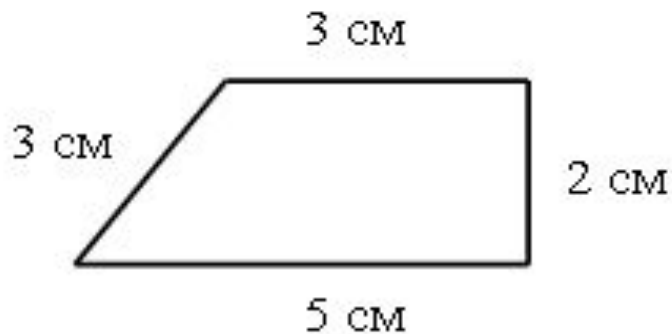
**ВЫПОЛНИТЕ НЕОБХОДИМЫЕ
ИЗМЕРЕНИЯ И ВЫЧИСЛИТЕ
ПЕРИМЕТР МНОГОУГОЛЬНИКОВ.**



$$4 + 5 + 3 = 12 \text{ (см).}$$



$$2 + 2 + 2 + 2 + 2 + 2 = 12 \text{ (см).}$$



$$3 + 3 + 2 + 5 = 13 \text{ (см).}$$