

Урок №5

*Вычислительные умения и навыки.  
Действия  
с величинами. Поиск закономерностей.*

Автор презентации  
Коровина Ирина Николаевна  
учитель начальных классов  
МБОУ «СОШ №9»  
г.Сафоново Смоленской области

Найдите разность чисел, полученный результат запишите в виде суммы разрядных слагаемых

1) 85 и 30

$$85 - 30 = 55$$

$$55 = 50 + 5$$

2) 96 и 60

$$96 - 60 = 36$$

$$36 = 30 + 6$$

3) 78 и 2


$$78 - 2 = 76$$

$$76 = 70 + 6$$

4) 59 и 7

$$59 - 7 = 52$$

$$52 = 50 + 2$$




# Выполните действия с величинами.

Проверьте полученный результат по линейке.

$$\begin{array}{r} 4 \text{ см } 5 \text{ мм} - 5 \text{ мм} = 4 \text{ см} \\ \underline{\hspace{1.5cm}} \quad \underline{\hspace{1.5cm}} \end{array}$$

$$\begin{array}{r} 3 \text{ см } 8 \text{ мм} + 2 \text{ мм} = 4 \text{ см} \\ \underline{\hspace{1.5cm}} \quad \underline{\hspace{1.5cm}} \end{array}$$



$$\begin{array}{r} 7 \text{ см } 7 \text{ мм} - 4 \text{ мм} = 7 \text{ см } 3 \text{ мм} \\ \underline{\hspace{1.5cm}} \quad \underline{\hspace{1.5cm}} \end{array}$$

$$\begin{array}{r} 6 \text{ см } 2 \text{ мм} + 8 \text{ мм} = 7 \text{ см} \\ \underline{\hspace{1.5cm}} \quad \underline{\hspace{1.5cm}} \end{array}$$



# Логическая задача

Яблоко тяжелее персика, а слива легче персика. Какой фрукт самый тяжёлый?

- *Обозначь массу каждого фрукта отрезком, нарисуй схему и проверь свой ответ.*

Ябл ● \_\_\_\_\_

• П. ● \_\_\_\_\_

Сл ● \_\_\_\_\_

•



Найди закономерность и продолжи ряд чисел.


1) 40, 50, 30, 40, 20, 30, 10, 20, 0

2) 4, 5, 3, 4, 2, 3, 1, 2, 0

3) 21, 24, 22, 25, 23 26, 24, 27, 25...

4) 41, 45, 42, 46, 43 47, 44, 48, 45....

5) 12, 22, 24, 34, 36, 46, 48, 58, 60...



Впиши пропущенные цифры в «окошки» так, чтобы получились верные равенства

$$1) \quad 7 \boxed{4} - 4 = 70$$

$$6 \boxed{9} - 5 = 64$$

$$5 \boxed{5} + 3 = 58$$

$$4 \boxed{2} + 6 = 48$$

$$8 \boxed{7} - 5 = 82$$

$$9 \boxed{4} + 3 = 97$$

$$2) \quad \boxed{7} 8 - 40 = 38$$

$$\boxed{6} 3 + 20 = 83$$

$$\boxed{9} 7 - 50 = 47$$

$$\boxed{2} 2 + 70 = 92$$

$$\boxed{4} 2 + 30 = 72$$

$$\boxed{5} 4 + 40 = 94$$



# Найди правило и впиши пропущенные числа

1)

$79 - 1$	$72 + 6$
$18 + 60$	$58 + 20$

78

2)

$91 + 2$	$60 + 33$
$23 + 70$	$43 + 50$

93

3)

$70 + 9$	$80 - 1$
$72 + 7$	$74 + 5$

79

4)

$40 + 2$	$46 - 4$
$49 - 7$	$48 - 6$

42



## Использованы ресурсы:

- Фон [http://kartinki-na-rabochiy-stol.ru/1285618905\\_1220983320\\_autumn\\_vine\\_maple\\_and\\_lichensid\\_3\\_img12159.html](http://kartinki-na-rabochiy-stol.ru/1285618905_1220983320_autumn_vine_maple_and_lichensid_3_img12159.html)
- Листья [http://citatyi.ru/8280994\\_img35309.html](http://citatyi.ru/8280994_img35309.html)
- Смайлик <http://www.my-bt.ru/talk/comments4861p149.html>
- Линейка <http://grodno.deal.by/Linejki-plastikovye.html>
- Н.Б.Истомина Математика 2 класс /ч.1/Смоленск: Ассоциация XXI век, 2012г.
- Н.Б.Истомина, З.Б.Редько Тетрадь по математике 2 класс /ч.1/Смоленск: Ассоциация XXI век, 2013г.
- Автор шаблона – Коровина И.Н.

