

# Отношения «равно» и «не равно»








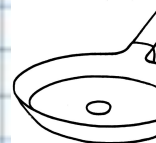




$$2+2=4$$

$$3+3=6$$




# Игра «Наведи порядок»



сколько?



столько же

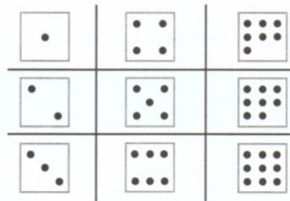


пары

столько же

поровну


1 Назовите число точек на каждой карточке.




2 Найдите закономерность. Расскажите, сколько точек должно стоять на каждой пустой карточке.



3 Что общего у предметов на каждом рисунке Кати? Подберите к каждому рисунку числовую карточку.



4 Сравните число девочек и мальчиков на рисунке. Как это сделать, не пересчитывая ребят?



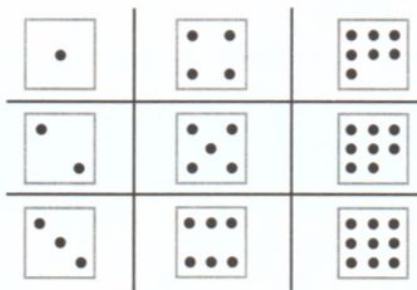
СКОЛЬКО?



СТОЛЬКО ЖЕ




1 Назовите число точек на каждой карточке.




2 ● Найдите закономерность. Расскажите, сколько точек должно стоять на каждой пустой карточке.




3 ● Что общего у предметов на каждом рисунке Кати? Подберите к каждому рисунку числовую карточку.



**4** ● Сравните число девочек и мальчиков на рисунке. Как это сделать, не пересчитывая ребят?



равно  
не равно

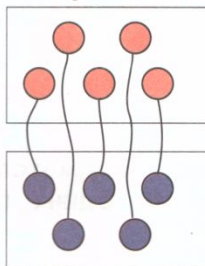


5 • Сравните число воробьёв и галок на рисунке Пети, не пересчитывая птиц.

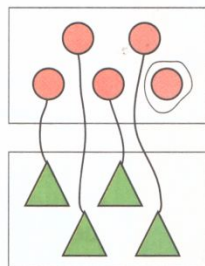


?! Как сравнить количество предметов в разных группах, не пересчитывая их?

Количество предметов в разных группах можно сравнивать так:



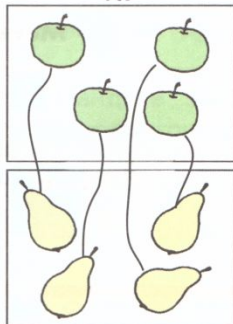
Равно




Не равно

6 Сравните количество предметов на рисунках Кати, Пети и Вовы.

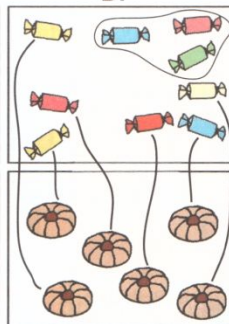
К.



П.



В.




• Расскажите, на каких рисунках количество предметов равно, на каких рисунках количество предметов не равно.

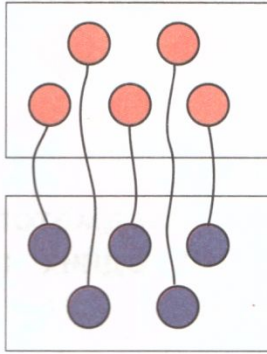
**5** ● Сравните число воробьёв и галок на рисунке Пети, не пересчитывая птиц.



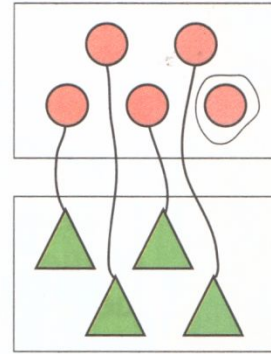
**?!** Как сравнить количество предметов в разных группах, не пересчитывая их?



Количество предметов в разных группах можно сравнивать так:




Равно




Не равно

6 Сравните количество предметов на рисунках Кати, Пети и Вовы.


К.



П.



В.

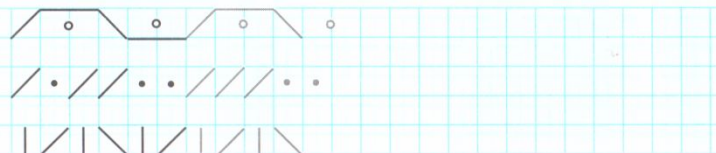


● Расскажите, на каких рисунках количество предметов равно, на каких рисунках количество предметов не равно.



2

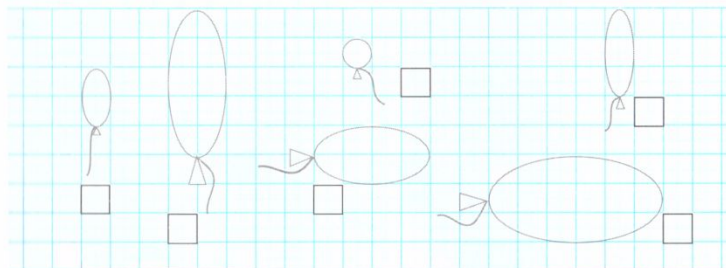
Обведите и дорисуйте.



Измените рисунок так, чтобы грибов было столько же, сколько ягод клубники.



Шарики надо расположить от наименьшего к наибольшему. Покажите точками, какой шар и этот будет первым, вторым, третьим и т. по порядку.



Обведите рисунки и сделайте штриховку.