



2013/10/27

Зарядка для ума

• **Покажите:**

• **8...;**

• **...6;**

• **...10...**

Посчитайте:


от 10 до 20;

от 20 до 10;

от 14 до 19.

10	5	2	14
1	13	5	7
12	7	3	6
4	11	8	16

Что длиннее ?



5 см.



7 см.




11 см.



9 см.

5



Скільки трикутників на рисунку?


Задача – шутка.

У бабушки Даши внучка Маша, кот Пушок и собака Дружок.
Сколько всего внуков у бабушки?



Ответ : одна внучка.

Пять пирожков лежало в миске.
Два пирожка взяла Лариска,
Еще один стащила киска.
Сколько пирожков осталось в миске?




$$5 - 2 - 1 = 2$$

1



2



3



ТЕМА УРОКА: СОСТАВЛЯЕМ ЗАДАЧИ



Утром мы во двор идём —
Листья сыплются дождём,
Под ногами шелестят
И летят, летят, летят...





Весёлая физминутка

а













№ 6, стр. 24


№4, стр. 24




Оцени свою работу!



- было интересно.



- были трудности.



- было не интересно.

МОЛОДЦЫ!!!!

