
КАК НАЗЫВАЮТСЯ ГРАНИЦЫ КРУГА?



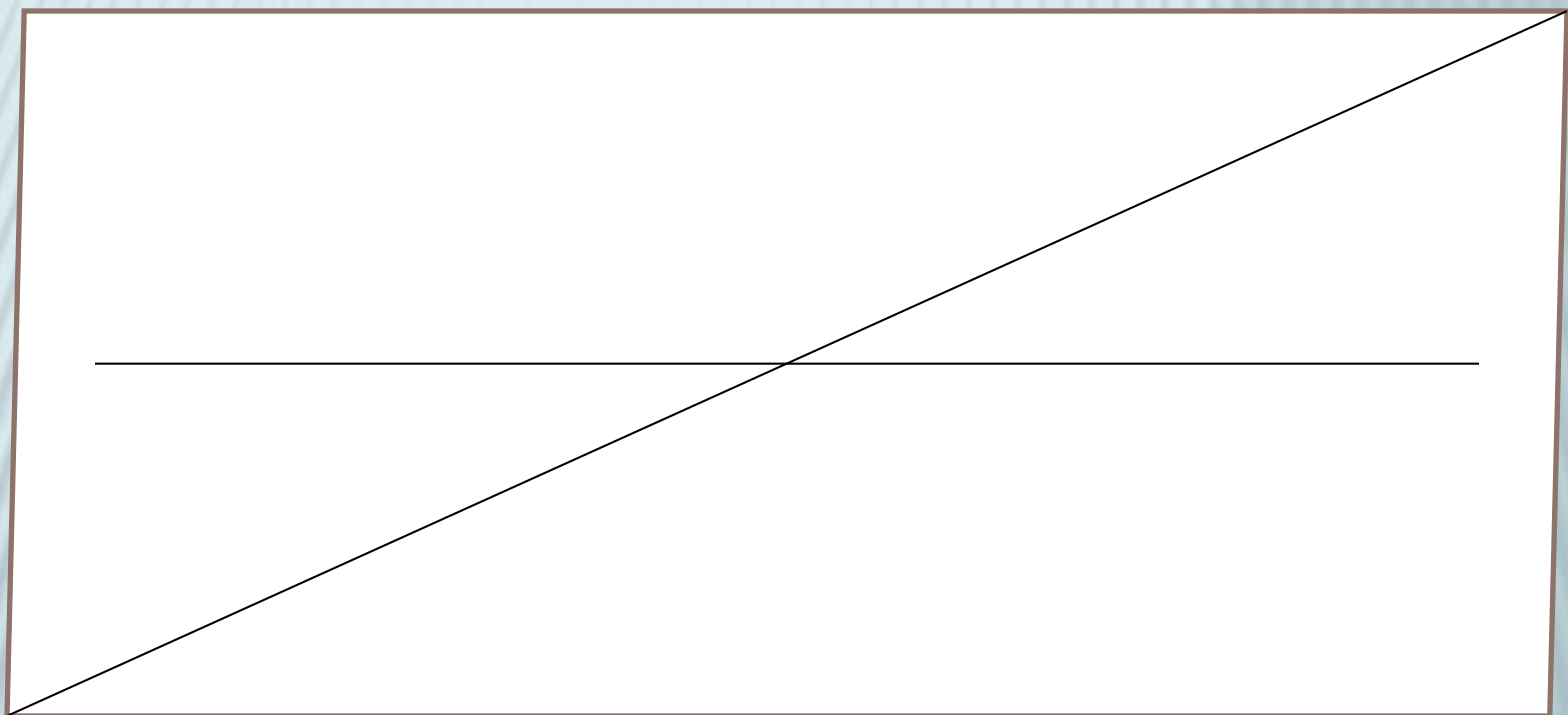
По видам углов треугольники
различаются так: ...?



Найдите площадь и периметр
квадрата со стороной 5 см?



КАКИХ ФИГУР БОЛЬШЕ И НА
СКОЛЬКО?



ЗАПИШИТЕ ЧИСЛО: 4 ДЕСЯТКА
МИЛЛИОНОВ 5 СОТЕН ТЫСЯЧ 6.




ДОПИШИ НАЗВАНИЕ РАЗРЯДОВ:

10 ЕД.=1...

10 ДЕС.=1...

10 СОТ.=1...

10 ТЫС.=1...



**ЗАПИШИ И НАЗОВИ САМОЕ
МАЛЕНЬКОЕ И САМОЕ БОЛЬШОЕ
ШЕСТИЗНАЧНОЕ ЧИСЛО?**



Задумали число, прибавили к нему 17, полученную сумму увеличили в 5 раз и получили 95.
Какое число задумали?



КАКОЙ КОМПОНЕНТ НЕИЗВЕСТЕН?

КАКИМ ДЕЙСТВИЕМ НАХОДИМ?

$$X:9=193+95$$



ЧИСЛОВОЕ ВЫРАЖЕНИЕ
СОДЕРЖИТ ТОЛЬКО + И - ИЛИ
ТОЛЬКО * И :. КАКОВ ПОРЯДОК
ВЫПОЛНЕНИЯ ДЕЙСТВИЙ?




ЗАПИШИТЕ БУКВЕННЫМ
ВЫРАЖЕНИЕМ.


«ЕСЛИ ОДНО ИЗ ДВУХ СЛАГАЕМЫХ
РАВНО НУЛЮ, ТО СУММА РАВНА
ДРУГОМУ СЛАГАЕМОМУ».




Оля нарвала 10 васильков и 20 ромашек. Она собрала букет из 15 цветков. Какие цветы могут не войти в букет, а какие войдут обязательно и каково их наименьшее число?




Отца мужчины зовут Дмитрий
Алексеевич, а его сына – Иван
Владимирович. Как зовут
мужчину?

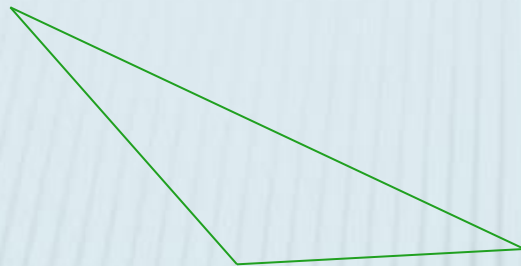


Ручка и карандаш стоят 26
рублей. Ручка дороже
карандаша на 20 рублей.
Сколько стоит карандаш?



СТО ОРЕХОВ РАЗЛОЖИЛИ НА 5 КУЧЕК. В ПЕРВОЙ И ВТОРОЙ ВМЕСТЕ 52 ОРЕХА, ВО ВТОРОЙ И ТРЕТЬЕЙ – 43, В ТРЕТЬЕЙ И ЧЕТВЕРТОЙ – 34, В ЧЕТВЕРТОЙ И ПЯТОЙ – 30. СКОЛЬКО ОРЕХОВ В КАЖДОЙ КУЧКЕ?





прямоугольный

тупоугольный

остроугольный



Площадь

$$5 * 5 = 25 \text{ (см.кв.)}$$

Периметр

$$5 * 4 = 20 \text{ см}$$



40 500 006



10 ед. = 1 дес.

10 дес. = 1 сот.

10 сот. = 1 тыс.

10 тыс. = 1 дес. тыс.



Самое большое 999 999
Самое маленькое 100 000



1-й способ

$$95:5-17 = 2$$

2-й способ

$$(x + 17) * 5 = 95$$

$$5x + 85 = 95$$

$$5x = 95 - 85$$

$$5x = 10$$

$$x = 10 : 5$$

$$x = 2$$


$$A + 0 = A$$



$$(26 - 20) : 2 = 3 \text{ РУБ.}$$

