



В цирке

Урок–игра по математике
Зотова Марина Анатольевна, учитель
начальных классов
МБОУ «Киреевский лицей» г. Киреевска
ИУ 14-23 ИПК и ППРО

Аннотация

Урок-игра «В цирке» по теме «Табличное сложение и вычитание в пределах 20 с переходом через 10».

Работа выполнена учителем начальных классов МБОУ «Киреевский лицей» г.Киреевска Тульской области Зотовой Мариной Анатольевной.

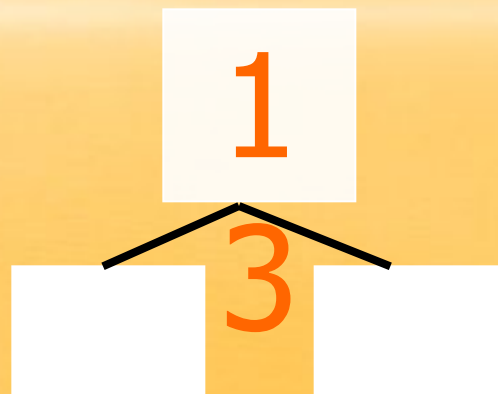
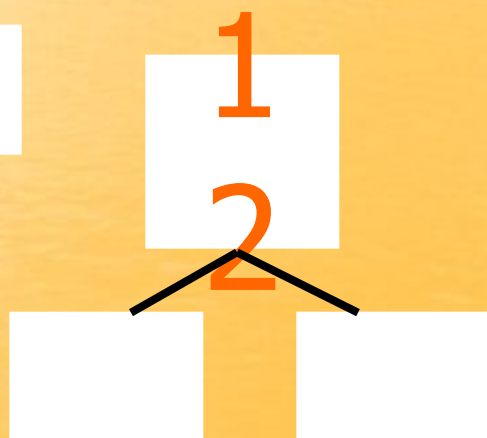
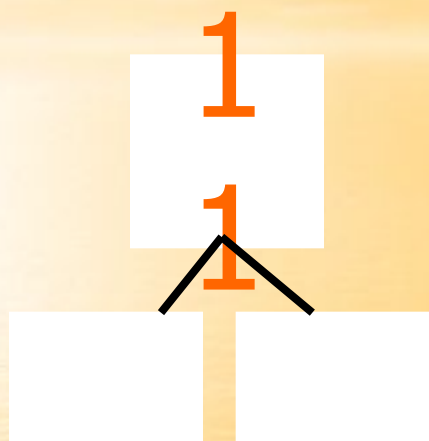
Работа может быть использована как демонстрационный материал к уроку математики в 1 классе.

Для создания презентации использована программа Power Point.

Данная работа может быть использована на уроке математики в любой общеобразовательной школе.

Объём работы: 12 слайдов.

Найди своё место!



Встречаем Зебру!

$12 - 5$

$8 + 3$

$6 + 7$

$13 - 9$

$14 - 8$

$9 + 5$

На арене клоун!

**В лодке ехал дед Евсей
И поймал он карасей:
7 больших и средних 9.
Сколько же поймал
Евсей
На рыбалке карасей?**

16



Встречаем Мишку!



$$\begin{array}{r} 13- \\ 7 \end{array}$$

$$\begin{array}{r} 13- \\ 9 \end{array}$$

$$\begin{array}{r} 13- \\ 8 \end{array}$$

$$\begin{array}{r} 14- \\ 5 \end{array}$$

$$14-7$$

$$8+6$$

$$\begin{array}{r} 8+ \\ 5 \end{array}$$

14, 6, 13, 9, 7, 4, 5

На арене клоун!



У клоуна есть...
 паровоз,
Шесть автомобилей,
Чёрный пёс –
 блестящий нос,
Белый кот Василий,
Восемь куколок в
 одной
Кукле деревянной
И Петрушка заводной,
Рыжий и румяный.
Кто внимательно
 послушал,
Сколько было всех
 игрушек?

АНТРАКТ

Встречаем Слонёнка!



$$12 - ? = 8$$

$$15 - ? = 9$$

$$9 + ? = 12$$

$$? - 6 = 9$$

$$? - 5 = 7$$

$$7 + ? = 13$$

На арене клоун!

*Масса его
дрессированной
собачки,
когда она стоит на
двух задних
лапах, 3 кг.
Какова её масса,
если она стоит на
четырёх лапах?*



Встречаем Тюленя-жонглёра!



$$17 - 8 = 9$$

$$16 - 8 = 8$$

$$13 - 7 = 6$$

$$18 - 9 = 9$$

$$15 - 6 = 9$$

$$14 - 5 = 9$$

Итог урока