



КРАСНАЯ ШАПОЧКА

ДЕНЬ И НОЧЬ

$$9 + 4 - 7 + 5 - 3 + 8$$

1
6



15

1

17

6

1 = 8 +

6 8 9 + 7

1 = 10 + 6

6

16 = 1 дес. 6

ед.



Какие числа пропущены?


$$9 + 7 = 16$$

$$8 + 8 = 16$$

$$16 - 6 = 10$$

$$16 - 10 = 6$$

Молодцы!


A close-up photograph of a ladybug on a plant stem. The ladybug is red with black spots and a black head with a white spot. It is positioned in the center of the frame, facing right. The background is a blurred green and purple, suggesting a natural outdoor setting. Overlaid on the image are several mathematical equations in white and red text.
$$16 - 9 = 7$$

$$16 - 8 = 8$$

$$16 - 7 = 9$$

Спасибо!

Решить задачу



Ёжик сорвал на обед 5
лисичек,
а рыжиков на 4 больше.

Сколько рыжиков сорвал ёжик на
обед?

$$5+4=9$$

рыжиков.

Сколько всего грибов сорвал
ёжик
на обед?


$$9+5=14$$

грибов.

**Как узнать, на сколько
один отрезок длиннее другого?**







Спасибо за урок!