




Физкультминутка



Отгадайте загадку:

*Он давно знакомый мой.
Каждый угол в нём прямой.
Все четыре стороны
Одинаковой длины.
Вам его представить рад,
А зовут его...*



a



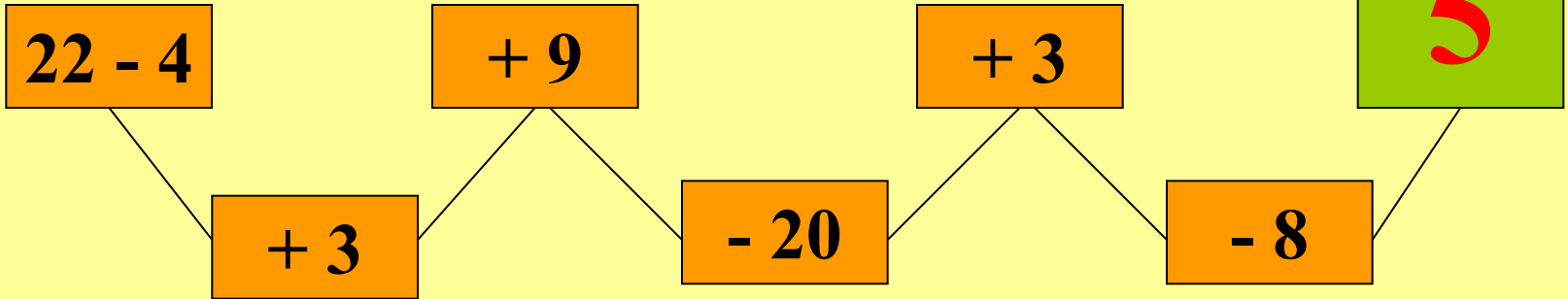
$$P = a + a + a + a$$

$$a = 8 \text{ } \partial\mathcal{M}$$

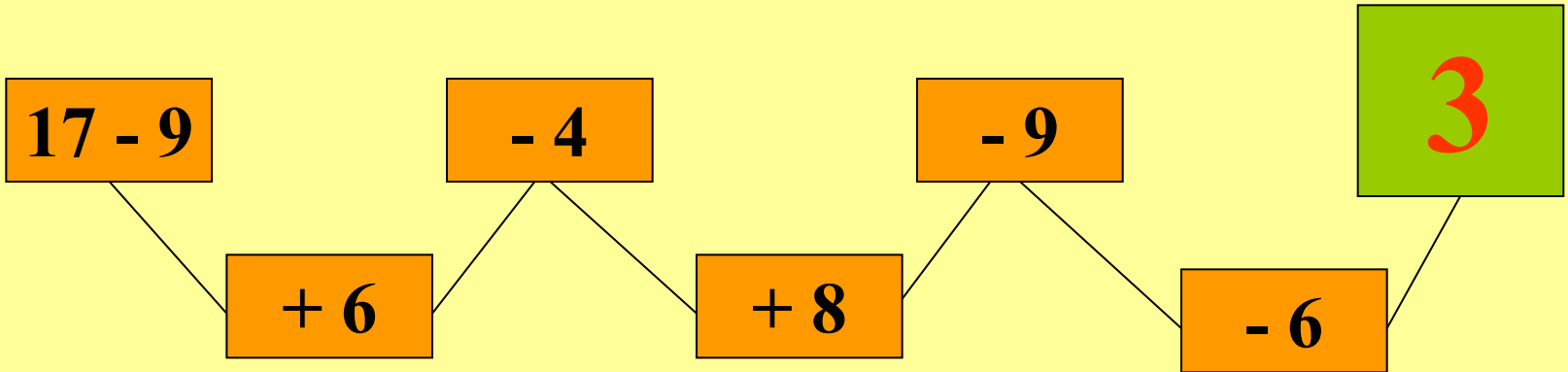
$$P = 8 + 8 + 8 + 8 = 32(\partial\mathcal{M})$$

$$22 - 4$$

1 var.



2 var.



Прямоугольник и квадрат:

- *геометрические фигуры*
- *многоугольники*
- *имеют по четыре стороны*
- *имеют по 4 угла*
- *все углы прямые*

Вывод: прямоугольник – тоже квадрат.