

*ПОВТОРИТЕЛЬНО - ОБОБЩАЮЩИЙ
УРОК ПО ТЕМЕ:*

**«Решение
задач»**

**А
Д**

5


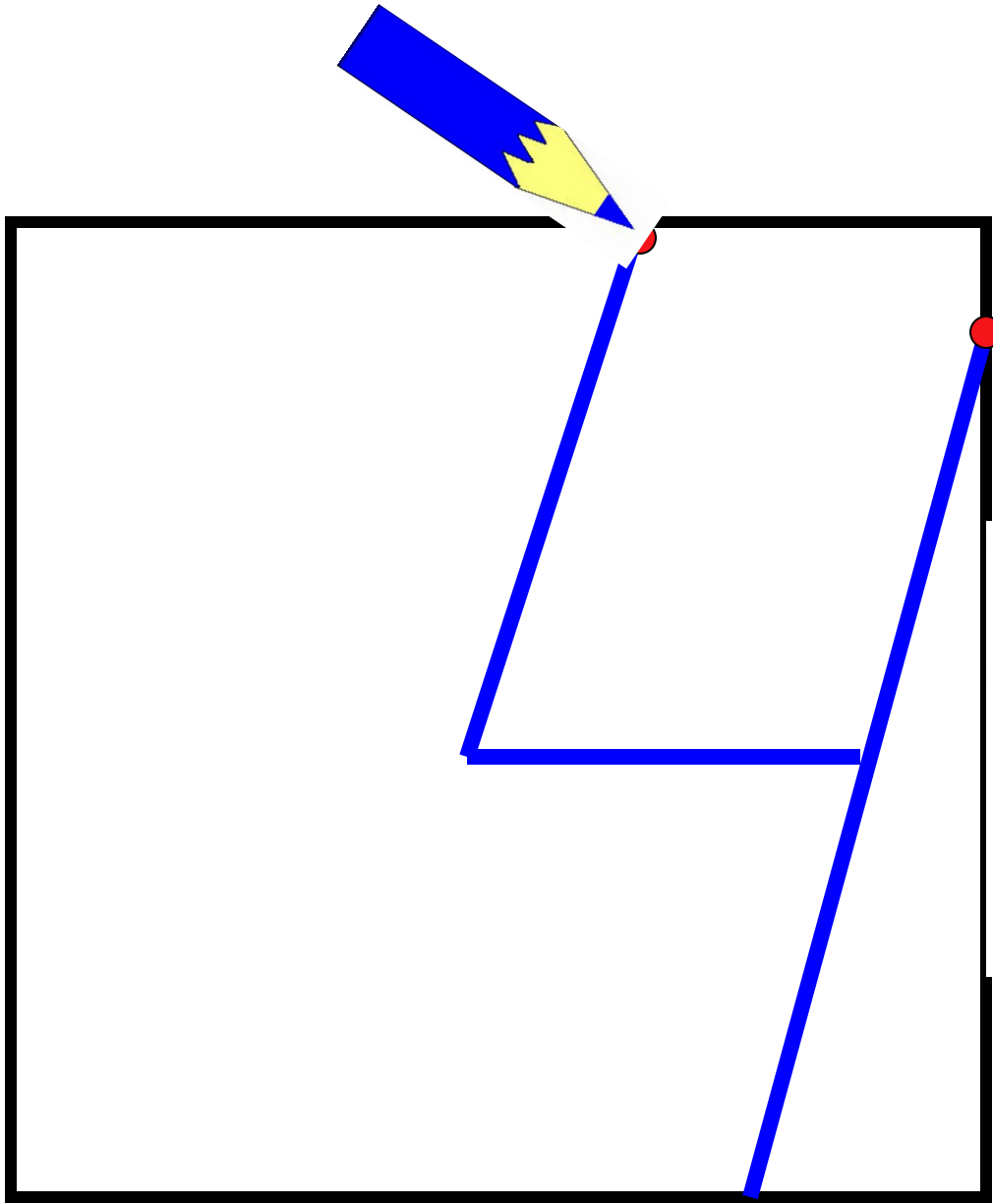


$a + L$ $2 \times 2 = 4$

Какое число лишнее?

95, 11, 59, 42, 83, 4, 21





Математический диктант

1). 36

2). 100

3). 60

4). 40

5). 14

6). 46



$$40 + 3 = 43$$

$$18 - 9 = 9$$

$$60 + 1 = 61$$

$$56 + 1 = 57$$

$$15 - 7 - 2 = 6$$

$$13 - 6 + 4 = 11$$



$$11 - 6 = 10 - 3 - 2$$

$$15 - 8 = 4 + 1 + 2$$

$$12 - 3 = 3 + 1 + 5$$

$$14 - 8 = 9 - 2 + 1$$


$$16 - 7 = 1 + 3 + 5$$

$$12 - 4 = 10 - 1 - 1$$



Из каких геометрических фигур состоят
маски?

Какая из масок лишняя?



5 cm

5 cm

7 cm



Спасибо всем

за урок!