

**Математика · 2 класс · УМК  
«Гармония»**

**Урок №14 (59)  
Острые и тупые углы.  
Угольник**

**Автор презентации  
Виноградова Наталия  
Владимировна  
учитель начальных классов  
МАОУ « ШКОЛА №149» г. Н.  
НОВГОРОДА**

# Рекомендации

- Слайды №3 - №7 Устный счёт

Повторение и закрепление умения решать задачи, выбирать схему в соответствии с условием;

Отработка вычислительных навыков;

Совершенствование умения читать выражение с использованием необходимой терминологии.


- Слайды №8 - №9 знакомство с острым и тупым углом, которое продолжится на уроке в практических упражнениях.

# Выбери схему и реши задачу

Сколько яблок в двух вазах, если в первой 17 яблок, а во второй – 20?


№1

20ябл.



№2

?



$$17 + 20 = 37(\text{ябл.})$$


Ответ: 37 яблок в двух вазах.

# Выбери схему и реши задачу

В гараже 15 машин. Из них 9 грузовых, остальные – легковые. Сколько в гараже легковых машин?

№1

15 м.



№2

?



$$15 - 9 = 6(\text{м.})$$


Ответ: 6 легковых машин в гараже.

# Выбери схему и реши задачу

Когда из пачки взяли 32 листа бумаги, в ней осталось 7 листов. Сколько листов бумаги было в пачке первоначально?

№1

32 л.



№2


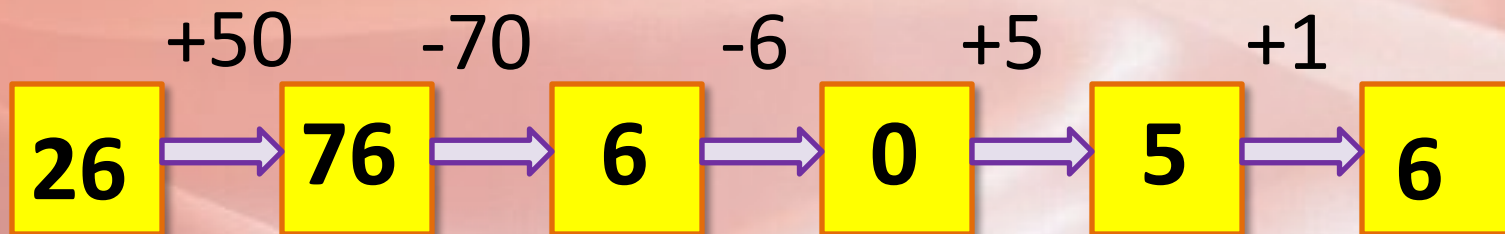
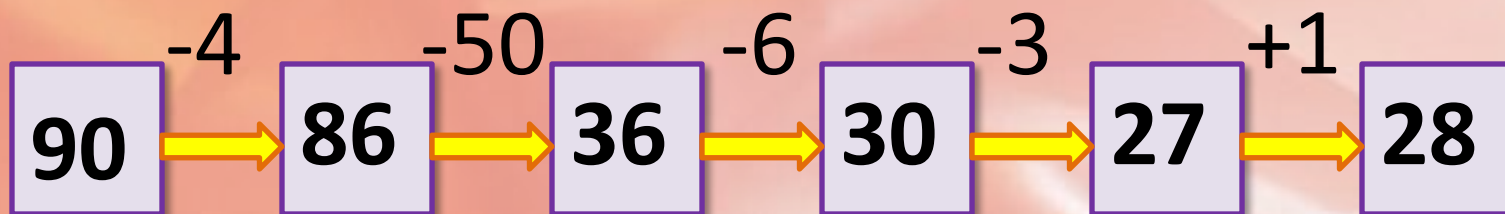
?



$$32 + 7 = 39(\text{л.})$$

Ответ: 39 листов бумаги было в пачке.

## Выполни действия



# Прочитай выражения и найди их значения

$$17 - (7 + 4) = 6$$

$$(12 + 8) + 5 = 25$$

$$9 + (11 - 6) = 14$$

$$(13 - 4) + 7 = 16$$

$$13 - (16 - 7) = 4$$

$$(8 + 4) - 6 = 6$$

$$10 + (11 - 7) = 14$$

$$8 + (3 + 9) = 20$$

$$7 + (11 - 6) = 12$$

$$(12 - 6) + 9 = 15$$

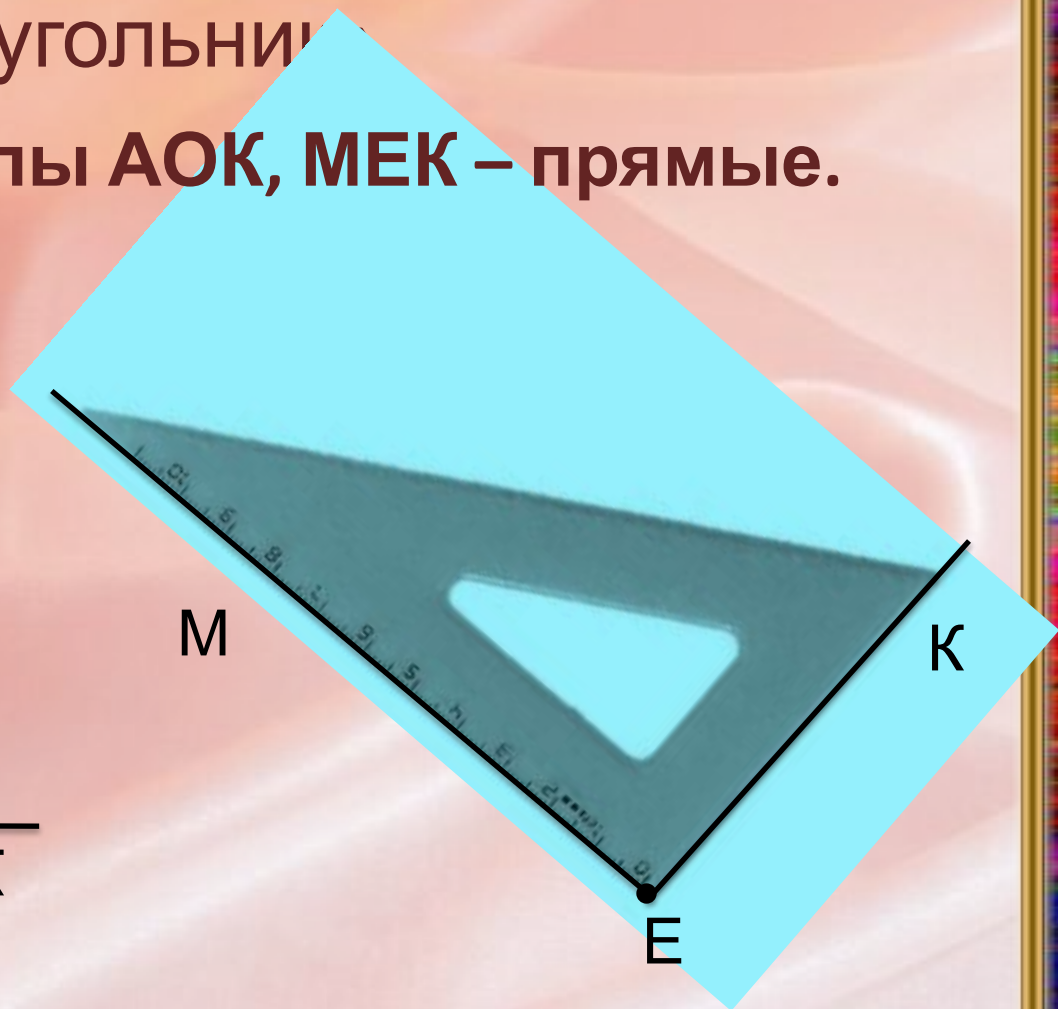

$$14 - (11 - 2) = 5$$

$$(16 + 4) + 18 = 38$$

Прямой угол можно начертить с помощью инструмента, который называется

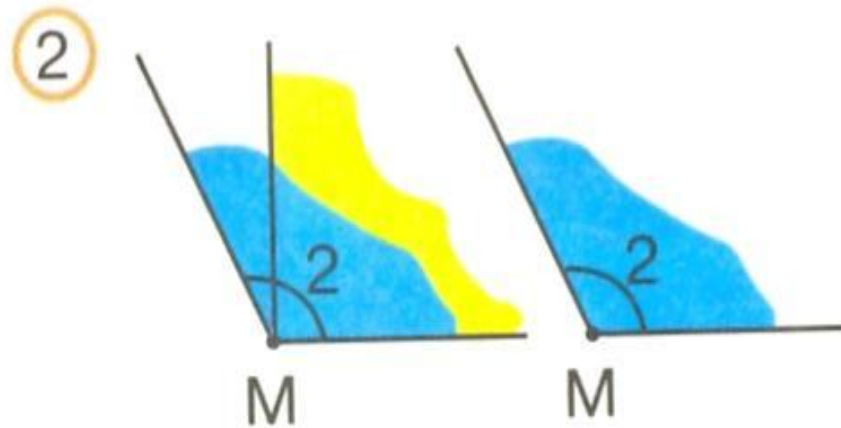
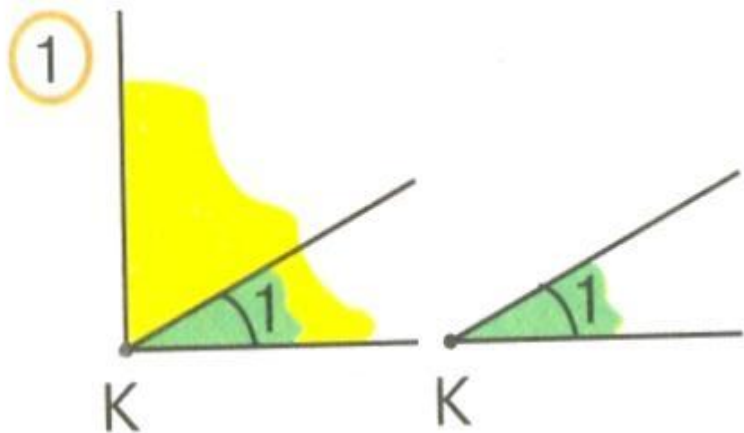
угольник

Углы  $\text{AOK}$ ,  $\text{MEK}$  – прямые.





Рассмотри рисунки. Каким цветом  
закрашены прямые углы?



Углы, закрашенные **зелёным** цветом, -  
**острые**, **синим** цветом – **тупые**.

# Ресурсы:

## Для создания шаблона:

Рамка <http://www.photoshop-master.ru/>

Стили для программы Adobe Photoshop:

<http://www.photoshop-master.ru/adds.php?rub=15>

Автор - Ранько Елена Алексеевна

## Задания для презентации:

- Н.Б.Истомина Математика 2 класс /ч.1/ Смоленск: Ассоциация XXI век, 2012г.
- Н.Б.Истомина, З.Б.Редько Тетрадь по математике 2 класс/ч.1/ Смоленск: Ассоциация XXI век, 2013г.
- Н.Б.Истомина, О.П.Горина Математика /тестовые задания/ 2 класс. Смоленск: Ассоциация XXI век, 2014г.
- Угольник <http://3259404.ru/?action=detailvariant&variantId=i13720>