

Математика

2 класс

Тема "Прямоугольник.
Квадрат".



Вычисли:

$28 - 6$

$9 \cdot 7$

$79 - 40$

$30 + 4$

$98 - 64$

$83 + 10$


$16 : 2$

$46 + 4$


$58 - 6$






Страна Геометрия



Геометрия зародилась в глубокой древности. Строя жилища и храмы, украшая их орнаментами, человек применял свои знания о форме, размерах и взаимном расположении предметов. Из геометрии вышла наука, которая стала называться математикой.



Город Многоугольников



Прямоугольник

четырёхугольник;

все углы прямые;

противоположные стороны равны;

большая сторона – длина

меньшая сторона - ширина

длина



ширина

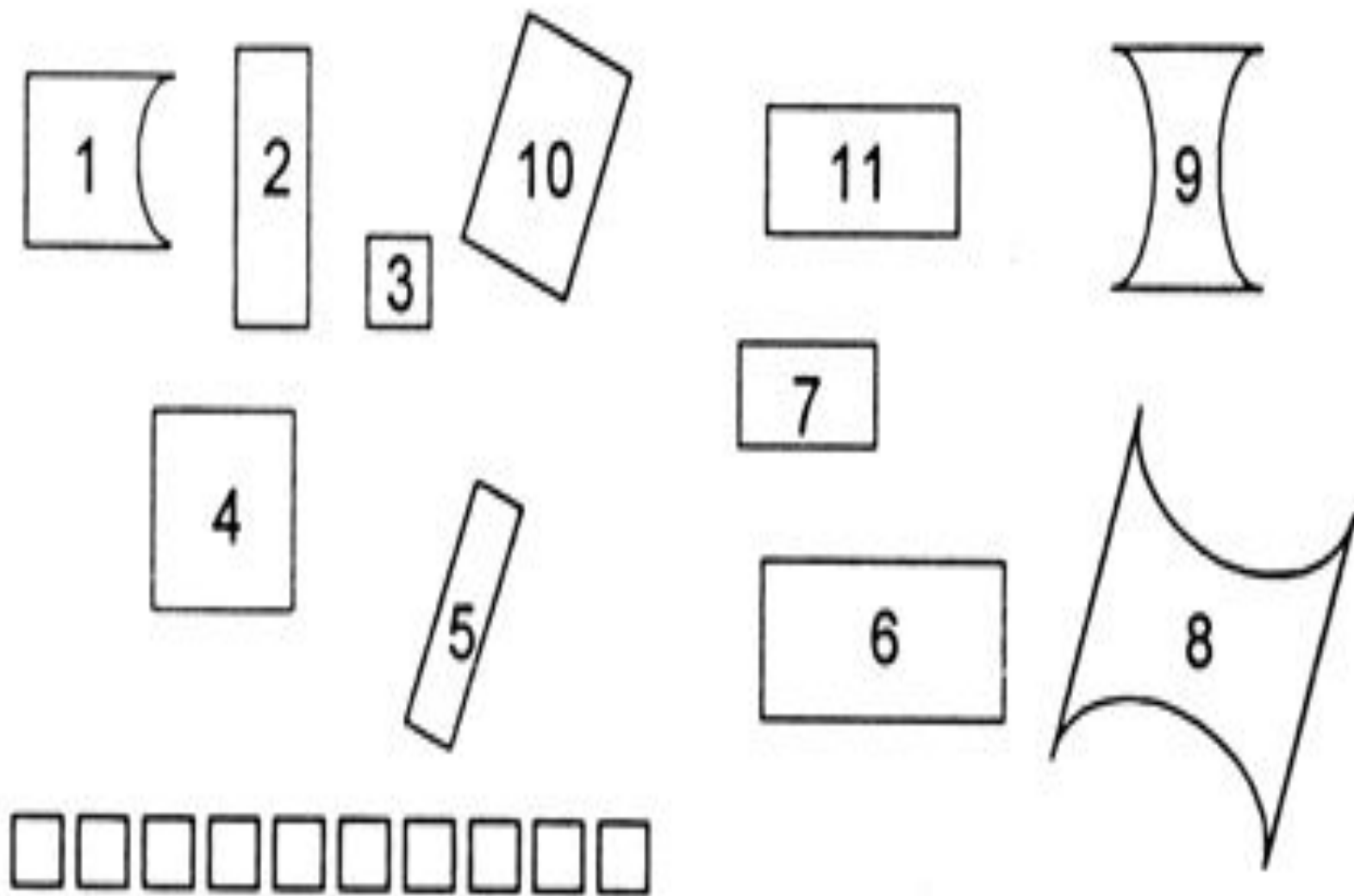
Квадрат

**прямоугольник;
все стороны равны**

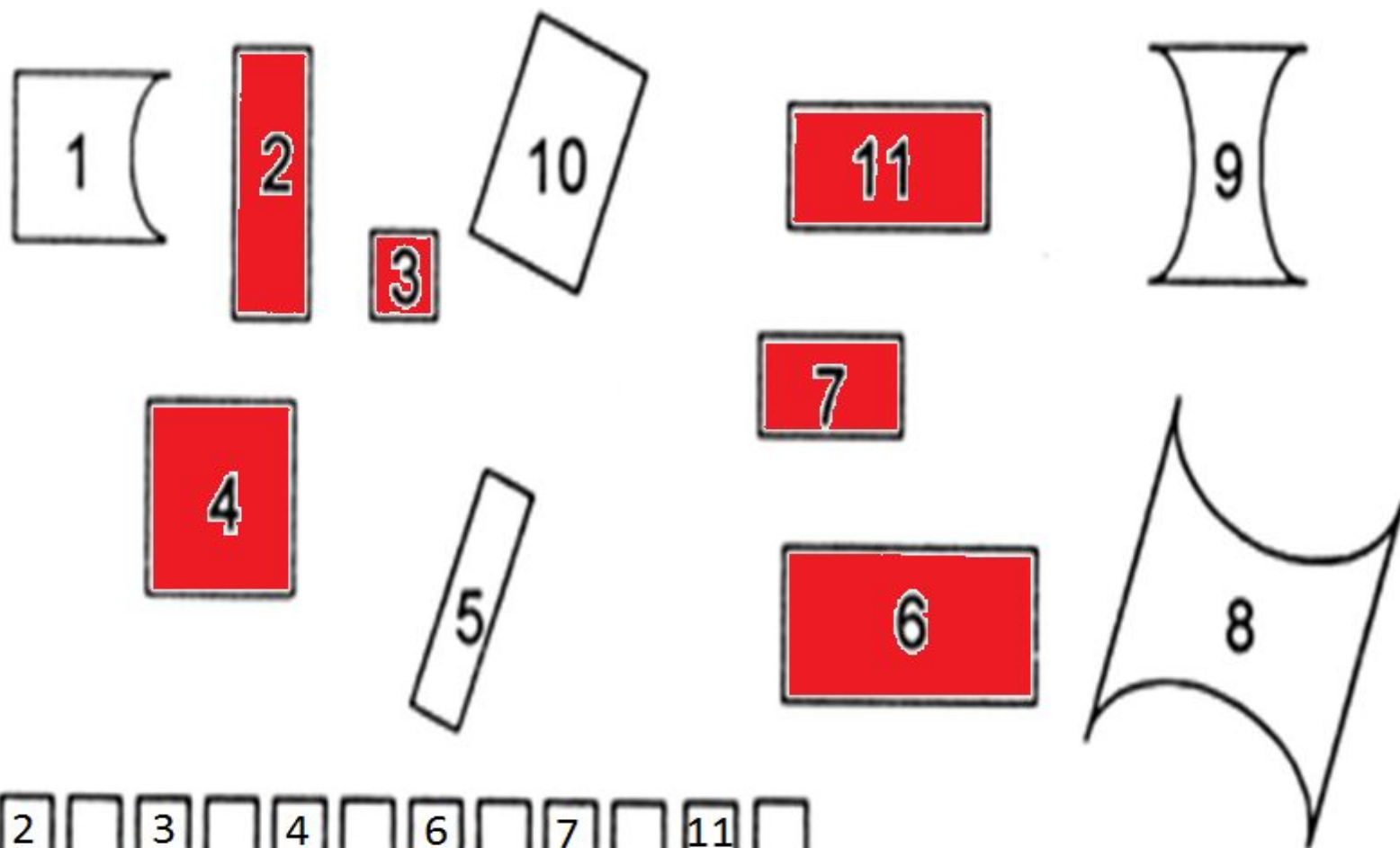


Физминутка


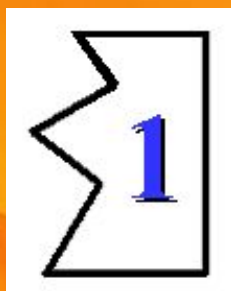
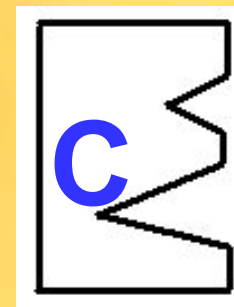

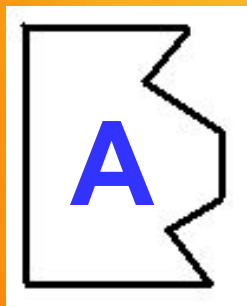
Работа в парах




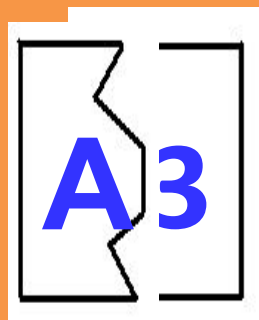
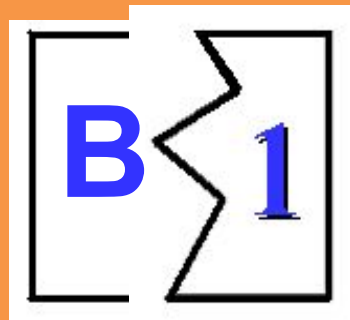
Проверь!



Работа в группах.



Проверь!



Тест

- 1. Выбери правильный ответ.**
А) У квадрата все стороны равны.
Б) У прямоугольника все стороны равны.
- 2. Длина прямоугольника - это....**
А) сторона, которая длиннее.
Б) сторона, которая короче.
- 3. Что такое ширина прямоугольника?**
А) Сторона, которая длиннее.
Б) Сторона, которая короче.
- 4. Какие утверждения правильны?**
А) Любой квадрат - это прямоугольник.
Б) Любой прямоугольник - это квадрат.
В) Любой четырёхугольник - это прямоугольник.

Проверь!

1. **Выбери правильный ответ.**
А) У квадрата все стороны равны.
Б) У прямоугольника все стороны равны.
2. **Длина прямоугольника - это....**
А) сторона, которая длиннее.
Б) сторона, которая короче.
3. **Что такое ширина прямоугольника?**
А) Сторона, которая длиннее.
Б) Сторона, которая короче.
4. **Какие утверждения правильны?**
А) Любой квадрат - это прямоугольник.
Б) Любой прямоугольник - это квадрат.
В) Любой четырёхугольник - это прямоугольник.

**Я понял,
что ...**

**Было
интересно ...**

Было трудно ...

У меня получилось ...

Домашнее задание:
Рабочая тетрадь, с. 56 № 1,4

