

Умеешь ли ты решать задачи?



Глебова Г.А.
Учитель начальных классов
МОУ «Лицей г.Козьмодемьянска»

Необходимые умения

5

5. Четко сформулировать пояснения и ответ

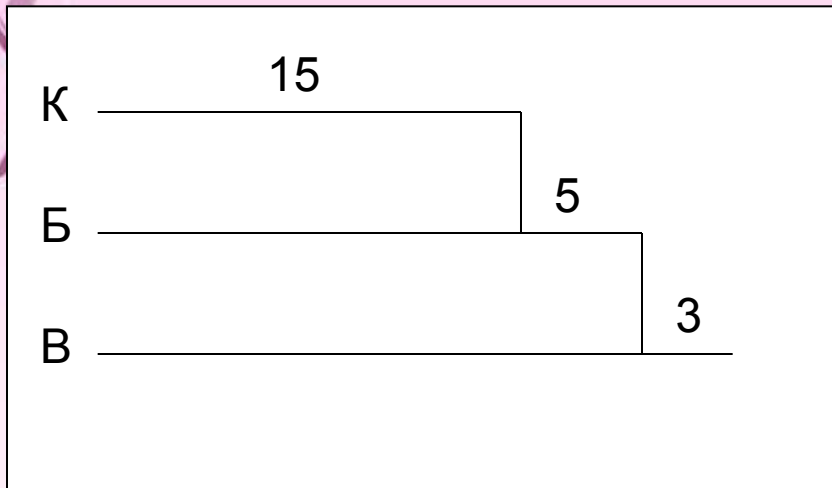
4. Правильно произвести вычисления

3. Записать выражения соответствующие схеме

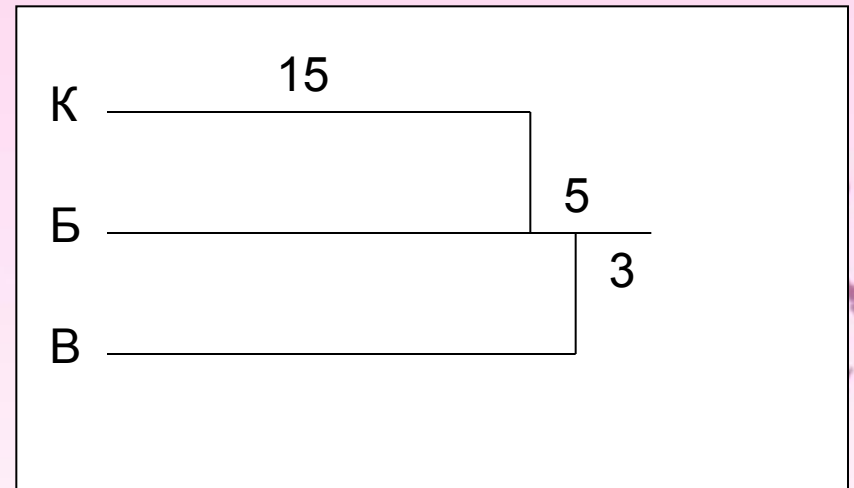
2. Выполнить рисунок или начертить схему

1. Прочитать внимательно текст задачи

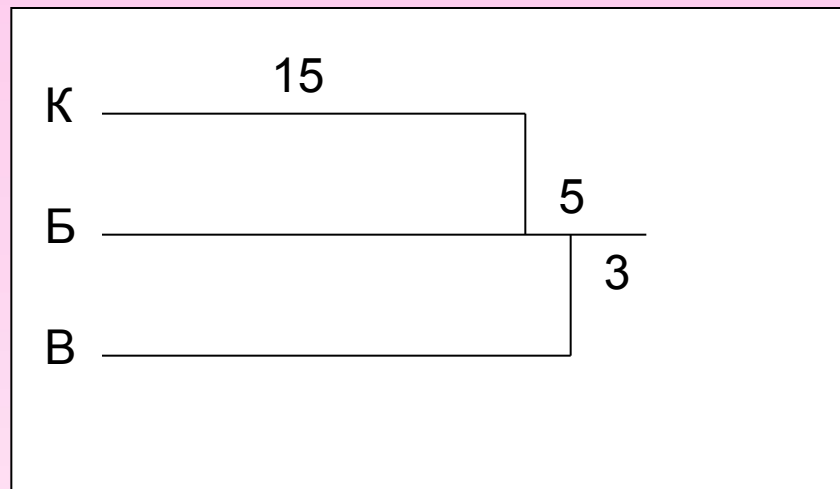
У Кости в коллекции 15 машинок,
у Бори на 5 машинок больше чем у Кости.
А у Вовы на 3 машинки меньше Чем у Бори.



Выбор

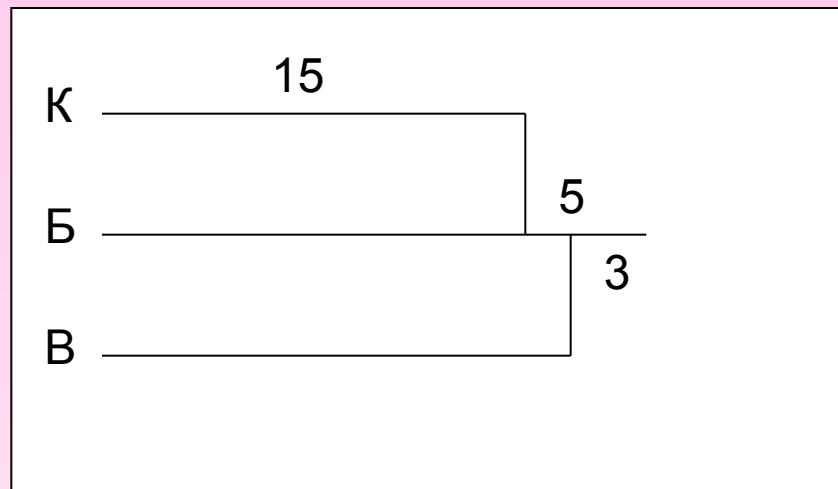


Выбор



Сколько машинок у Бори?

$$15+5=20 \text{ (м)}$$



На сколько машинок больше у Вовы чем у Кости?

1 Способ:

$15+5=20(\text{м})$ – у Бори

$20-3=17(\text{м})$ – у Вовы

$17-15=2(\text{м})$ – больше

2 Способ:

$5-3=2(\text{м})$ – больше

физминутка













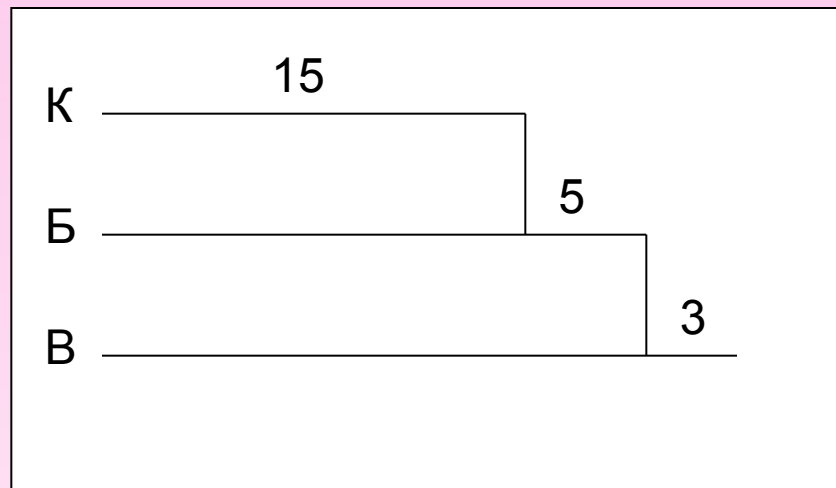












У Кости в коллекции _____ машинок,
у Бори на _____ машинок _____ чем
у Кости. А у Вовы на _____ машинки
_____ чем у Бори.

1
5

5

3

Больше

Меньше



На гонки!!!

Тест

1. Когда Марина прочитала 5 из своих новых стихов, ей осталось прочитать ещё 6. Сколько всего новых стихов у Марины?

11 стихов

12 стихов

10 стихов

2. На ёлке было 12 шаров. После того как 3 шара разбились, купили ещё 5 шаров. Сколько шаров стало на ёлке?

17 шаров

20 шаров

14 шаров

Тест

3. Тане 11 лет, а Ирине 8 лет. Через сколько лет Ирине Будет столько же, сколько сейчас Тане?

Через 11 лет

Через 3 года

Через 8 лет

4. В гирлянде 5 жёлтых лампочек, фиолетовых на 3 больше, а зелёных столько же, сколько жёлтых. Сколько всего лампочек в гирлянде?

18 лампочек

8 лампочек

16 лампочек

Тест

5. На стол поставили 12 больших и маленьких тарелок. Сколько поставили маленьких тарелок, если больших 7?

7 тарелок

6 тарелок

5 тарелок

6. Продано 22 мешка ржаной муки, а пшеничной на 8 мешков больше. Сколько всего мешков муки продано?

25 мешков

30 мешков

52 мешка



Домашнее задание

Учебник

с 171 №559 и №560

