



Математика

"Составление таблицы умножения и деления с числом 5"

Урок для всезнаек



Автор: Стрекаловская Л.А.



Вычислите примеры и вы узнаете,
кто будет вести сегодня урок.

М $40 + 3 =$

И $62 + 8 =$

В $34 - 30 =$

Ь $5 + 9 =$

А $8 + 5 =$

А $55 - 5 =$

Л $12 - 7 =$

Н $14 - 6 =$


43	13	5	14	4	70	8	50

1-й урок - Чистописание

Числовая цепочка








2-ой урок - Рисование


Найти закономерность и закончи логическую таблицу:

Нарисуйте, какого домика не хватает.



3 -ий урок - Математика


Вспоминай-ка!



- $a+6$
 - $b-5$
 - $f:7$
 - $k \cdot 4$
-
- *Как изменилось число в результате указанной операции*



4 - ый урок - Чтение Подумай и реши...



- а) Карлсон съел 21 плюшку, а Малыш на 20 плюшек меньше.

Сколько плюшек съел Малыш?

- б) Дедушке Тыкве для домика необходимо 10 кирпичей, а он купил в 2 раза меньше.

Сколько кирпичей у дедушки Тыквы?



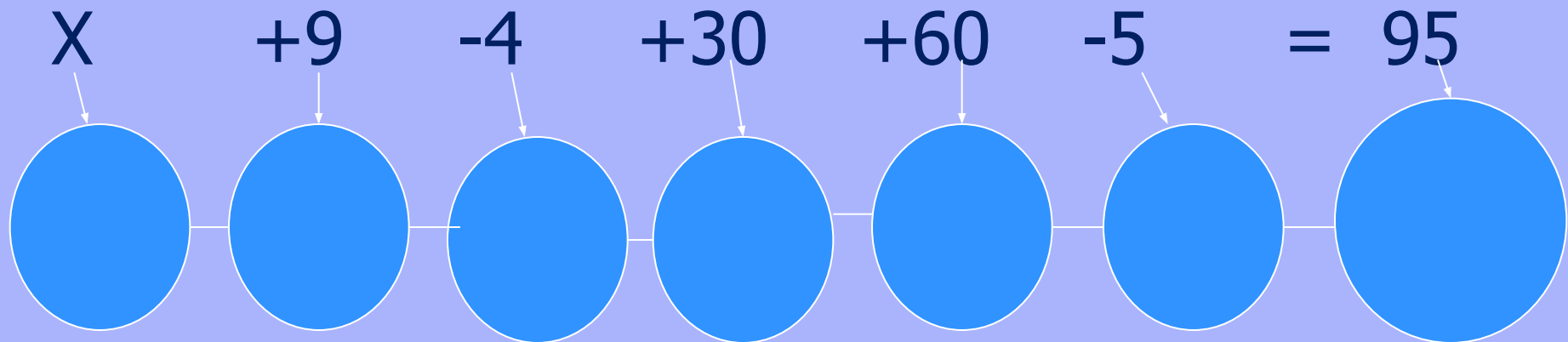


Подумай и реши...

- в) Черепаха Тортила планировала встретить Буратино в 9 часов, а прождала на 3 часа больше.
- В какое время встретились Черепаха и Буратино?
- г) Водяной сплел 5 ловушек для незваных гостей, а надо в 3 раза больше.
- Сколько ловушек ему надо сплести?

5 - ый урок - Природоведение.

Длина бабушки - Удава зашифрована в этой блок - схеме в метрах.



Решив уравнения,
вы узнаете массу животных из этого мультфильма.

Мартышки

$$X - 5 = 3$$

Попугая

$$18 : X = 9$$

Награждай-ка!

- Мы отлично поработали!

**Поставьте себе
оценку, которую,
как вы считаете,
заработали!**

