

Составление таблиц сложения и вычитания числа **3**



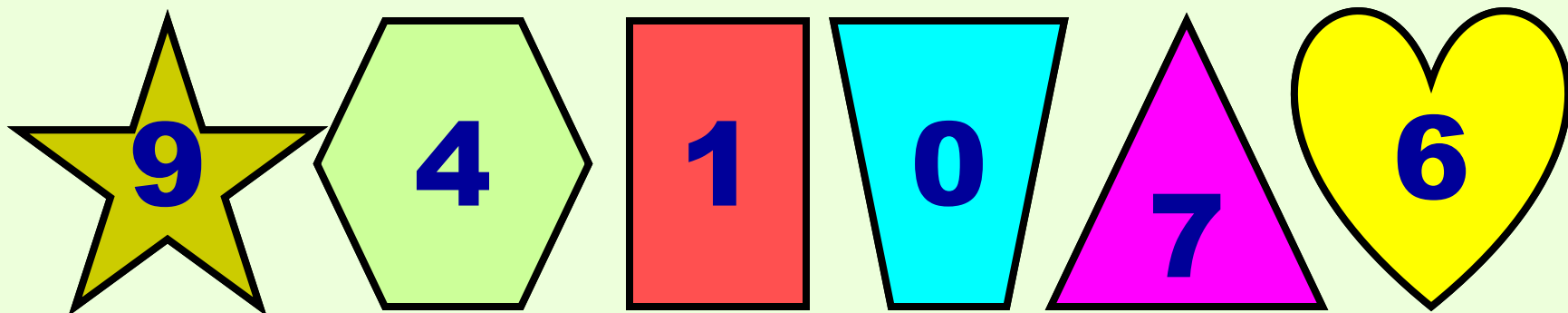

Урок математики в 1-А классе
14 декабря

Дорогой дружок!

Приглашаю тебя на урок
математики.

Приготовь ручку, простой
карандаш и листочек в
клеточку.

Найди одинаковые фигуры. Вычисли сумму чисел на фигурах.
Работай устно



5 2

5 8

4 1

4 10

3 8

3 9



Помоги Мышке сравнить числа.
Работай устно..

Повтори состав числа 3.
Работай устно.

$$3 = 1 + 1 + 1$$

$$3 = 2 + 1$$

$$3 = 1 + 2$$



- Открой учебник на с.59.
- Найди №1.
- По рисункам объясни,
как составили таблицы
сложения и вычитания числа 3.
- Прочитай таблицы.

№1 Пропиши цифры 3

3,		3,
----	--	----

Синие примеры запиши и вычисли. Зелёные реши устно.

$6 + 1 + 3$

$0 + 3 + 3$

$7 - 2 - 3$

$9 + 1 - 3$

$8 - 2 + 3$



$6 - 1 - 3$

$1 + 3 + 3$

№ 2




Устно составь и реши задачу




меньше на





больше на



Работай с учебником с. 59

№3 Составь и реши **устно**

задачу на вычитание.

№4 Составь и реши **устно**

задачу на сложение.

№ 3

- Найди №2.
- Запиши примеры и вычисли их. Оформляй верно (запиши примеры в два столбика)

Молодец!