


Государственное бюджетное общеобразовательное учреждение  
Сокольская школа – интернат для детей с ограниченными возможностями  
здоровья  
Бугульминского района РТ

# Сложение и вычитание чисел с переходом через десяток.

*Путешествие по сказке*

Учитель начальных классов Толстова Н.Т.

 $8+7$

15

16

17

Сосчитай сколько  
рыб я поймала  
для ухи?





$$6+5$$

12




11




13





Сколько бабочек я поймала на поляне?





Утром я собрала 5 кг малины, 3 кг черники и 1 кг земляники. Сколько всего кг ягод я собрала?



8 кг



4 кг



- Печка, печка, скажи, куда Гуси-лебеди полетели?



-Выполнишь моё задание, скажу.

-Присчитывание по 2 от 2 до 20

-Присчитывание по 2 от 1 до 19

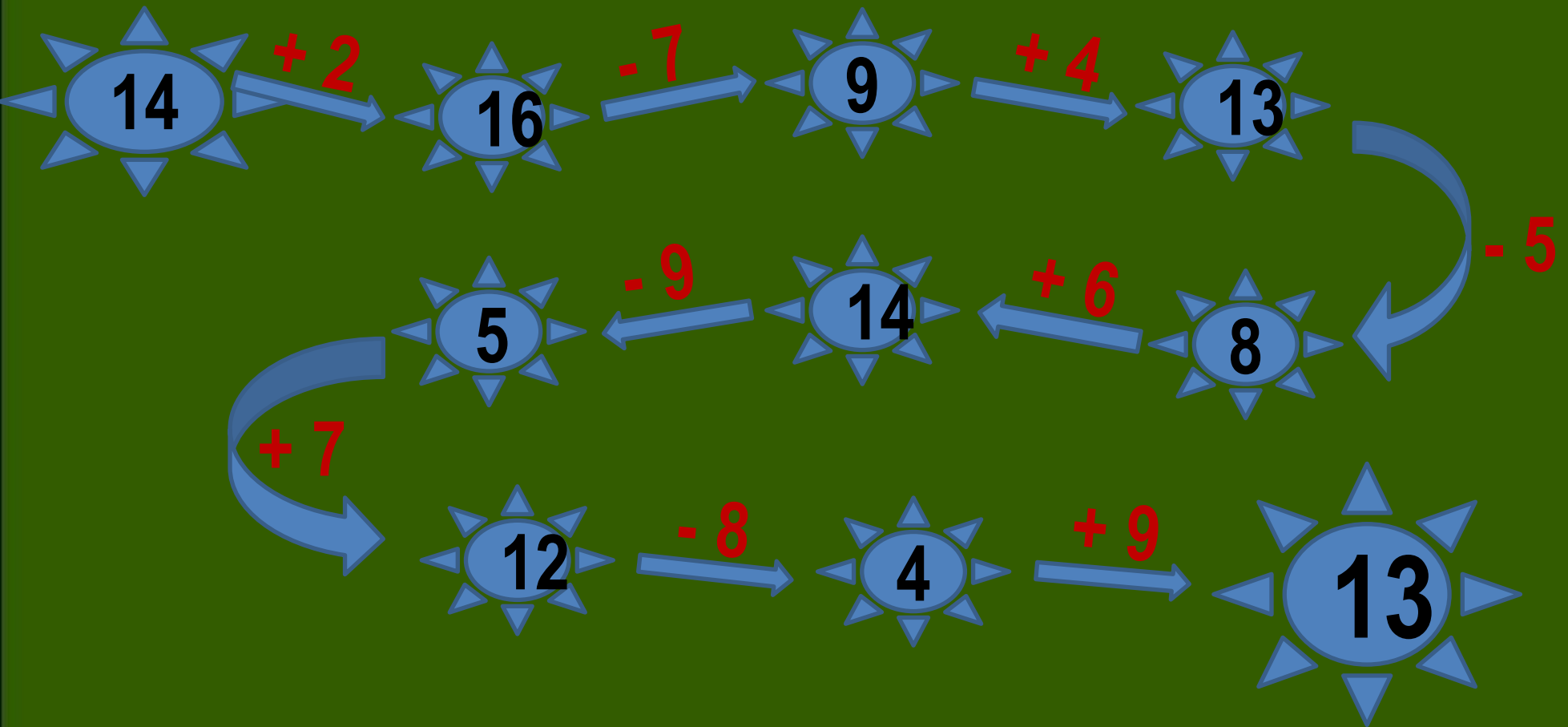


- Яблоня, яблоня, скажи, куда Гуси-лебеди полетели?



- Сорви мои яблочки, скажу. Реши цепочку примеров

# Решите цепочку



- Речка, речка, скажи, куда Гуси-лебеди полетели?



- Реши мои примеры, скажу.



**Замени первое и второе вычитаемые  
одним числом и запиши примеры  
кратко**

$$15 - 5 - 1 =$$

$$11 - 1 - 5 =$$

$$12 - 2 - 4 =$$

$$12 - 2 - 2 =$$

$$14 - 4 - 2 =$$

$$13 - 3 - 1 =$$

$$13 - 3 - 3 =$$

$$11 - 1 - 3 =$$

- Яблоня, спрячь меня.

- Реши задачу, спрячу.

В I- ящике 7кг. яблок, а

во II – на 3 кг больше.

Сколько килограмм яблок

в двух ящиках?



-Речка, матушка, спрячь меня.



Выбери себе задание и сделай его.


-Печка, спрячь меня.



-Выполни моё задание, спрячу.

Начерти отрезок 7 см.







Благодарю  
за урок!

