


УРОК

MATEMATIKA



Увеличь в 4 раза

2

5

4

7

3







10

6

9

8

0



**Реши задачу и составь две задачи,
обратные данной.**

Расход на 1 изделие	Количество изделий	Общий расход
4 м	? шт.	36 м

$$36 : 4 = 9 \text{ (шт.)}$$

Ответ: из 36 м ткани сошьют 9 ...

**Найди периметр
прямоугольника
ABCD**

со сторонами 3 см и 5 см.

1) $24 : 8 = 3$ раз

2) $28 : 7 = 4$ раз

3) $62 - 27 = 35$ каштанов