

5×6

$45:5$

8×5

7×5

$28:4$

$36:4$

4×8

$16:4$

$24:4$

3×8

6×3

$25:5$

$15:3$

4×3

6×2

$40:10$

5×10

$20:5$



30

9

40

35

7

9

32

4

6

24

18

5

5

12

12

4

50

4



В одной книге 8 страниц, а в другой в 5 раз больше.

Сколько книг в другой книге?

Ширина обложки 20 см, а длина на 4 см больше. Сколько см длина обложки?



В вазе 8 конфет. А вафель на 4 меньше. Сколько вафель в вазе?

В парке катались на горках 10 ребят, а на каруселях - в 4 раза меньше. Сколько ребят катались на каруселях?




Мальчиков -5
Девочек -10






- 2 к.



- 10 к.



во ? раз >



**Большое число делим на
меньшее**




10 : 2 = в 5 раз


больше



- 2 к.



- 10 к.



на ? ра >



**Из большего числа вычитаем
меньшее**

$$10 - 2 = 8 \text{ кружков}$$

