

Урок

МАТЕМАТИКИ

2 класс

*Автор: учитель начальных классов
Денисова Н.С.*




*Математику
уже затем
учить надо,
что она ум
в порядок
приводит*

М.В.Ломоносов

ТЕМА УРОКА:

*Закрепление пройденного
по теме «ЧИСЛА ОТ 1 ДО 100»*




ЦЕЛИ:

- закрепить знания таблицы умножения;
- закрепить умения решать задачи и уравнения;
- закрепить приёмы сложения и вычитания в пределах 100





***В гости к
смешарикам***



2·3

6

8:2

4

4·3

12

12:2

6

3·6

18

15:5


3

5·5


25

20:4


5




1



2





3




4

Найди лишнюю фигуру





Дом Ньюши




20м

40м

25м

25м



Дом Бараша

15



20

28

Задачи в стихах

Реши задачу (стр.34)

цена	количество	стоимость
одинаковая	5 шт.	35 р.
	6 шт.	? р.

Решение:


1) $35:5=7$ (р.)

2) $6\cdot7=42$ (р.)

Ответ: 42 рубля заплатили за
белые нитки



ФИЗМИНУТКА





**Выполни
тест**





Реши уравнения

$$x+23=58$$

$$x=58-23$$

$$x=35$$

$$35+23=58$$

$$58=58$$



$$x \cdot 4 = 12$$

$$x = 12 : 4$$

$$x = 3$$

$$3 \cdot 4 = 12$$

$$12 = 12$$

$$16 : x = 4$$

$$x = 16 : 4$$

$$x = 4$$

$$16 : 4 = 4$$

$$4 = 4$$



Домашнее задание

стр. 34

зад.3



Спасибо за урок! МОЛОДЦЫ!!!





Сравни, если возможно

$$2\text{м} > 16\text{дм}$$

$$52\text{л} > 25\text{л}$$

$$30\text{см} = 3\text{дм}$$

$$1\text{дм}4\text{см} < 41\text{см}$$

$$30\text{кг} > 3\text{кг}$$

~~$$5\text{кг} > 5\text{ч}$$~~



$$1\text{м} > 1\text{см}$$

$$1\text{ч} < 10\text{ч}$$

