



Соседи этого числа - 3 и 5.



Перед этим числом – 2.



Это число стоит после 1.



Соседи этого числа – 9 и 7.



Это число стоит после 6.



В числовом ряду стоит справа от цифры 4.

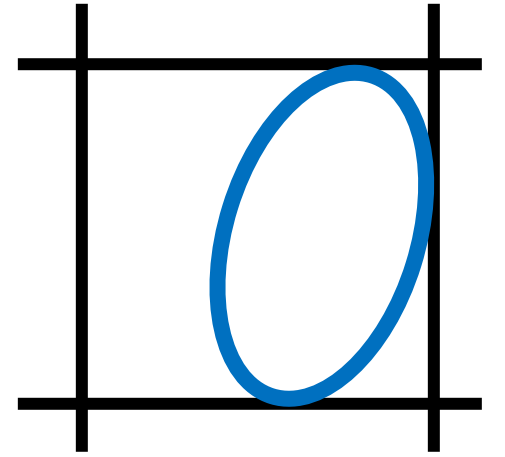



Хоть у неё одна нога , она стройна, горда, строга.
Ни журавль то, ни синица.
А всего лишь... .


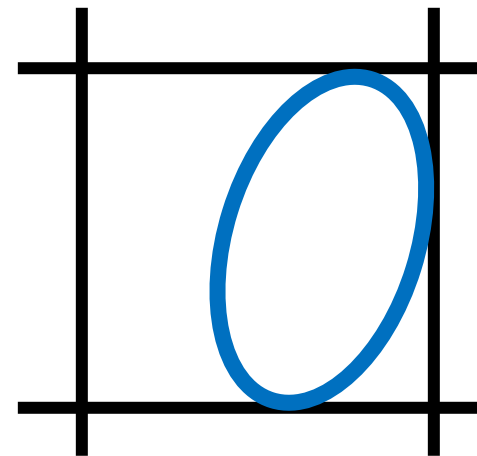




НОЛЬ




**Круглый ноль такой хорошенький,
Но не значит ничегошеньки!**





0 1 2 3 4 5 6 7 8 9

Разминка для ума





Урок 20. Знакомимся с числом и цифрой 0



1. Сколько птиц на ветке?



Сколько птиц на первой и четвёртой ветках?

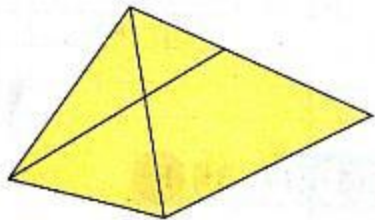
и это

Сколько птиц на первой, второй и четвёртой ветках?

и и это

Придумай другие вопросы.

2. Верно ли, что в этой фигуре можно найти 6 треугольников?



Верно

Неверно



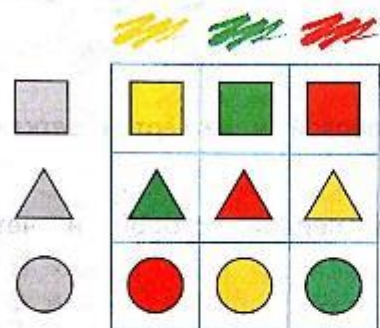
3. Напиши семь раз цифру 7.

--	--	--	--	--	--	--	--	--	--	--	--	--	--	--	--	--	--	--	--

4. Напиши девять раз цифру 9.

--	--	--	--	--	--	--	--	--	--	--	--	--	--	--	--	--	--	--	--

5. Проверь работу Пети. Отметь знаком ✓ ошибки.



6. Проверь начало узора. Продолжи узор.

