





урок

МАТЕМАТИКИ

2 класс




Чему равно
значение
суммы
чисел 12 и 2?




Чему равно
значение
разности
чисел 12 и 2?



Уменьшите
12 на 3



Увеличьте
12 на 5





Я задумала число,
уменьшила его на
1 и получила 12.

Какое число я

задумала?



14, 10, 9, 17, 13.



9, 10, 13, 14, 17.





2, 5, 6, 9, 10, 13, 14, 17, 18, 21, 22.





2, 5, 6, 9, 10, 13, 14, 17, 18, 21, 22.






3, 5, А, 9, Д, 13, А, 17, Ч, 21, И.



Признаки задачи



1. В задаче есть условие и вопрос.

2. В задаче есть данные и искомое.

3. В задаче не указывается каким действием её надо решать.




На одной ветке 7 яблок,
а на другой-9 яблок.
Сколько машин проехало
по улице?



Новый признак задачи

В задаче условие и
вопрос должны
соответствовать друг
другу.





На одной ветке 7 яблок
а на другой-9 яблок.



На одной ветке 7 яблок,
а на другой-9 яблок.
Сколько всего яблок на
двух ветках?



Признаки задачи



1. В задаче есть условие и вопрос.
2. В задаче есть данные и искомое.
3. В задаче не указывается каким действием её надо решать.
4. В задаче условие и вопрос должны соответствовать друг другу.























