

**Урок математики
2 класс**

Тема "Прямоугольник. квадрат".

**Презентацию выполнила
учитель начальных классов
МАОУ многопрофильного лицея
№ 20
г. Ульяновска.
Акельева Елена Александровна.**



Т

Е

М

А

Т

И

К

А

А

М

OPEN.AZ

Отгадай ребусы



РОМБ



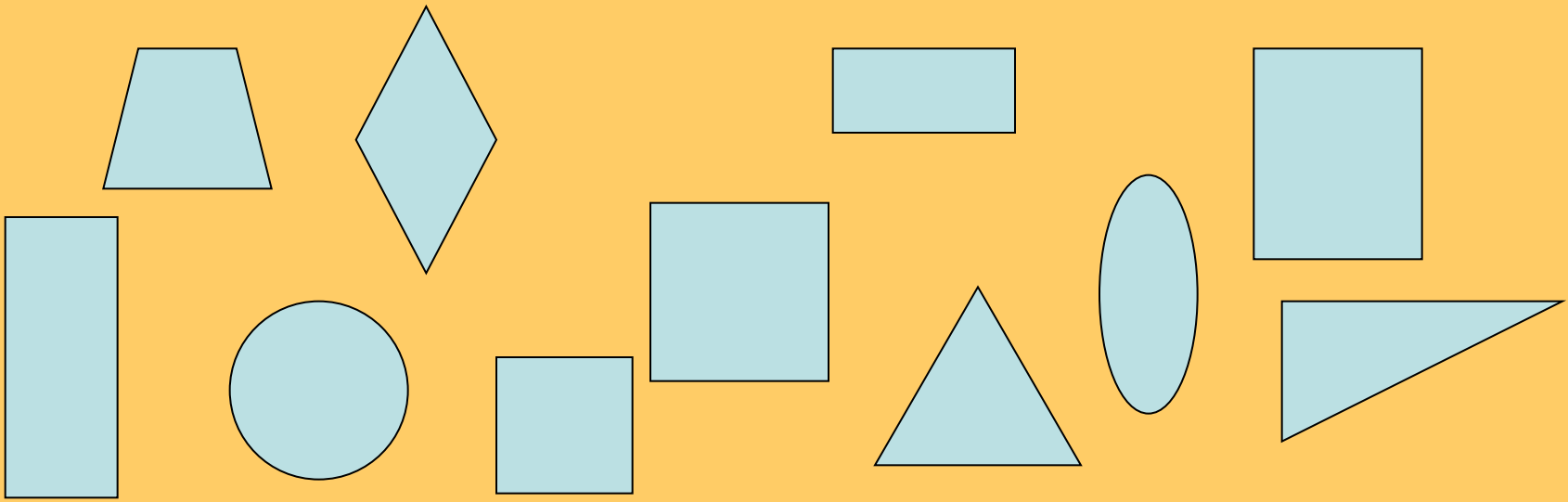
УГОЛ



КВАДРАТ



ГЕОМЕТРИЯ

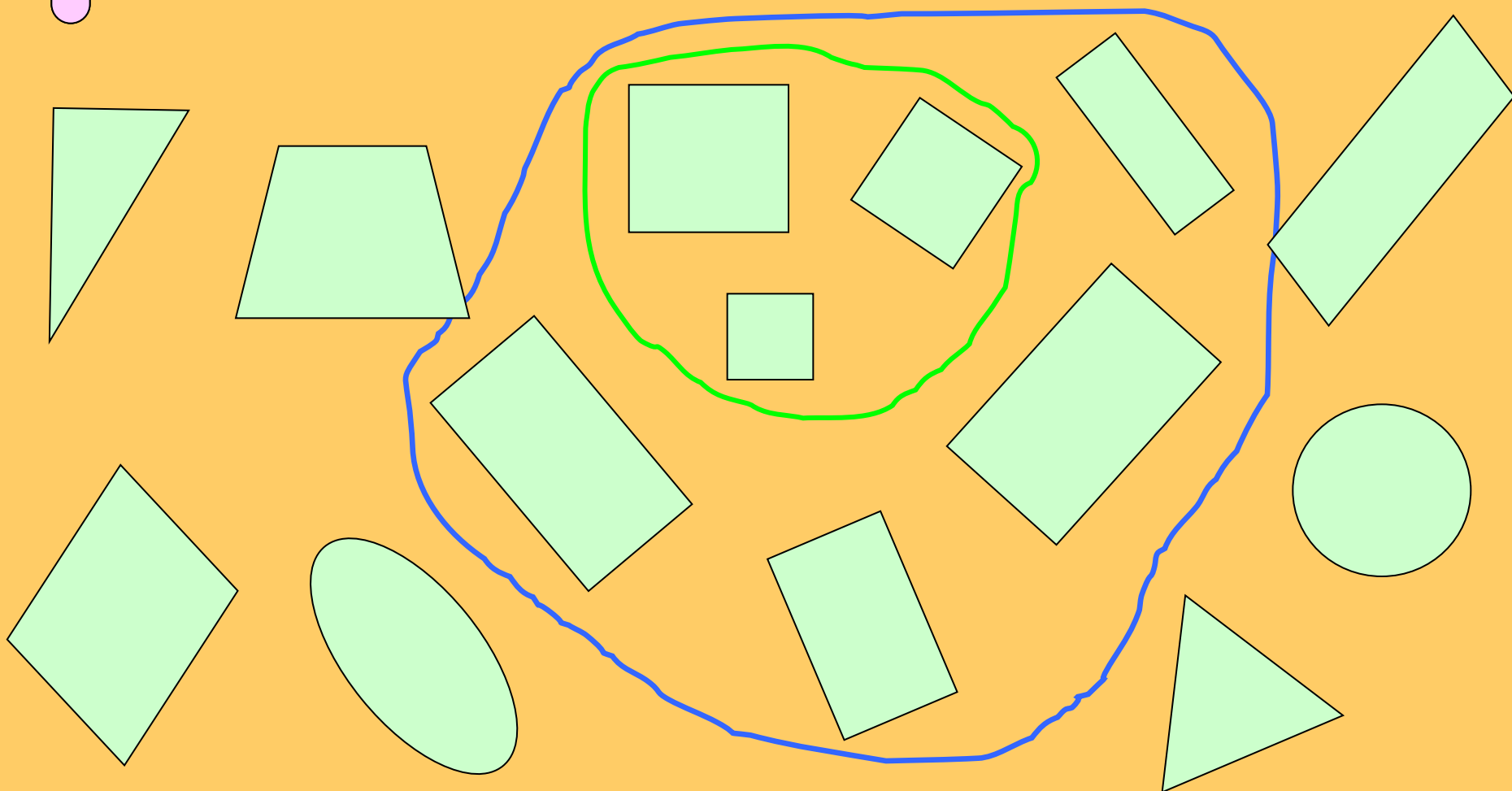





A large orange-bordered box containing several light blue geometric shapes. A green hand-drawn outline encloses a vertical rectangle on the left, a small square at the bottom, and a large right-angled triangle and an equilateral triangle in the center. A blue hand-drawn outline encloses a diamond and a trapezoid on the right side. Other shapes include a cross with a yellow border at the top left, a horizontal rectangle at the top center, and a vertical rectangle at the bottom right.

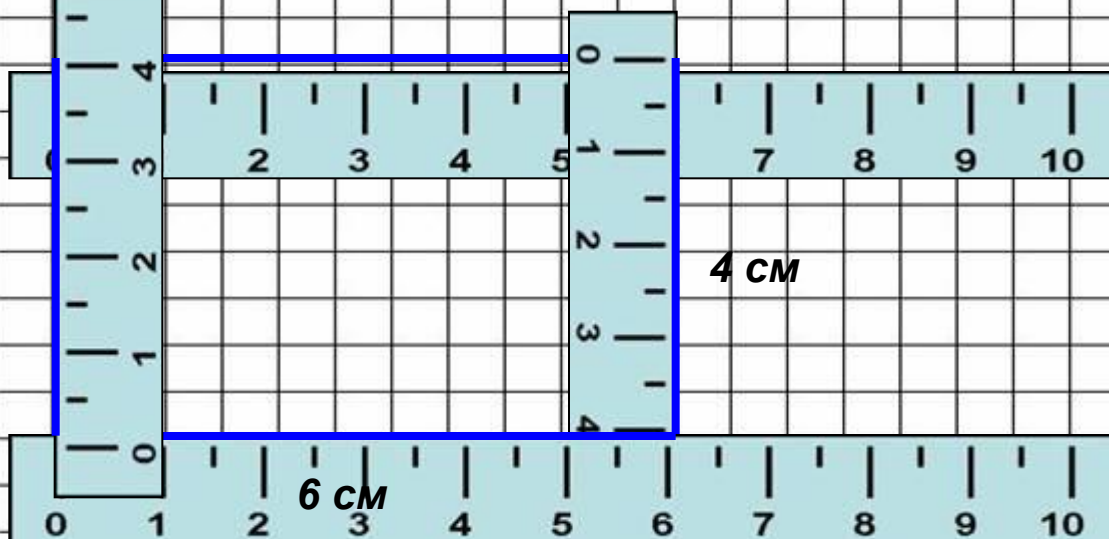


Проверьте! Что замечаете?





№ 5.



$$P = 6 + 4 + 6 + 4 = 20 \text{ (cm)}$$

Ответ: 20 сантиметров периметр прямоугольника.



ИТОГ УРОКА

научился



узнал



Я

удивился



запомнил



Интернет- источники

Слайд № 7 использован из презентации
Галкиной И.А. с сайта viki.rdf.ru

<http://www.26317lvschooll7.edusite.ru/p6aa1.html> - смайлики

<http://forum.materinstvo.ru/index.php?showtopic=83152&st=300>- ребусы