




# Урок математики во 2 классе

Тарасян М.А.,  
учитель начальных классов  
МБОУ СОШ №5



2)

1) 2)


2

$$\bullet - \bullet - \bullet = ?$$



# Умножение и деление на 6



$$\bullet + \bullet = ?$$

5



# Найдите лишнее выражение

$$5 \cdot 6 = 30$$

$$6 \cdot 4 = 24$$

$$2 \cdot 6 = 12$$

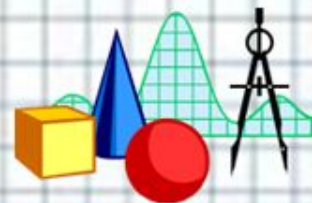
$$3 \cdot 6 = 18$$

$$6 \cdot 1 = 6$$

$$6 \cdot 6 = 36$$

$$9 \cdot 6 = 54$$

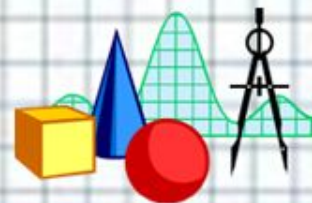
$$6 \cdot 8 = 48$$





**6, 12, 18, 24, 30, 36, 48, 54**

**кормушка**



## Задача

*Ученики 1 класса  
изготовили 4 кормушки, а  
ученики 2 класса – в 3 раза  
больше, чем  
первоклассники. Сколько  
кормушек изготовили  
второклассники?*




Ф



**Выберите  
задания**






Найти значения выражений  
 $6 \cdot 7 =$




Заполнить пропуски  
 $6 \cdot \square = 42$



Подобрать множители так,  
чтобы получились верные  
равенства

$$\square \cdot \square = 42$$







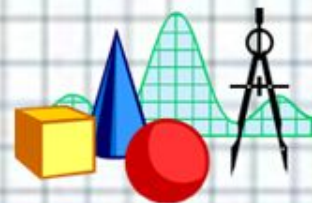
# Оцени свою работу!



Хорошо!  
(1-2 ошибки)

Молодец!  
(0 ошибок)

Тренируйся!  
(более 2 ошибок)



**Работа в рабочих тетрадях**  
(работа в парах)  
*стр. 8 №7*

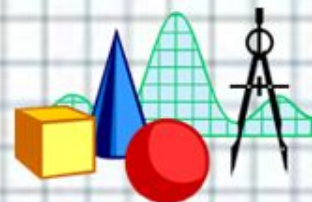
**Работа по учебнику**  
*стр. 19 №22*





# Народные приметы

- ✓ Синичка с утра пищит – ожидай мороза.
- ✓ Воробьи дружно расчирикались – к оттепели.
- ✓ Снегири запели, а сороки прячутся – к вьюге.





**Вычислите периметр дна  
кормушки, если длина его  
стороны 3 дм**

$$P = 3 + 3 + 3 + 3 = 12 \text{ (дм)}$$

$$P = 3 \cdot 4 = 12 \text{ (дм)}$$





**Вы внимательными были,  
Сложных правил не забыли.  
Всё решили, посчитали,  
И нисколько не устали!**





# МОЛОДЦЫ!



# Спасибо за работу!

