

Устные приёмы вычислений вида $30-7$


Учитель Марфель М.Л.

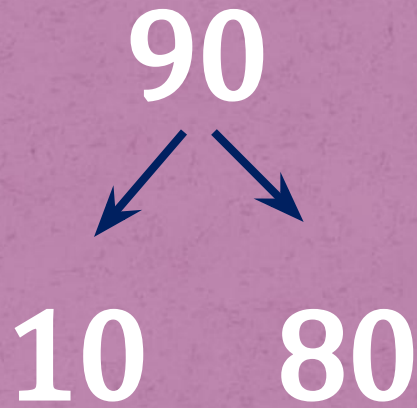
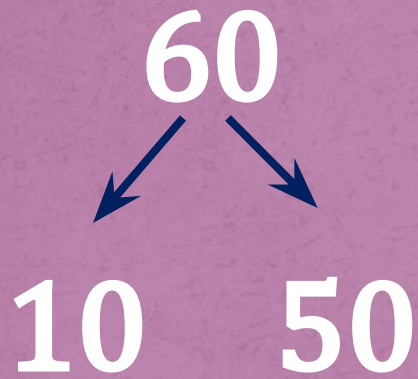

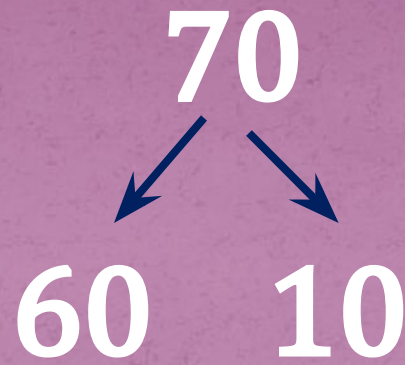
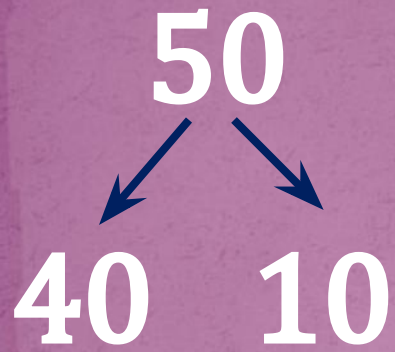
2013г.

Вычисли и расшифруй название сказки. Что ты замечаешь?


А	$29 + 1$	$\begin{matrix} 3 \\ 0 \end{matrix}$	Ш	$5 + 45$	$\begin{matrix} 5 \\ 0 \end{matrix}$	К	$37 + 3$	$\begin{matrix} 4 \\ 0 \end{matrix}$
У	$8 + 52$	$\begin{matrix} 6 \\ 0 \end{matrix}$	О	$71 + 9$	$\begin{matrix} 8 \\ 0 \end{matrix}$	Е	$12 + 6$	$\begin{matrix} 1 \\ 8 \end{matrix}$
З	$86 + 4$	$\begin{matrix} 9 \\ 0 \end{matrix}$	Н	$36 - 4$	$\begin{matrix} 3 \\ 2 \end{matrix}$	Л	$7 + 63$	$\begin{matrix} 7 \\ 0 \end{matrix}$

90	80	70	60	50	40	30
З	О	Л	У	Ш	К	А






Мы будем смекать!
Мы будем решать!
Новые приёмы
вычислений будем
изучать!




Прием вычисления
для случая вида 30-7

$$30-7=???$$

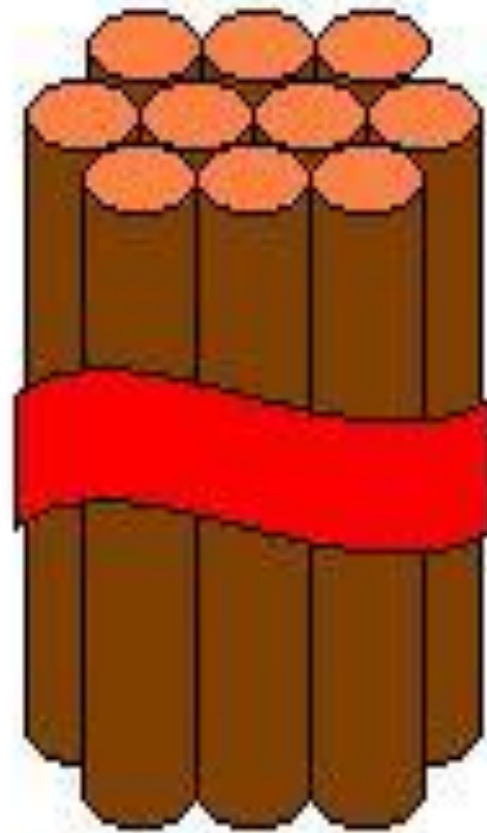







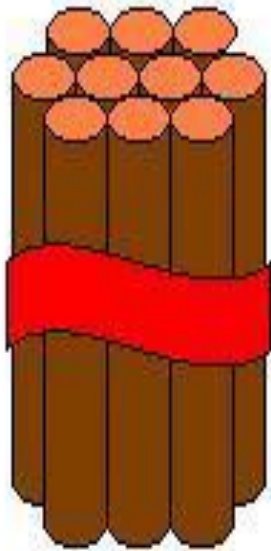
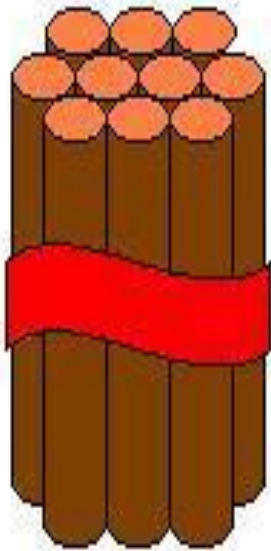
10



10



10



$$30 - 7 = 20 + (10 - 7) = 23$$



20 10



1 вариант

$$70 - 5 = 65$$

$$80 - 4 = 76$$

2 вариант


$$100 - 4 = 96$$

$$100 - 9 = 81$$



Реши задачу

Золушка испекла 40 пирожков с капустой, а пирожков с творогом на 6 меньше. Сколько пирожков с творогом испекла Золушка?



Домашнее задание.
1 уровень Стр.61 № 4,7

2 уровень стр.61 №5, №6, N



Молодцы!

