

Урок математики



4 класс

Презентация учителя начальных классов
ГБОУ № 152
Довгаль Л.Д.

**Математику, друзья,
Не любить никак нельзя.
Очень строгая наука,
Интересная наука -
Эта МАТЕМАТИКА!**

Пешеход проходит расстояние 12 км за 4 ч.

Выбери схему, соответствующую данному условию.

- ① 
- ② 
- ③ 
- ④ 

*Какие величины не используются в
задачах
на движение?*

КГ	км/ч	см	т	м	км/с
----	------	----	---	---	------



с	км	сут	дм	ч	м ²	ц	м/с
---	----	-----	----	---	----------------	---	-----


*По какому признаку можно разделить
данные величины на 3 группы?*



скорость v	время t	расстояние s
км/ч	с	см
км/с	сут	км
км/мин	ч	м
м/ч	мин	дм
м/мин	неделя	мм
м/сек	месяц	











Дополните таблицу.


Гимнастика для глаз





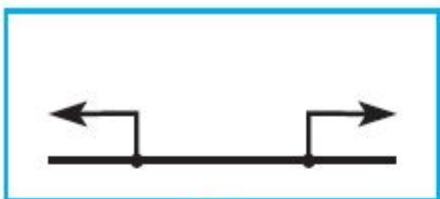




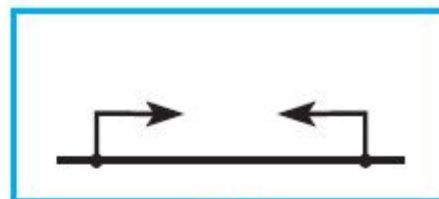


Выбери схему к данному условию.

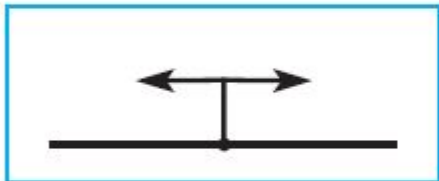
От одного причала в противоположных направлениях отплыли два катера.



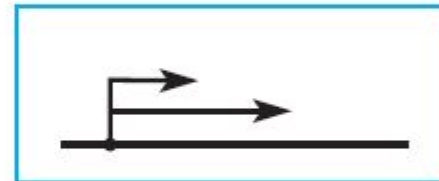
①



②



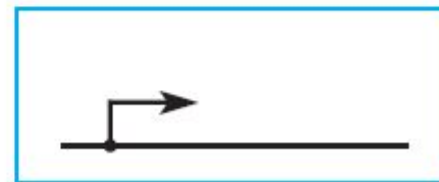
③



④



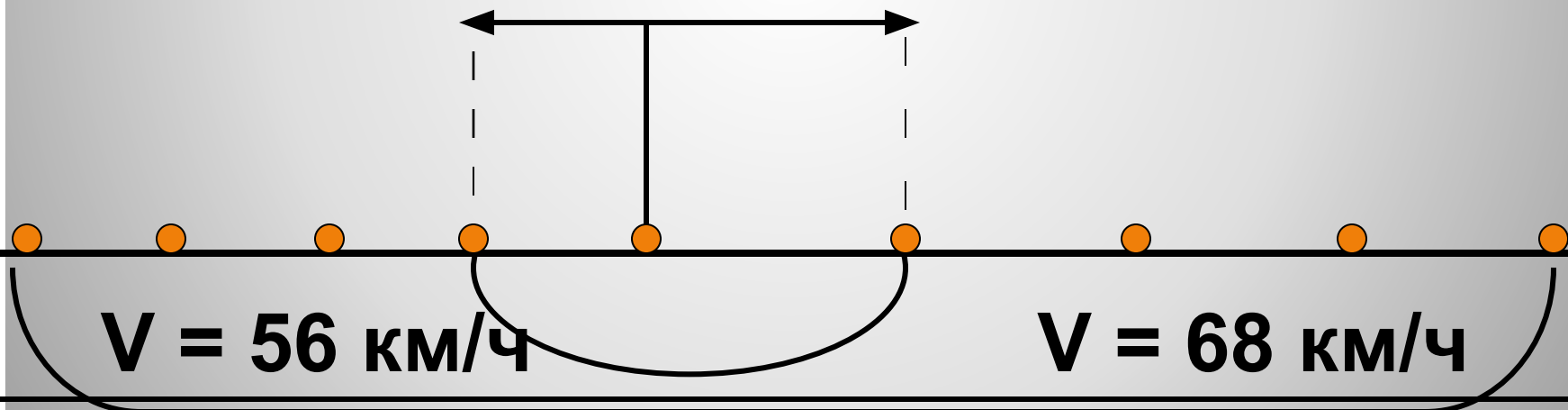
⑤



⑥

**Тема урока: Движение
в противоположных
направлениях**

$t = 4ч$



$S =$

?

Задача

Из автобусного парка вышли одновременно в противоположных направлениях два автобуса.


**Скорость одного автобуса 56 км/ч,
а скорость другого – 68 км/ч.**

**Какое расстояние будет между
ними через 4 часа?**

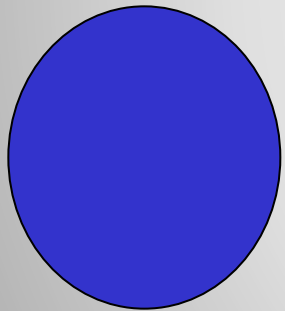
Домашнее задание




**Придумать и
записать на
карточке
условие задачи
на
противополож -
ное движение .**



Научился решать
очень хорошо.



Не всё понял.



Совсем не понял.

Молодцы!



Домашнее задание

**Придумать и
записать на
карточке
условие задачи
на
противополож -
ное движение .**



Математическая разминка

