

**УРОК
МАТЕМАТИКИ
В 1 КЛАССЕ**

**УЧИТЕЛЬ НАЧАЛЬНЫХ КЛАССОВ
«МОУ ШКОЛЫ №96 ГОРОДА
ДОНЕЦКА» ПЕРЕЯСЛОВСКАЯ
ТАТЬЯНА ВИКТОРОВНА
2016**



Тема урока:
«Прибавить и вычесть
числа 1, 2, 3.
Закрепление изученного
материала»





«Дорогие ребята! Мы жители Любознаево, приглашаем вас посетить наш город. Скоро весёлые новогодние праздники и долгожданные каникулы. Побывав в нашем городе вы увидите много интересного и занимательного.

Чтобы нам помочь, посылаем Путеводитель.

До скорой встречи!»



Путеводитель

Улица Вычислительная

Парк Развлечений

Переулок Неравенств

Улица Задачная

Площадь Смекалистых





- 2
- 4
- 3
- 5
- 6





Улица Вычислений

$7 - 2 =$

$5 - 2 =$

$6 + 3 =$

$6 + 2 =$

$7 + 3 =$

$2 + 2 =$

$9 - 3 =$

$5 + 2 =$

4

5

3

9

10

6

7

8



Парк Развлечений

5

3

6

3

4

0

9

4

7

1

10

3

8

0



5

7

2

4

6

8

3


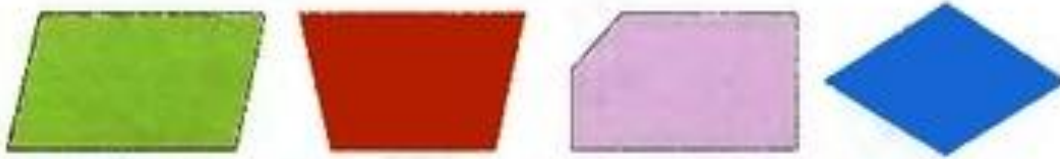


Лабиринт





Что лишнее в каждом ряду?



Улица Задачная

На кусте сидели 8 воробьёв. Улетели 2
Сколько воробьев осталось?

Было – 8 в.

Улетело – 2 в.

Осталось - ? в.




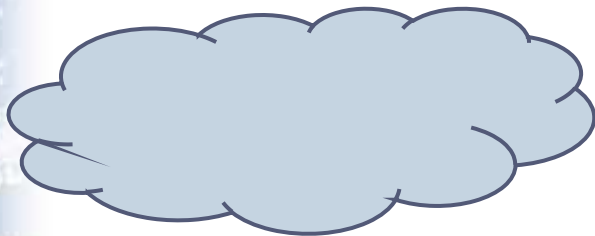
$$8 - 2 = 6(\text{в.})$$

Ответ: 6(в.)





Переулоч Неравенств



$2 + 1$



3

$3 + 2$



5

$8 - 3$



7

$4 - 3$









4

$6 + 2$


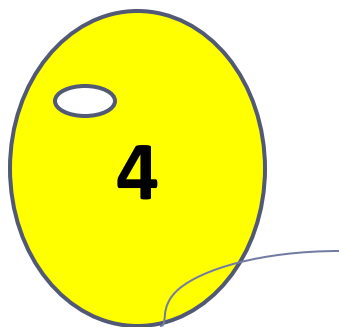



6



Площадь Смекалистых

Запомни цвет шариков и их номера. Закройте глаза, какого цвета был шарик под номером 1(2,3,4 и 5)





МОЛОДЦЫ

