

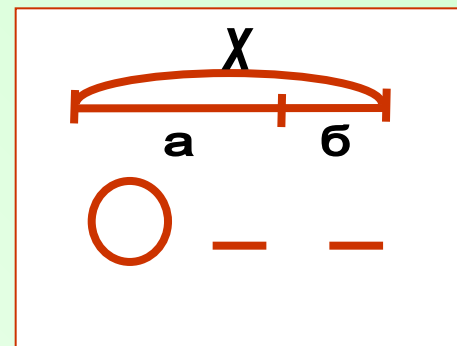
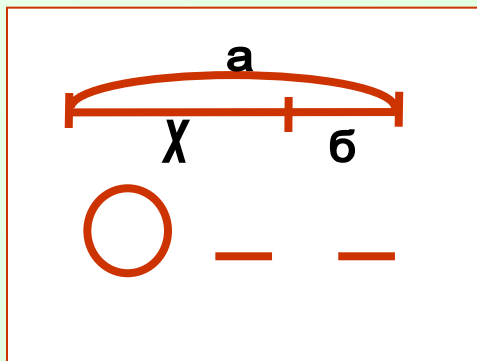
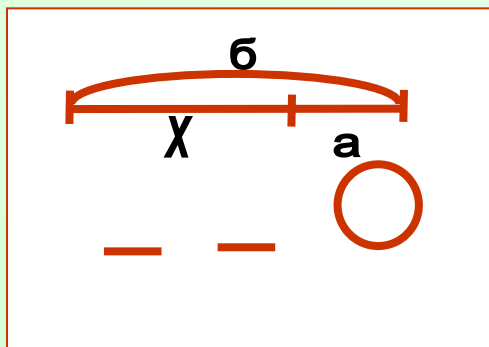
# *Делу время, а потехе час!*


- решение уравнений
- решение составной задачи

$$x + 3 = 6$$

$$9 - x = 4$$

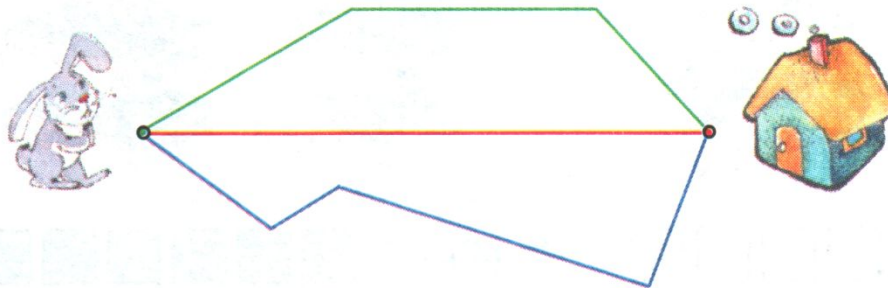
$$x - 1 = 6$$





**Оля съела 3 блина с вареньем, а со сгущенкой – на 2 больше. Сколько всего блинов съела Оля?**

6 По какой дорожке надо бежать зайчику, чтобы быстрее добраться до дома? Найди длину всех трёх дорожек.



8 см

7 см

9 см

Ответ: быстрее по красной дорожке.

**1. Девочек Оксану, Марину и Ирину угостили блинами: один был с мясом, другой с творогом, а третий с рыбой. Кто из них съел какой блин, если у Оксаны блин не с творогом и не с рыбой, а Марина не любит блины с творогом?**

**2. В семье несколько детей. Один ребенок говорит, что у него есть брат и сестра, а другой говорит, что у него нет ни одного брата. Сколько детей в этой семье? Сколько девочек и сколько мальчиков?**



