



**Математика 4 класс  
«Школа 2100»**

Учитель начальных  
классов Мусатова А.

**19 февраля.  
Классная работа.  
Решение задач.**





оружие

одежда

оснащение  
для кораблей

металл


сукно,

полотно и др.

ткани

**заводы**





Запишите только одни ответы (в три столбика)

$56:28$

$39:3$

$95:5$

$60:15$

$75:3$

$88:5$

$96:12$

$96:4$

$76:2$

$52:13$

$52:4$

$32:5$



*Первая задача.*

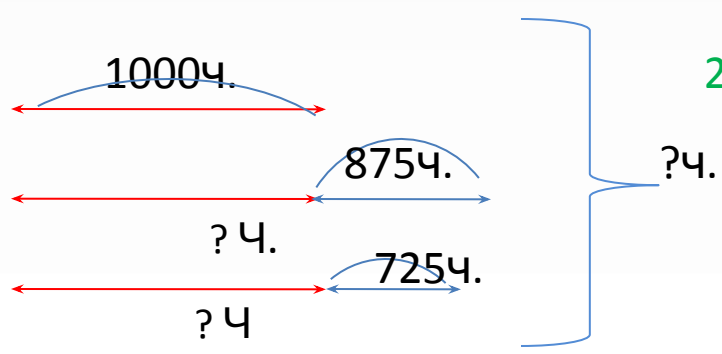
В конце XVII века в Россию приехали мастера и ремесленники из разных стран. Многие из них прибыли из Нидерландов. Тысяча человек приехали из Амстердама, это на 875 человек больше, чем из Льежа, и на 725 больше, чем из Намюра. Сколько всего человек приехали в Россию из Амстердама, Льежа и Намюра?



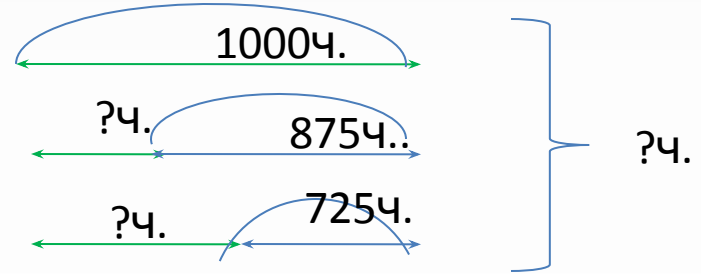
# Какая схема подойдёт?

1.

**А**  
.  
**Л**  
.  
**Н**  
.

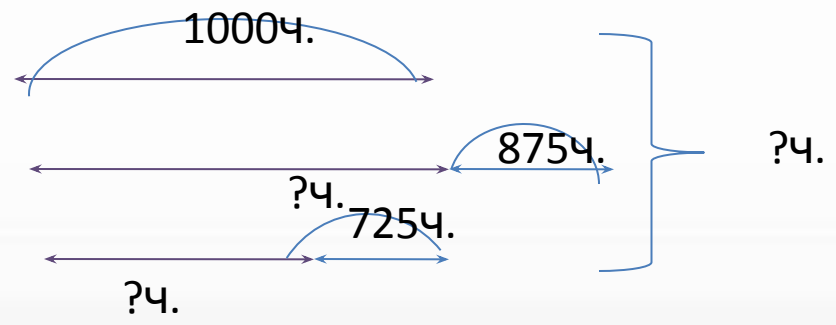


2. **А.**  
**Л.**  
**Н.**

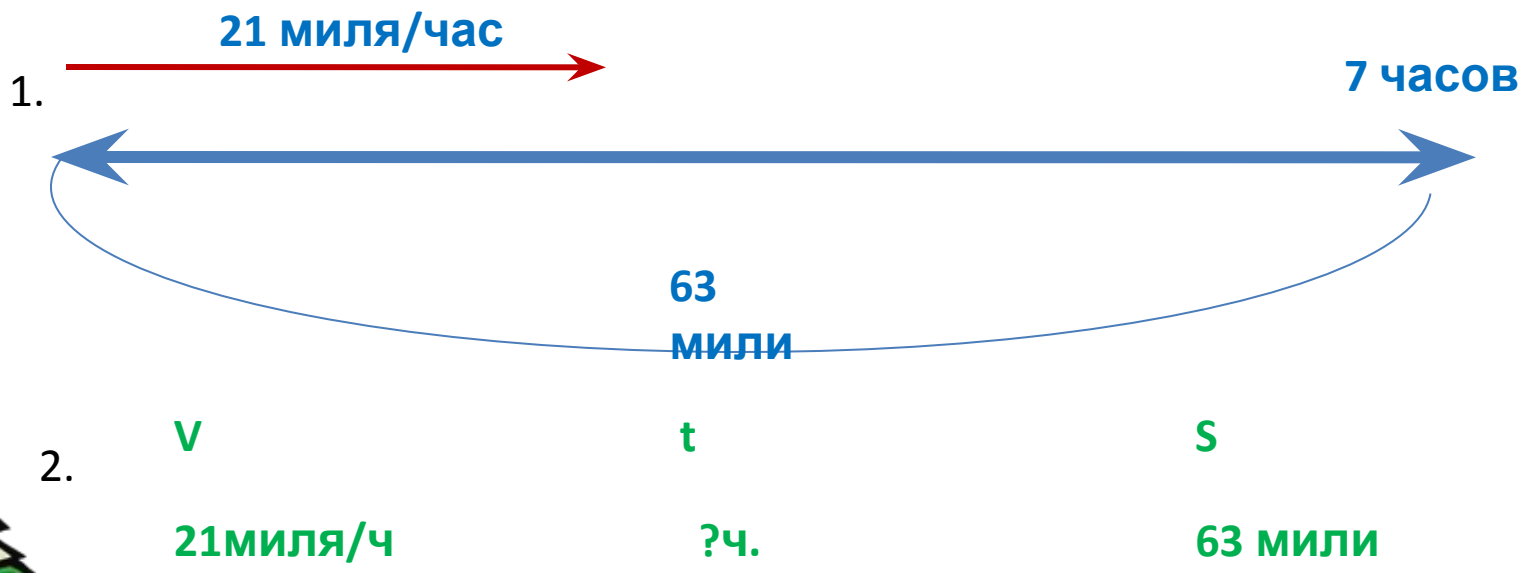




3.

**А**  
.  
**Л**  
.  
**Н**









1.  $63:21 = 3$  (ч) – уходит на  
дорогу
2.  $7-3 = 4$  (ч)



22.000	13.802	50.501	7.000	870	965	11.100	0	870	154	23.156	24.640

1.210	3.610	22.000	13.802	4.002	24.640

**спасибо!**





**спасибо!**

