


**Математика сложна,
Но скажу с почтением –
Математика нужна
Всем без исключения!**



НАЙДИ ЗАКОНОМЕРНОСТЬ, НАЗОВИ СЛЕДУЮЩЕЕ ЧИСЛО.



НАЙДИ ЗАКОНОМЕРНОСТЬ, НАЗОВИ ПРЕДШЕСТВУЮЩЕЕ ЧИСЛО.



«Лабиринт» - пройти в парах путь от
наименьшего числа к наибольшему

30

42

61

54

70

36

49

72

50

68

63


30 36 42 49 50 54 61 63 68 70 72

ТЕМА УРОКА:


СЛОЖЕНИЕ И ВЫЧИТАНИЕ ДВУЗНАЧНЫХ ЧИСЕЛ



РАБОТА С УЧЕБНИКОМ



Стр. 98, № 1



Физминутка

У нас славная веселка,
мы свели лопатки,
мы походим на носках,
а потом на пятках.
пойдем мягко, как лжеца,
ну а если надоест,
то пойдем все косолапо,
как медведи ходят в лес.



Прочитай текст. Это задача?

Белка запасла на зиму 34 гриба, а
запас ёжика состоял из 21 гриба.



Конкурс «МАТЕМАТИЧЕСКИЙ БУМЕРАНГ»



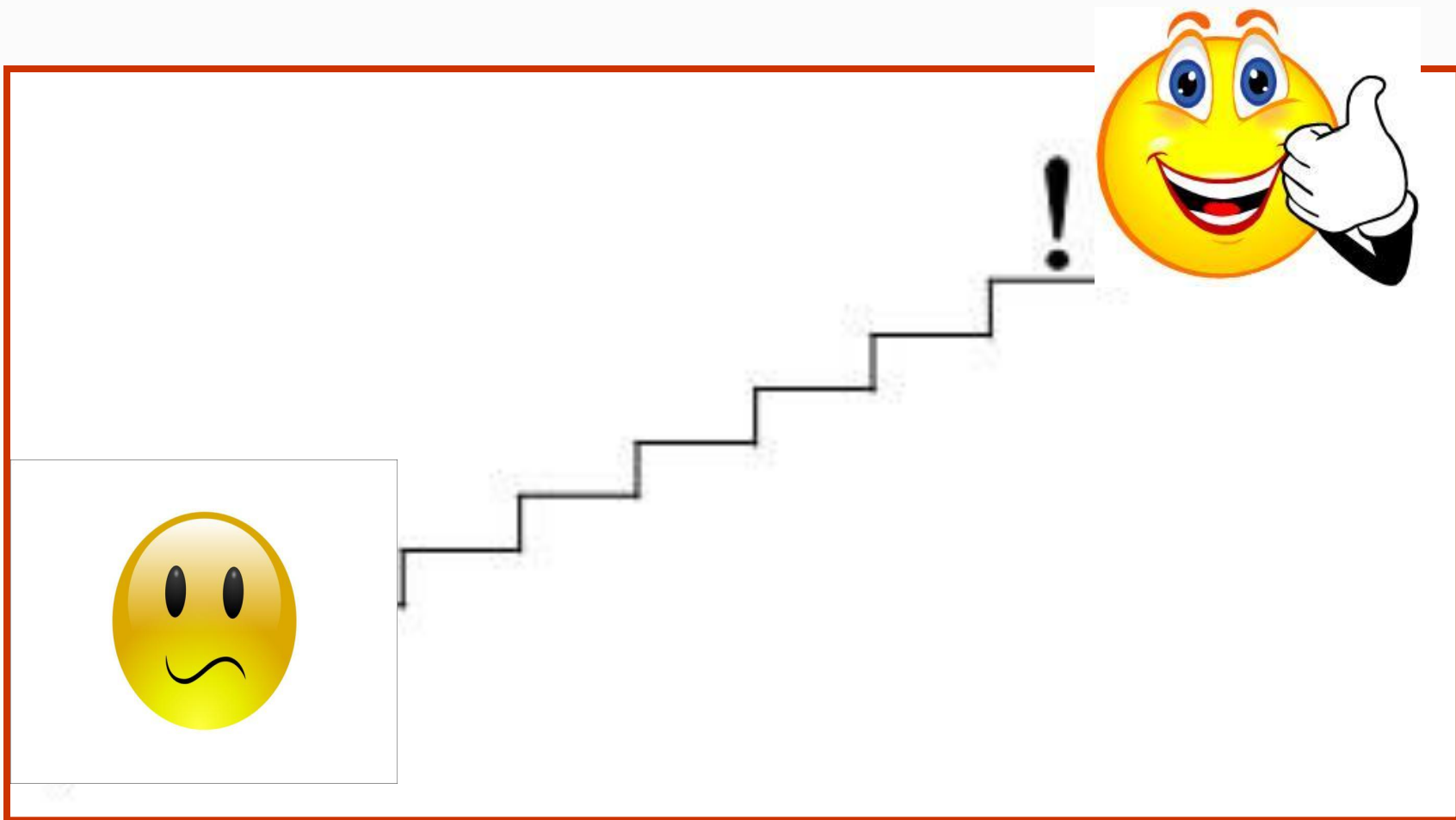
**Поразмышляйте над тем,
как вы справились с заданиями на уроке**



Что для вас было
простым и
сложным?

Какие задания
у вас вызвали
интерес?

ЛЕСТНИЦА УСПЕХА



Молодцы!

Всем спасибо за работу!!!

