



Урок

математики

1 класс



УСТНЫЙ СЧЁТ



$$9 + \square 5 = 14$$

$$12 - \square 4 = 8$$

$$11 - \square 7 = 4$$



Реши задачу

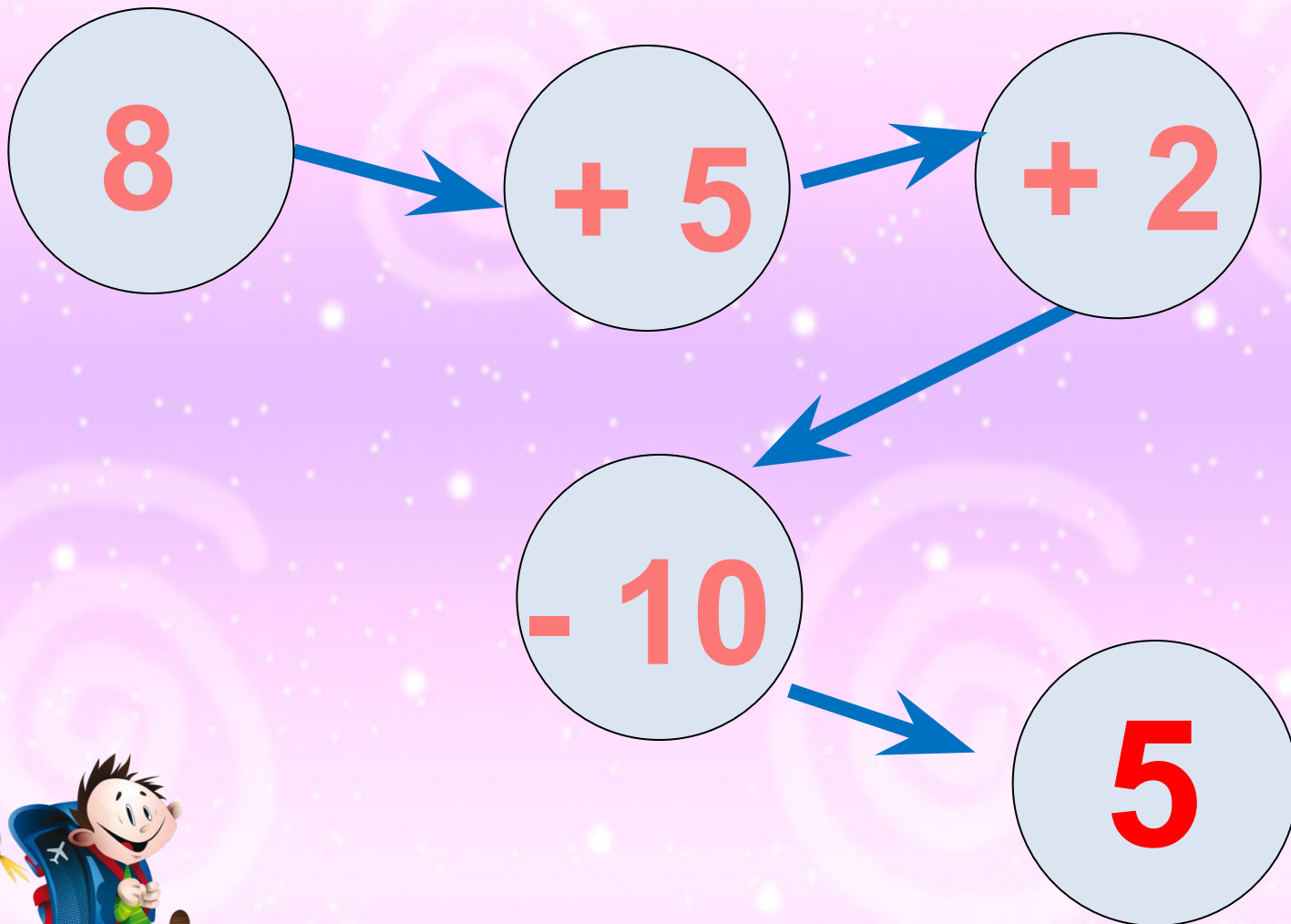
У Кати **8** кукол, а у Маши
на **5** кукол больше.
Сколько кукол у Маши?

$$8 + 5 = 13 \text{ (к.)}$$

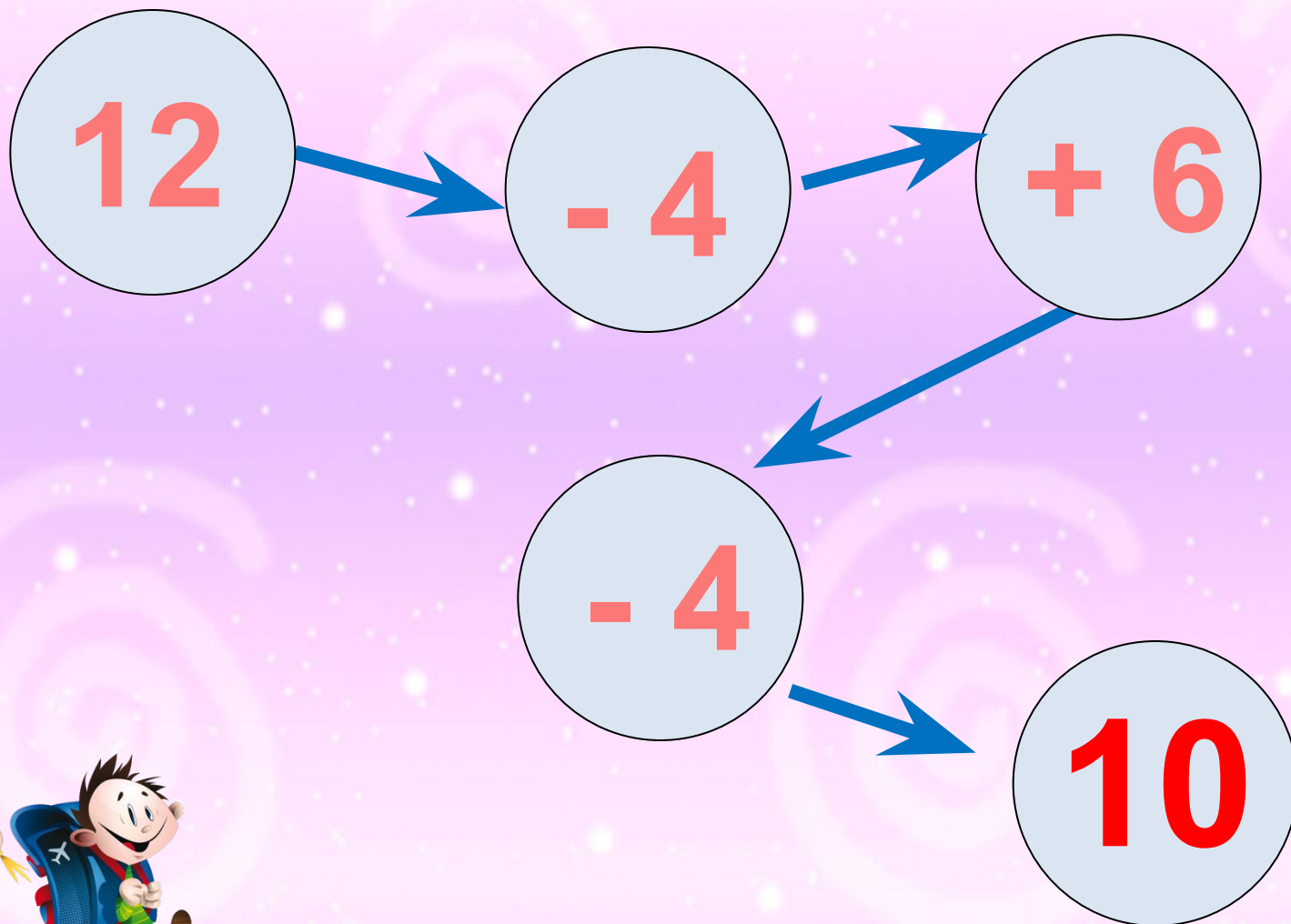
Ответ: 13 кукол у
Маши.



Реши цепочку примеров.



Реши цепочку примеров.



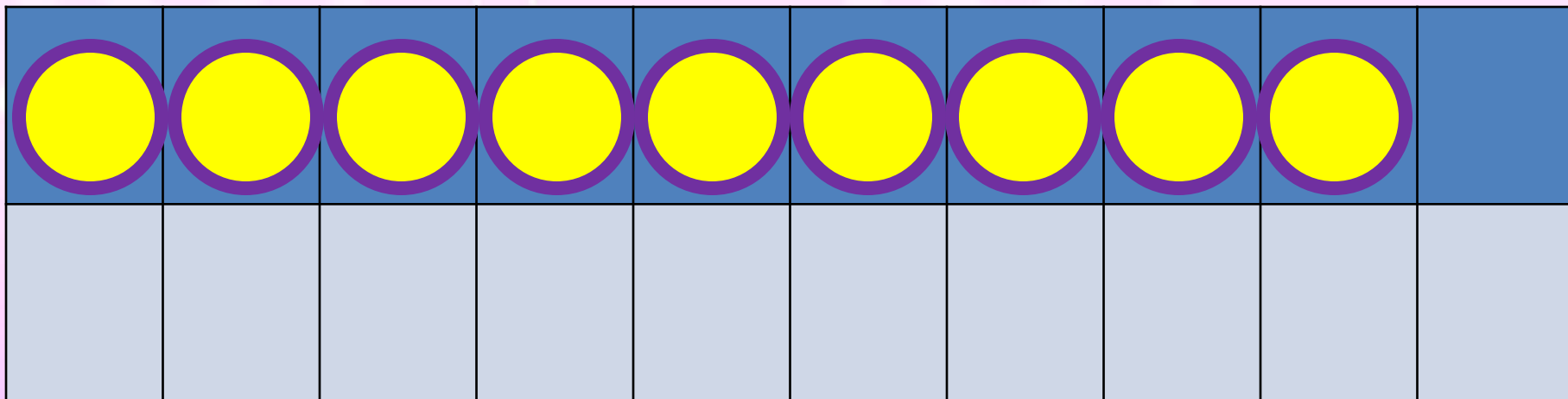
Расскажи, как удобнее прибавить число 6.

$$7 + 6 = 7 + _ +$$



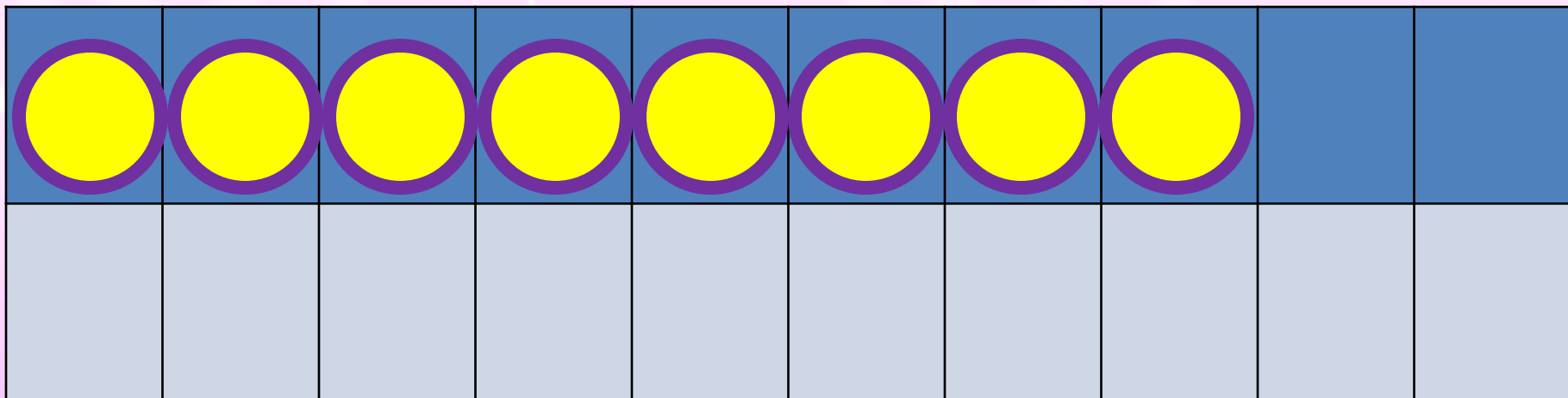
НОВЫЙ МАТЕРИАЛ





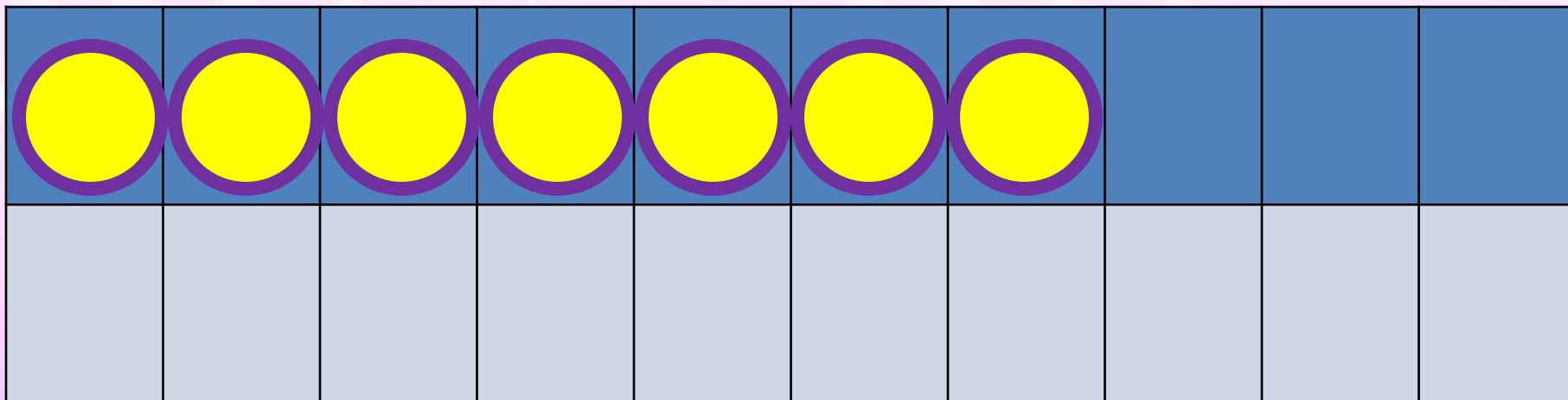
$$9 +$$

$$9 + 1 +$$



$$8 +$$

$$8 + 2 +$$



$$7 +$$

$$7 + 3 +$$

Запомни!

$$9 + 7 = 16$$

$$8 + 7 = 15$$

$$7 +$$

$$7 = 14$$



РАБОТА ПО УЧЕБНИКУ



Стр. 70

Учебник, страница 70, задание 1

1. $9 + 6$ | $9 + 3$ | $9 + 5$ | $15 - 0$ | $0 + 8$
 $8 + 5$ | $8 + 6$ | $8 + 4$ | $15 - 15$ | $9 - 9$



Учебник, страница 70, задание 2

2. После чаепития в одной коробке осталось 6 конфет, а в другой — 4. Сколько конфет осталось в обеих коробках?



Задача

На первой полке **8** книг, а на 2-ой на **3** книги меньше. Сколько книг на двух полках?

1 п. – 8 кн.

2 п. - ?, на 3 кн. м.



Учебник, страница 70, задание 4

4. Что должно быть нарисовано в пустой клетке?





Увеличь на 7 числа.

3	7	5	6	8	4	9



ЗАДАНИЯ НА СМЕКАЛКУ



У бабушки Даши внучка **Маша**, кот **Пушок**, собака **Дружок**. Сколько у бабушки внуков?



1 внучка

конец

