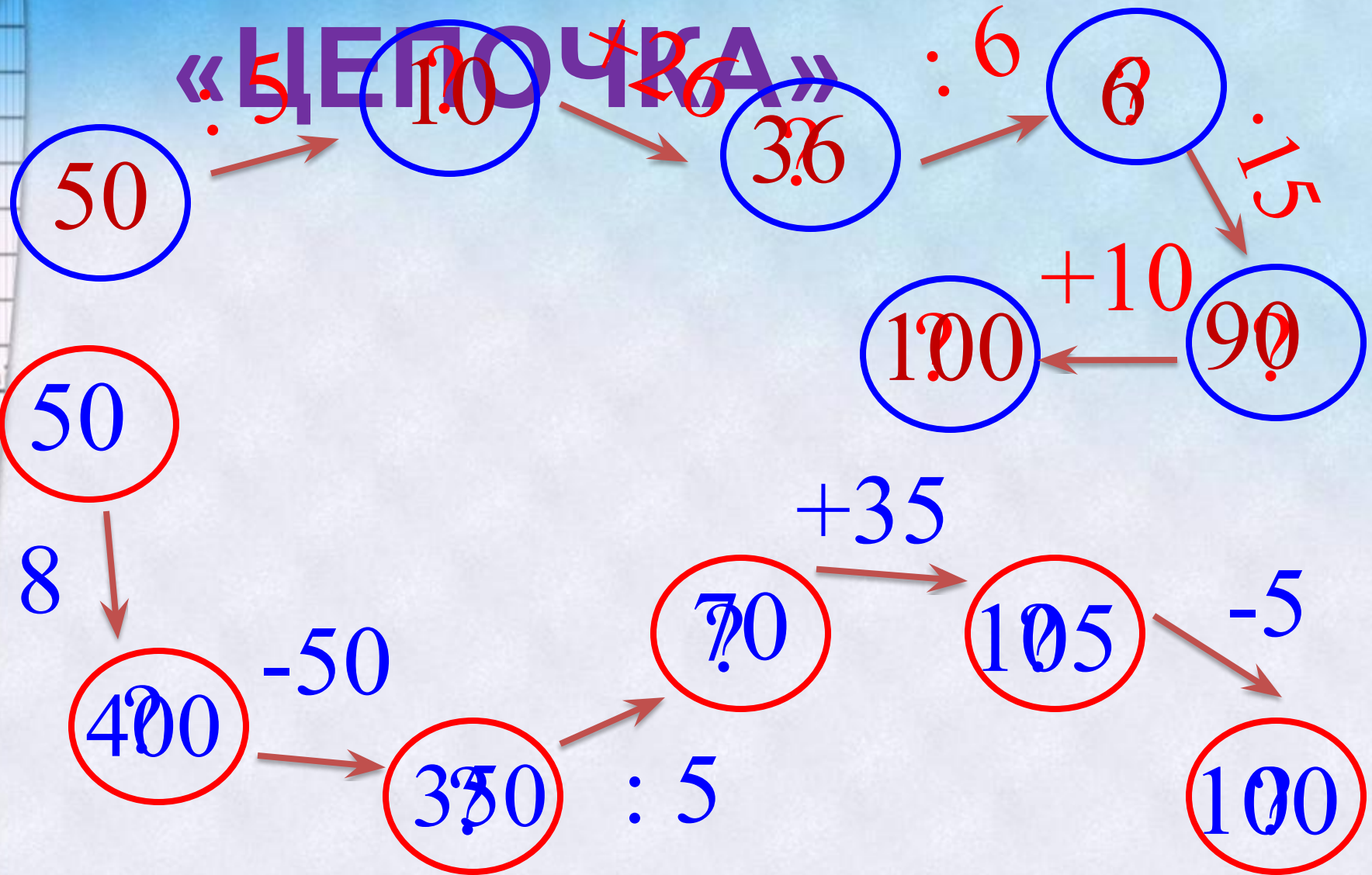


# **УРОК МАТЕМАТИКИ В 3 КЛАССЕ**


# ИГРА

## «ЦЕПОЧКА»



# НАЙДИ СВОЮ ПАРУ.

1 руб.	250 коп.
2 руб. 50 коп.	100 коп.
8 руб. 30 коп.	205 коп.
2 руб. 5 коп.	830 коп.
10 руб. 1 коп.	920 коп.
9 руб. 20 коп.	101 коп.



**УРОК  
МАТЕМАТИКИ  
В 3 КЛАССЕ**  
**Цена.**

**Количество.**

**Стоимость.**

## Составь и реши задачу.

Ряд	Цена	Кол-во	Стоимость	Правило
I ряд	15 р.	2 шт.	30	$C = Ц \cdot К$
II ряд	3 р.	13	39 р.	$К = C : Ц$
III ряд	4	12 шт.	48 р.	$Ц = C : К$

**ЗА 4 ПЛИТКИ ШОКОЛАДА  
ЗАПЛАТИЛИ 48 РУБЛЕЙ,  
А ЗА 6 КОРОБОК КРЕКЕРА – 96  
РУБЛЕЙ.**



**100 руб.**

# РАБОТА ПО УЧЕБНИКУ

с.45 № 133

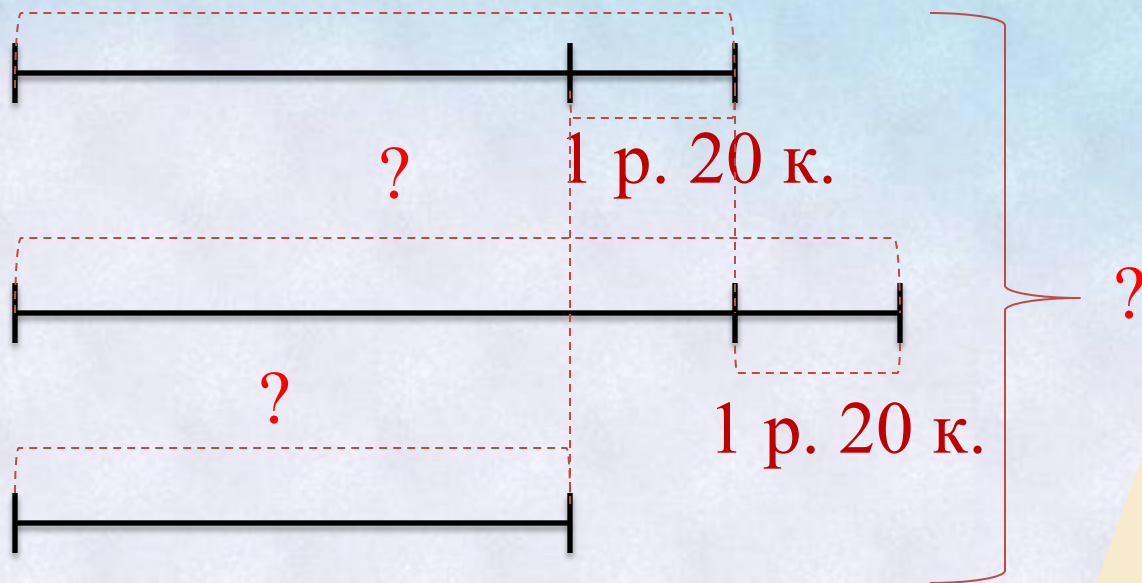




# РАБОТА ПО УЧЕБНИКУ

с.45 № 133

14 р. 50 к.



Осталось – 14 р. 30 к.




# ПРОВЕР

# ь!


1.  $14 \text{ р. } 50 \text{ к.} + 1 \text{ р. } 20 \text{ к.} = 15 \text{ р. } 70 \text{ к.}$  – цена второй шоколадки
2.  $14 \text{ р. } 50 \text{ к.} - 1 \text{ р. } 20 \text{ к.} = 13 \text{ р. } 30 \text{ к.}$  – цена третьей шоколадки
3.  $14 \text{ р. } 50 \text{ к.} + 15 \text{ р. } 70 \text{ к.} + 13 \text{ р. } 30 \text{ к.} = 43 \text{ р. } 50 \text{ к.}$  – стоимость шоколадок
4.  $43 \text{ р. } 50 \text{ к.} + 14 \text{ р. } 30 \text{ к.} = 57 \text{ р. } 80 \text{ к.}$  – было у Маши

Ответ: 57 рублей 80 копеек было у Маши.






***Вы столкнулись на уроке с трудностями, но преодолели их сами и теперь можете помочь другим.***



***Вы считаете, что знакомы с новыми понятиями, но вам ещё нужна помощь.***



***Вы считаете, что справлялись легко со всеми заданиями на уроке, ничего нового для себя не открыли.***

# ДОМАШНЕЕ ЗАДАНИЕ



1. Узнать цену необходимых товаров.
2. Составить задачи, которые можно было бы поместить на страницы учебника в данном разделе.

