



Арифметический диктант

20 8 40 1 10 100 0

Л У Ы Р Г Е К



Минута урока

Умножение и деление на 10 и на 100



Урок математики
2 класс УМК «Школа 2000...»

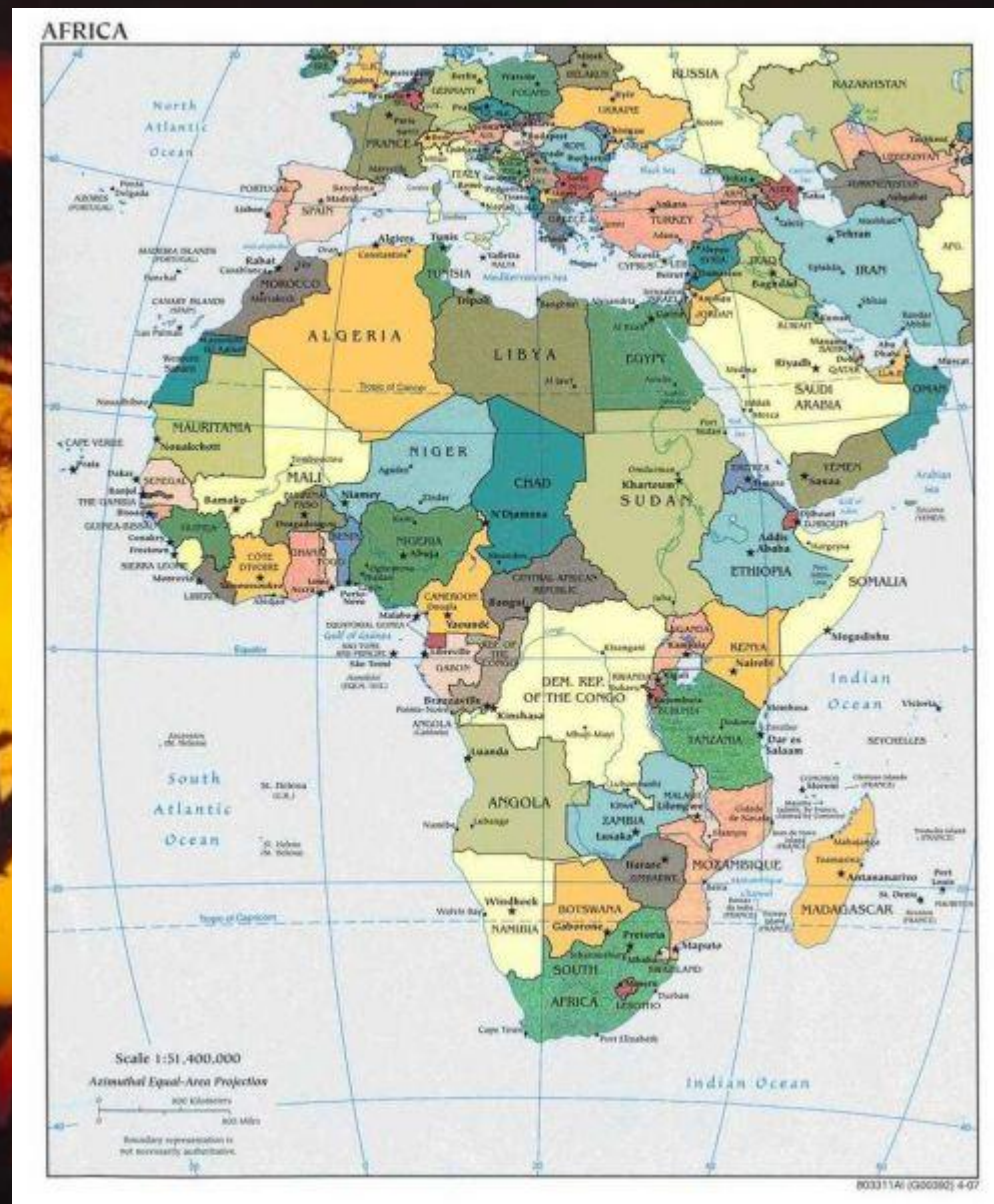
«Ладно, ладно, побегу,
Вашим детям помогу.
Только где же вы живёте?
На горе или в болоте?»

«Мы живём на Занзибаре,
В Калахари и Сахаре,
На горе Фернандо-По,
Где гуляет Гиппо-по
По широкой Лимпопо».

Путешествие по Африке

Учитель начальных классов
МОБУ НОШ № 36 «Надежда»
Вензель Н.И.

В Европе 50
государств, в
Азии на 2
меньше, а в
Африке на 5
государств
больше, чем в
Азии. Сколько
стран в
Африке?



Самая большая река Африки -

Ни
л

Нил – это не просто самая большая река Африки, это река, оказавшая значительное влияние на формирование нашей цивилизации. Именно на плодородных землях поймы нижнего Нила возникла, и долгие века процветала, цивилизация Древнего Египта и для египтян Нил и сегодня является «рекой жизни».



По протяжённости за Нилом следует вторая крупнейшая река Африки – Конго. Её длина равна произведению 47 и 100 километров.



$$47 \times 100 = ?$$



**В каждой лодке 10
пассажиров.**



$$70 : 7 = 10$$

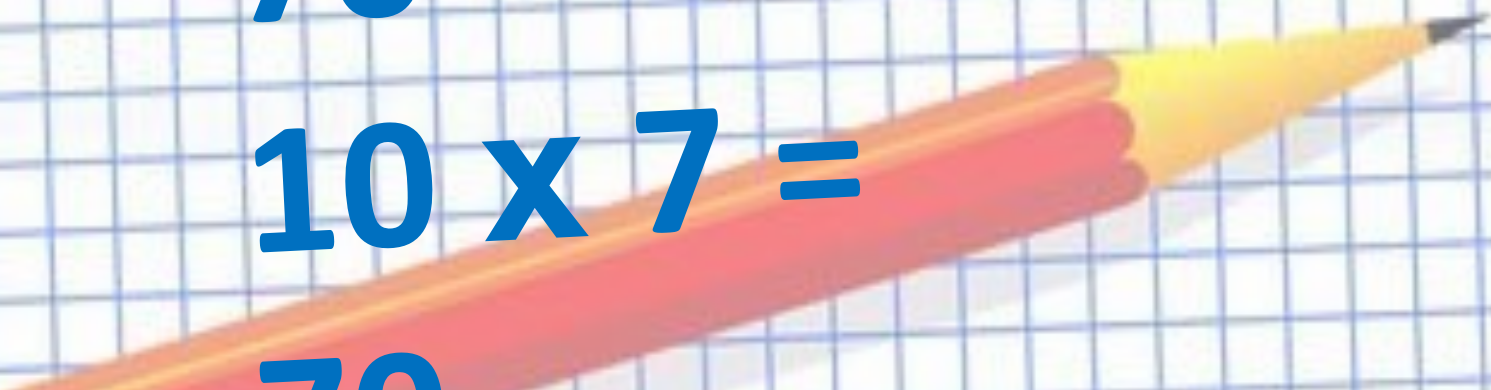
$$70 : 10 = 7$$

$$7 \times 10 =$$

70

$$10 \times 7 =$$

70






При умножении
числа на 10 к нему
нужно **приписать**
справа один
нуль, а при
умножении на 100
– два нуля.



При делении
числа на 10
справа от него
нужно сбросить
один нуль, а при
делении на 100 –
два нуля.

- **Верблюд** - двухкопытное, жвачное, млекопитающее животное. На конце ног его находятся твердые и эластичные копыта, не позволяющие ноге глубоко опускаться в песок. Он имеет довольно длинную шею и один – два горба на своей спине, где хранятся запасы воды, которые **верблюд** выпивает, найдя оазис в пустыне.



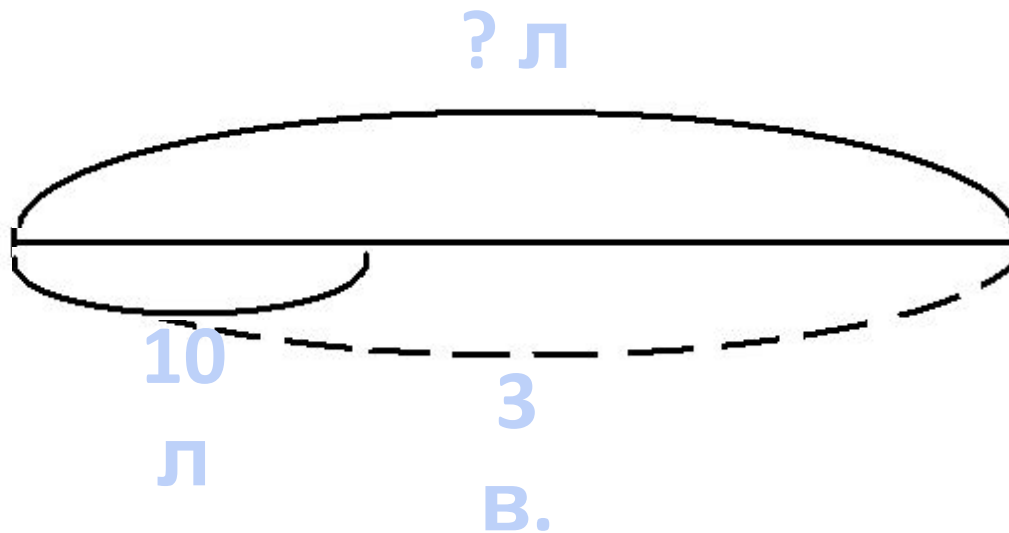
Задача



- Верблюд выпивает три десятилитровых ведра воды. Сколько литров воды выпивает верблюд?



Задача.



$$10 \times 3 = 30 \text{ (л)}$$

**Ответ: верблюд выпивает 30 литров
ВОДЫ.**





- **Жи́раф** — млекопитающее из отряда парнокопытных. Является самым высоким наземным животным планеты. Жирафы достигают высоты до 5,5—6,1 м и весят до 900 кг.

Сколько весит детёныш жирафа,
если его вес в 10 раз меньше
взрослого жирафа?



Задача.

$$900 : 10 = 90 \text{ (кг)}$$

Ответ: детёныш жирафа весит 90
кг.



**Вы считаете, что урок
прошел для вас
плодотворно, с пользой. Вы
научились и можете помочь
другим.**

**Вы считаете, что научились
умножать и делить, но вам
еще нужна помощь.**

**Вы считаете, что вам было
трудно на уроке.**

