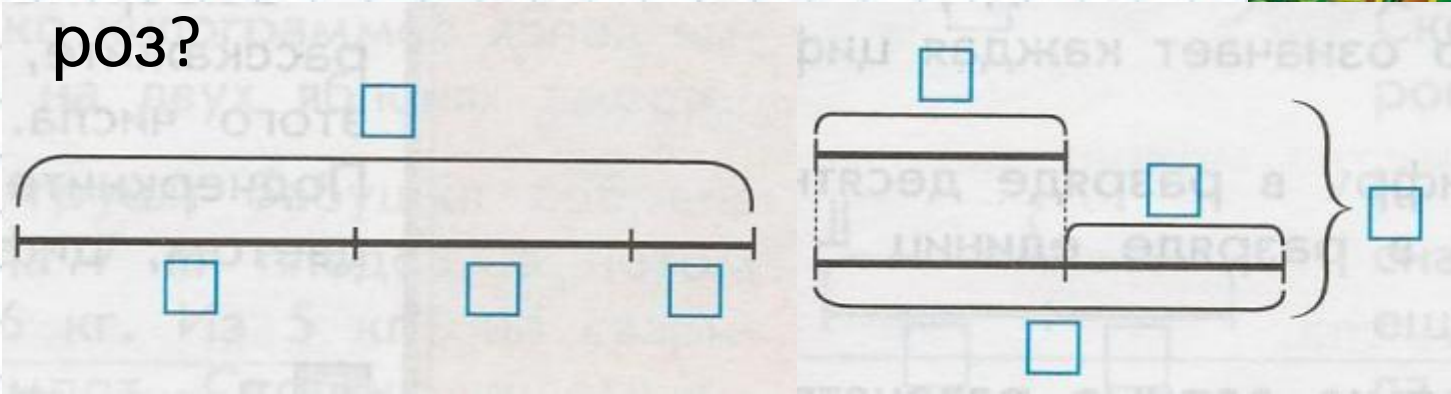



Урок-путешествие «Сложение и вычитание чисел в пределах 20»

**Каверина Алла Ивановна,
учитель начальных
классов
ГБОУ СОШ № 1010
г. Москва**



Мальвина поставила в вазу 5 белых роз, 4 красных и несколько розовых. Сколько розовых цветков в вазе, если всего в ней 11 роз?



Николай НОСОВ

**ПРИКЛЮЧЕНИЯ
НЕЗНАЙКИ
И ЕГО ДРУЗЕЙ**





$$7 - 3 = 4$$

$$6 + 9 = 14$$

$$10 - 5 = 5$$


$$9 + 2 = 11$$

$$5 + 6 = 12$$

$$12 - 5 = 6$$

$$7 + 4 = 11$$

$$6 + 8 = 13$$





МОЛОДЦ

