

# Урок математики в 1 классе.

Решаем задачи.

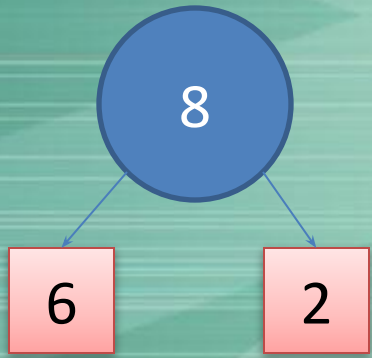
$$2+2=4$$







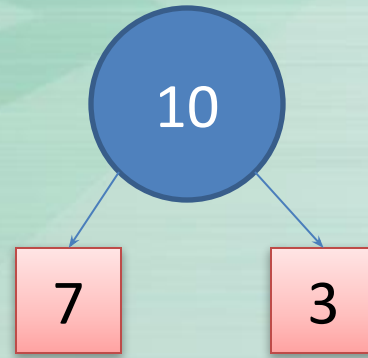
ALLDAY.RU



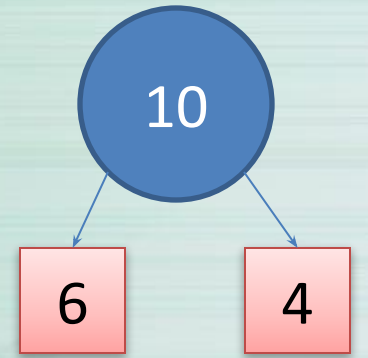
$$8 - 6 = \square$$



$$9 - 2 = \square$$

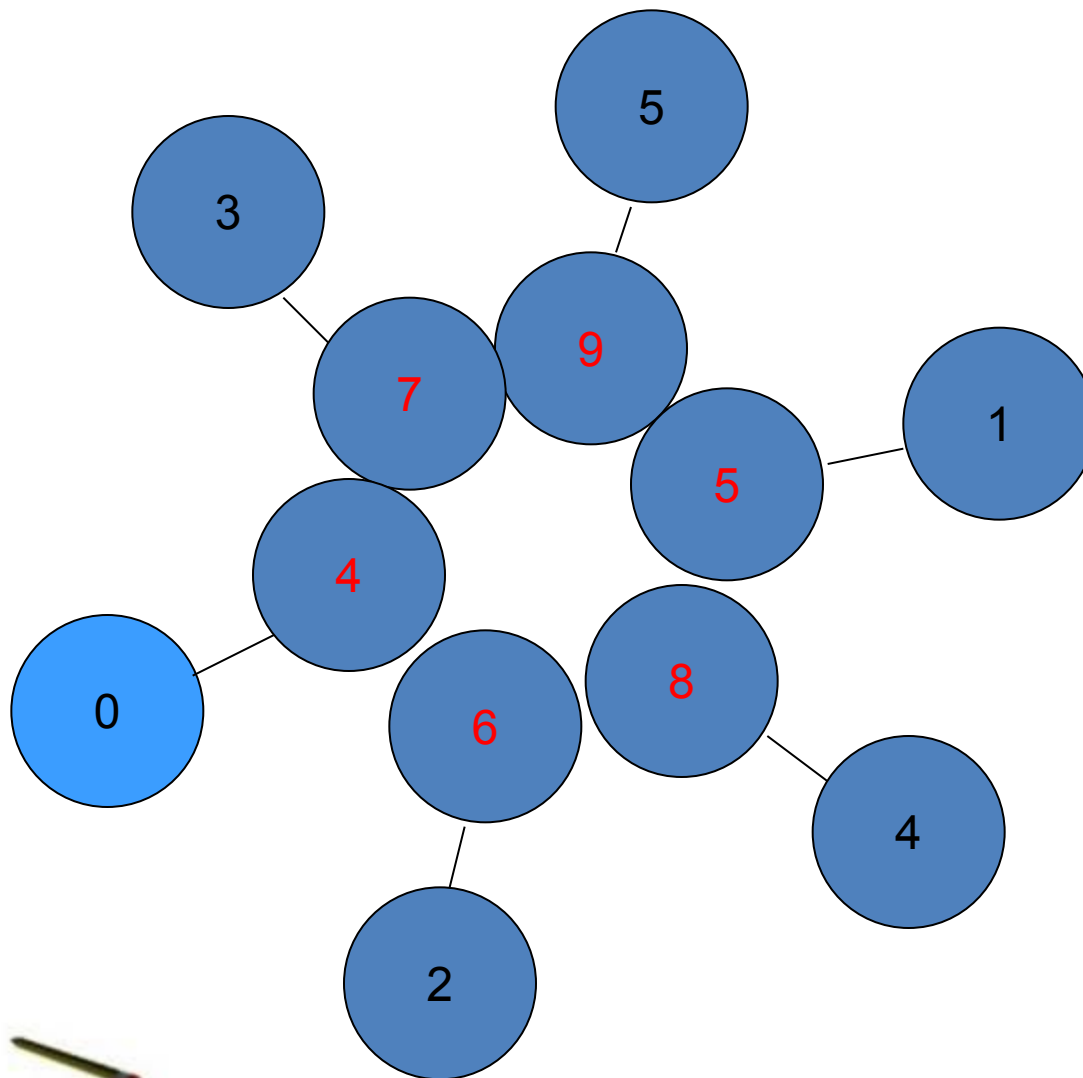


$$10 - 7 = \square$$

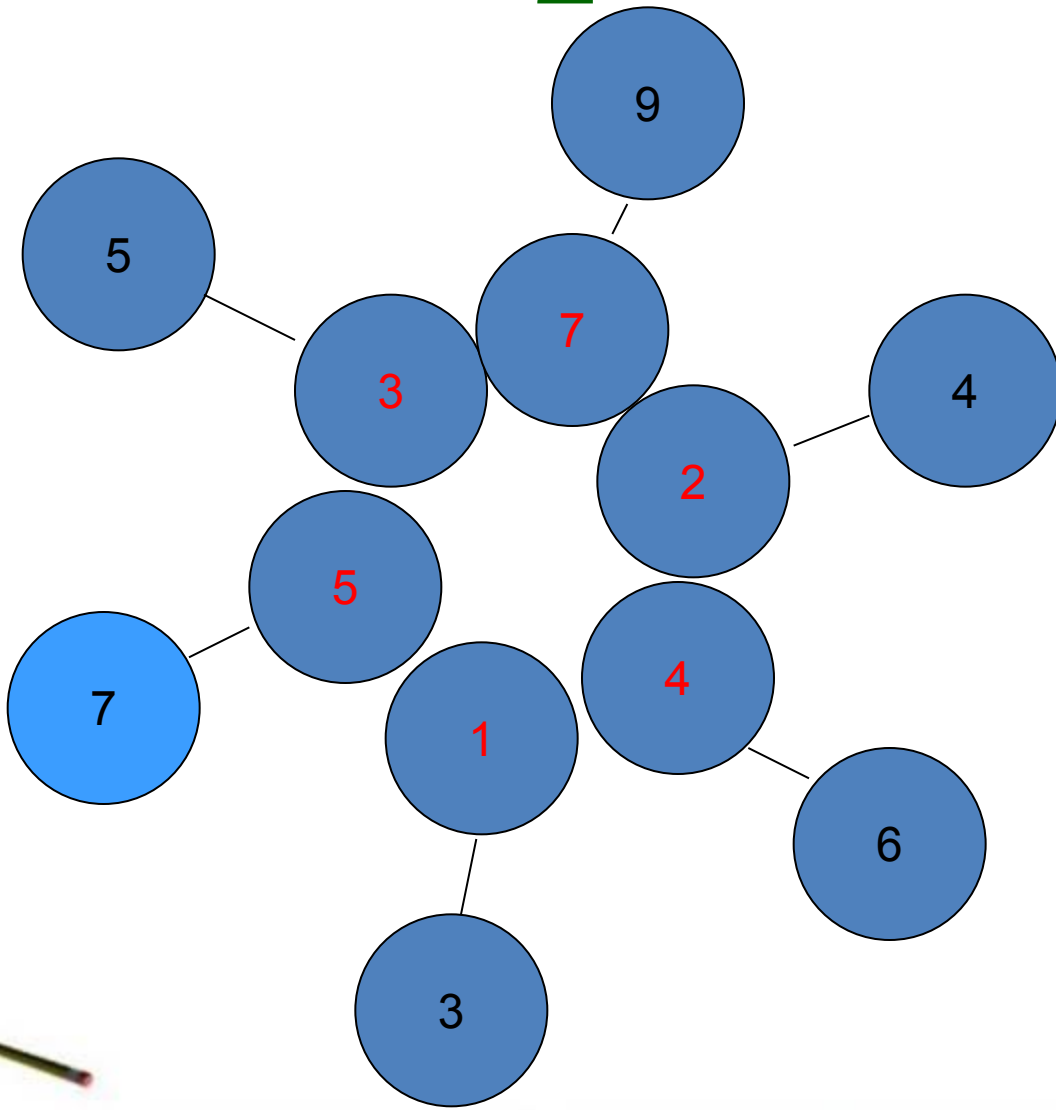


$$10 - 6 = \square$$

# Увеличь каждое из чисел на 4




# Уменьши каждое из чисел на 2



УСЛОВИ  
ВОПРО  
С  
КВАДРА  
Т



# ЗАДАЧА



$$2+5=7$$

Ответ: 7

гусей



# Реши задачи:

**Пять** ежей – с лукошками,  
**Три** ежа – с гармошками.  
Сколько среди сосен  
Ежей гуляет?

$$5 + 3 = 8$$



По дорожке мышка шла,  
Четыре яблока несла,  
Два – зайцу отдала,  
Остальные в кладовку убрала.

$$4 - 2 = 2$$



# РАБОТА ПО УЧЕБНИКУ

**СТР. 13, № 1**



# ФИЗМИНУТКА





# РАБОТА В ПАРАХ

**1 группа: стр.13, №2**

**2 группа: 5 + 2**



# ПРОВЕРКА

**№ 2. Задача.**

$$7 - 2 = 5 \text{ (к.)}$$

**Ответ: у Лены осталось 5  
КНИГ.**

$$5 + 2 = 7 \text{ ( )}$$

**Ответ: 7 ... .**







# ПРОВЕРЬ СЕБЯ

$5+3= 8$

$7-3= 4$

$3+4= 7$

$4-2= 2$

$6+2= 8$

$8-1= 7$

$10 - 1 = 9$

$5+ 4 = 9$

$7 + 3 = 10$


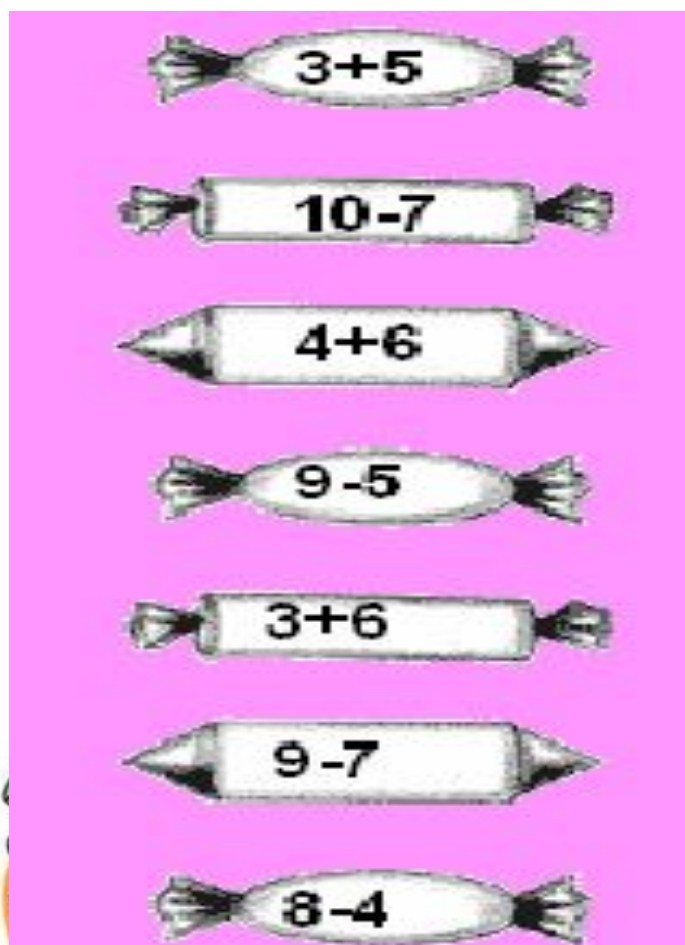
$10 - 2 = 8$

$6 + 4 = 10$

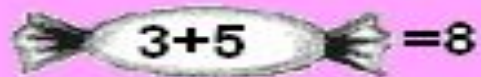
$10 - 5 = 5$



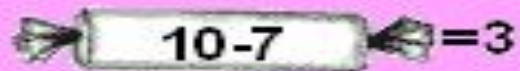
# Самостоятельная работа



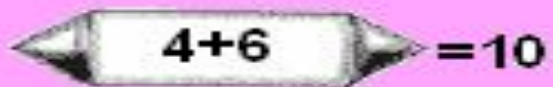
# ПРОВЕРЬ СЕБЯ



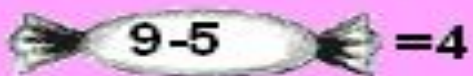
$3+5=8$




$10-7=3$



$4+6=10$



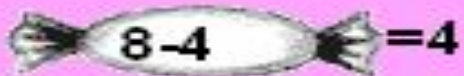
$9-5=4$



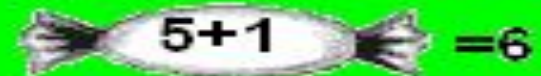
$3+6=9$



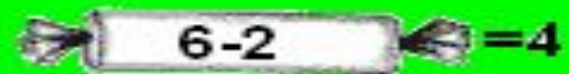
$9-7=2$



$8-4=4$




$5+1=6$



$6-2=4$




$9+1=10$




$3+3=6$



$4-1=3$



$2+2=4$



$8-1=7$